

## فصل اول: تابع


بخش اول: تابع، دامنه و برد

بخش دوم: انتقال، تبدیلات و توابع چندجمله‌ای

بخش سوم: یکنوایی

بخش چهارم: اعمال جبری روی توابع و ترکیب توابع

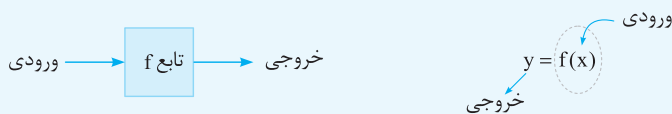
بخش پنجم: یک‌به‌یک و وارون



## بخش اول: تابع، دامنه و برد

### تابع

پرکاربردترین و مهم‌ترین فصل از ریاضی کنکور، تابع است. (فارسی‌ها به آن «function» می‌گویند.) به زبان ساده، تابع یک ماشین است که به ازای هر ورودی، دقیقاً یک خروجی می‌دهد، یعنی نمی‌شود که به این ماشین یک ورودی بدهیم و به ازای آن ورودی، دو خروجی مختلف بگیریم. معمولاً توابع را با حروف کوچک مانند  $f, g, h$  نمایش می‌دهیم. ببینید:



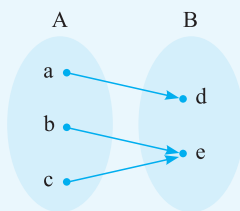
فرم‌های معروف نمایش تابع به یکی از چهار شکل زیر است:

- ۱) نمودار پیکانی
- ۲) زوج مرتب
- ۳) نمودار مختصاتی
- ۴) ضابطه

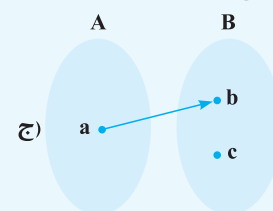
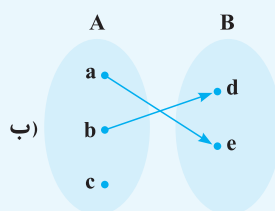
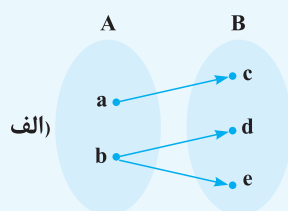
در اینجا می‌خواهیم مفهوم تابع بودن را در هر یک از این فرم‌ها بررسی کنیم:

### ۱) نمودار پیکانی

یک رابطه از مجموعه  $A$  به  $B$  زمانی تابع است که از هر عضو مجموعه  $A$ ، دقیقاً یک فلش خارج شود. برای مثال نمودار پیکانی مقابل تابع است، زیرا از هر عضو  $A$  دقیقاً یک فلش خارج شده است. حواستان باشد اینکه به عضو  $e$  در مجموعه  $B$  دو فلش وارد شده به ما هیچ ارتباطی ندارد.

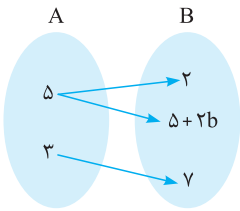
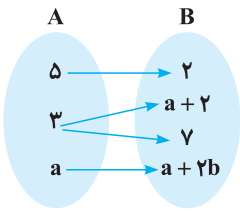


### مثال آموزشی



مطابق توضیحات داده شده، در نمودارهای پیکانی، برای تابع بودن یک رابطه باید از هر عضو مجموعه اول، دقیقاً یک فلش خارج شود. در نظر داشته باشید که مهم نیست به هر عضو مجموعه دوم چه تعداد فلش وارد می‌شود. بنابراین به بررسی موارد داده شده می‌پردازیم:

- (الف) از عضو  $b$ ، ۲ فلش خارج شده است، پس تابع نیست. ✗
- (ب) از عضو  $c$  در مجموعه اول، هیچ فلشی خارج نشده است، پس تابع نیست. ✗
- (ج) از عضو  $a$  در مجموعه اول، یک فلش خارج شده، پس تابع است. ✓



۱ نمودار پیکانی زیر مربوط به یک تابع است. مقدار  $a + b$  کدام است؟

$-\frac{3}{2}$  (۲)  
۴ (۴)

$\frac{13}{2}$  (۱)  
 $\frac{7}{2}$  (۳)

باسخ گزینه ۳ مطابق نمودار پیکانی داده شده از عدد ۳ دو فلش خارج شده که یکی به  $a + 2$  و دیگری به ۷ رفته است، پس برای تابع بودن داریم:  
با جای گذاری  $a = 5$  در نمودار پیکانی داده شده، دو تا ۵ در مجموعه A به وجود می آید و نمودار پیکانی به صورت مقابل رسم می شود، پس داریم:

حالا دوباره برای تابع بودن این نمودار، باید دو مقدار ۲ و  $5 + 2b$  با همدیگر برابر باشند (هله؟)، پس  $5 + 2b = 2$  و در نتیجه  $b = -\frac{3}{2}$  است. در آخر خواسته مسئله برابر  $\frac{7}{2} - \frac{3}{2} = \frac{4}{2} = 2$  می باشد.

این هم یک تست ترکیبی از تابع و شمارش!

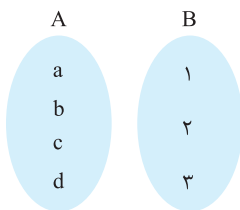
۲ تعداد توابع از مجموعه چهارعضوی A به مجموعه سه عضوی B چندتا است؟

۶۴ (۴)

۲۷ (۳)

۸۱ (۲)

۴ (۱)



باسخ گزینه ۲ اعضای مجموعه چهارعضوی A را به صورت a, b, c و d و اعضای مجموعه سه عضوی B را به صورت ۱، ۲، ۳ و در نظر می گیریم. این هم شکلش:  
مطابق نمودار رسم شده، برای هر یک از اعضای مجموعه A یعنی a, b, c و d سه حالت مختلف داریم (یا به ۱ می روند، یا به ۲ و یا به ۳)، پس تعداد کل حالت ها طبق اصل ضرب برابر  $3^4 = 81$  می شود.  
(هواستون باشه هنگامی که a به عدد ۱ میره، b و c می تونن به ۱ برن و هیچ مشکلی پیش نمیارن.)  
بعضی ها هم هستند که این جمله را حفظ می کنند: «تعداد توابع از یک مجموعه n عضوی به یک مجموعه m عضوی، برابر  $m^n$  است.»

### ۲ زوج مرتب

به هر دوتایی به شکل  $(a, b)$  زوج مرتب می گوییم که در آن a را مؤلفه اول و b را مؤلفه دوم می نامیم. همچنین شرط آن که دو تا زوج مرتب  $(a, b)$  و  $(c, d)$  با هم برابر باشد آن است که  $a = c$  و  $b = d$ .  
برویم سراغ تعریف تابع بودن از روی زوج مرتب!  
هر رابطه به صورت مجموعه ای از زوج مرتب ها، زمانی تابع است که مؤلفه های اولشان تکراری نباشد. حالا اگر مؤلفه های اول تکراری بودند، برای تابع بودن باید مؤلفه های دوم نظیرشان با هم برابر باشند. برای مثال رابطه  $R_1 = \{(1, 2), (2, 2), (3, 5)\}$  تابع است. (اینکه مؤلفه های دوم تکراری باشن، مهم نیست) ولی رابطه  $R_2 = \{(2, 4), (2, 0)\}$  تابع نیست. (قبوله؟)

۳ اگر رابطه  $R = \{(1, 1), (1, m^2 - 3), (m, 3), (2, 7)\}$  تابع باشد، m کدام است؟

هیچ مقدار m (۴)

$m = \pm 2$  (۳)

$m = -2$  (۲)

$m = 2$  (۱)

باسخ گزینه ۲ با توجه به رابطه داده شده و زوج مرتب ها چون دو مؤلفه اول در زوج مرتب های  $(1, m^2 - 3)$  و  $(1, 1)$  با هم برابرند، بنابراین داریم:

$m^2 - 3 = 1 \Rightarrow m^2 = 4 \Rightarrow m = \pm 2$

حالا باید مقادیر به دست آمده برای m را دوباره در رابطه R جای گذاری کنیم، پس می توان نوشت:

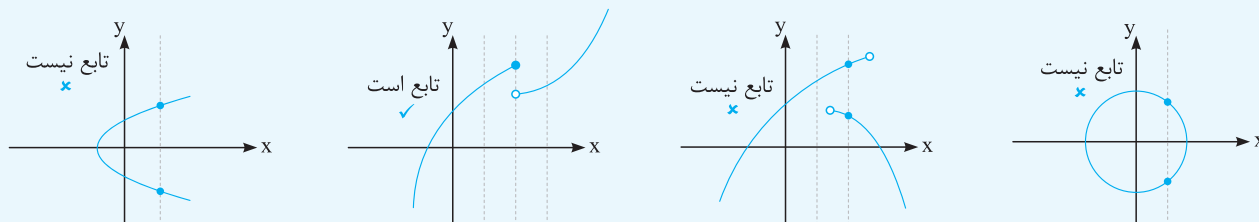
تابع نیست  $m = 2: R = \{(1, 1), (1, 1), (1, 3), (2, 7)\}$  \*

تابع است  $m = -2: R = \{(1, 1), (1, 1), (-2, 3), (2, 7)\}$  ✓



نمودار مختصاتی (۳)

نمودار یک رابطه زمانی تابع است که هر خط موازی محور  $y$ ها، نمودار را حداکثر در یک نقطه قطع کند. برای مثال، شکل های زیر را در نظر بگیرید:



ضابطه (۴)

اگر بتوانیم  $y$  را بر حسب  $x$  به صورت  $y = f(x)$  بنویسیم، آن رابطه حتماً تابع است. برای مثال  $y = x^2 + x + 1$ ،  $y = \sin^2 x - 2x$ ،  $y = 2$  و ... همگی تابع هستند، زیرا به ازای هر  $x$ ، دقیقاً یک  $y$  می دهد.

آیا رابطه های  $y^2 = x^2 + 1$  و  $y^3 = x^2 + 1$  تابع اند؟

برای بررسی تابع بودن یا نبودن رابطه های  $y^2 = x^2 + 1$  و  $y^3 = x^2 + 1$  به ترتیب از طرفین تساوی هایشان رادیکال با فرجه سه و رادیکال با فرجه دو می گیریم، پس می توان نوشت:

$$y^3 = x^2 + 1 \xrightarrow{\sqrt[3]{\quad}} y = \sqrt[3]{x^2 + 1} \quad \checkmark \text{ تابع است}$$

$$y^2 = x^2 + 1 \xrightarrow{\sqrt{\quad}} \sqrt{y^2} = \sqrt{x^2 + 1} \Rightarrow |y| = \sqrt{x^2 + 1} \Rightarrow y = \pm \sqrt{x^2 + 1} \quad \times \text{ تابع نیست}$$

این رابطه تابع نیست، زیرا مثلاً به ازای  $x = 0$ ،  $y$  برابر  $\pm 1$  می شود.

معمولاً ضابطه هایی که در آن ها  $y$  دارای توان زوج، قدرمطلق، جزء صحیح، درون نسبت مثلثاتی (مانند  $\sin y$ ،  $\cos y$  و ...) و یا دارای ضرب متغیر است (مثل  $xy$  و ...)، تابع نیستند. برای مثال رابطه  $|y| = x$  تابع نیست، چرا که مثلاً وقتی  $x = 0$  باشد،  $y$  می تواند  $0$ ،  $\frac{1}{3}$  و  $\frac{1}{4}$  ... شود. (هله؟)

تابع بودن ضابطه های زیر را بررسی کنید.

(الف)  $|y| - x = 0$       (ب)  $xy = \sin x$       (ج)  $y^3 - y = 2x$       (د)  $y^2 + x^2 = 0$

برای اثبات تابع نبودن ضابطه های داده شده از روش مثال نقض استفاده کرده و با عددگذاری کردن، تابع نبودن ضابطه ها را اثبات می کنیم. حالا داریم:

(الف)  $x = 1$  را در عبارت جایگذاری می کنیم. داریم:

به ازای  $x = 1$ ، دو مقدار مختلف برای  $y$  به دست می آید.

(ب)  $x = 0$  را در عبارت جایگذاری می کنیم:

به ازای  $x = 0$ ،  $y$  هر مقداری می تواند باشد (بی شمار نقطه)، پس رابطه تابع نیست.

(ج)  $x = 0$  را در عبارت جایگذاری می کنیم:

تابع نیست  $x = 0 \Rightarrow y^3 - y = 2 \times 0 \Rightarrow y^3 - y = 0 \Rightarrow y(y^2 - 1) = 0 \Rightarrow y = 0, y = \pm 1 \Rightarrow \times$

توجه کنید که به ازای  $x = 0$ ، سه مقدار برای  $y$  به دست آمد، پس تابع نیست.

(د) در این مورد توجه داشته باشید که جمع دو عبارت نامنفی برابر صفر شده است، بنابراین باید تک تک عبارت ها را برابر صفر قرار دهیم. پس داریم:

$y^2 = 0 \Rightarrow y = 0$  ،  $x^2 = 0 \Rightarrow x = 0$

در واقع این رابطه به صورت  $\{(0,0)\}$  است که به وضوح تابع می باشد.

روابطی که به صورت چندضابطه ای هستند زمانی تابع اند که دامنه هایشان اشتراک نداشته باشند، اما در صورتیکه دامنه ها اشتراک داشتند، برای تابع بودن

باید  $x$  های مشترک دامنه، یک  $y$  بدهند نه بیشتر. برای مثال رابطه  $y = \begin{cases} x+2 & x > 2 \\ x^2-1 & x < 4 \end{cases}$  تابع است، زیرا دامنه هایشان اشتراکی ندارد، ولی رابطه  $y = \begin{cases} x+2 & x > 2 \\ x^2-1 & x < 4 \end{cases}$  تابع نیست، زیرا به ازای  $x = 3$ ، دو تا  $y$  به دست می آید یکی  $5$  و دیگری  $8$ . (هله؟)

## فصل دوم: مثلثات

بخش اول: مفاهیم اولیه مثلثات

بخش دوم: فرمول‌های مثلثات

بخش سوم: دوره تناوب و تابع تانژانت

بخش چهارم: معادلات مثلثاتی



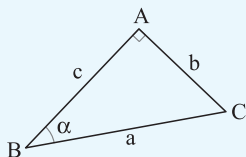
### بخش اول: مفاهیم اولیه مثلثات

#### مثلثات

در ابتدای این بخش، یاد می‌گیریم که چرا این فصل نامش مثلثات است و اینکه ارتباط بین مثلث و مثلثات چیست!

#### نسبت‌های مثلثاتی

در مثلث قائم‌الزاویه  $ABC$ ، برای زاویه حاده  $\alpha$  رابطه‌های زیر برقرار هستند:



$$\sin \alpha = \frac{\text{ضلع مقابل}}{\text{وتر}} = \frac{b}{c}$$

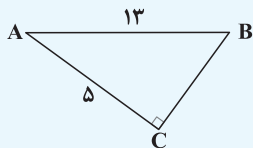
$$\cos \alpha = \frac{\text{ضلع مجاور}}{\text{وتر}} = \frac{a}{c}$$

$$\tan \alpha = \frac{\text{ضلع مقابل}}{\text{ضلع مجاور}} = \frac{b}{a}$$

$$\cot \alpha = \frac{\text{ضلع مجاور}}{\text{ضلع مقابل}} = \frac{a}{b}$$

توجه کنید که  $\tan \alpha$  و  $\cot \alpha$  معکوس هم هستند و می‌دانیم  $\tan \alpha = \frac{\sin \alpha}{\cos \alpha}$  و  $\cot \alpha = \frac{\cos \alpha}{\sin \alpha}$ ؛ دلیلش را هم ببینید:

$$\frac{\sin \alpha}{\cos \alpha} = \frac{\frac{\text{ضلع مقابل}}{\text{وتر}}}{\frac{\text{ضلع مجاور}}{\text{وتر}}} = \frac{\text{ضلع مقابل}}{\text{ضلع مجاور}} = \tan \alpha \quad , \quad \frac{\cos \alpha}{\sin \alpha} = \frac{\frac{\text{ضلع مجاور}}{\text{وتر}}}{\frac{\text{ضلع مقابل}}{\text{وتر}}} = \frac{\text{ضلع مجاور}}{\text{ضلع مقابل}} = \cot \alpha$$



**مثال آموزشی** در شکل مقابل، حاصل  $\frac{\tan \hat{A} + \cot \hat{B}}{\cos \hat{A} + \sin \hat{B}}$  را به دست آورید.

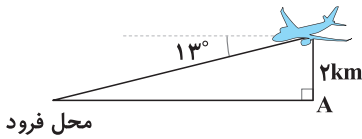
**یادمان** قبل از هرکاری به کمک فیثاغورس، اندازه ضلع  $BC$  را به دست می‌آوریم:

$$AB^2 = AC^2 + BC^2 \Rightarrow (13)^2 = (5)^2 + BC^2 \Rightarrow BC^2 = 144 \Rightarrow BC = 12$$

حالا طبق مطالب گفته شده، حاصل عبارت خواسته شده را پیدا می‌کنیم:

$$\begin{cases} \tan \hat{A} = \frac{BC}{AC} = \frac{12}{5} \quad , \quad \cot \hat{B} = \frac{BC}{AC} = \frac{12}{5} \\ \cos \hat{A} = \frac{AC}{AB} = \frac{5}{13} \quad , \quad \sin \hat{B} = \frac{AC}{AB} = \frac{5}{13} \end{cases} \Rightarrow \frac{\tan \hat{A} + \cot \hat{B}}{\cos \hat{A} + \sin \hat{B}} = \frac{\frac{12}{5} + \frac{12}{5}}{\frac{5}{13} + \frac{5}{13}} = \frac{\frac{24}{5}}{\frac{10}{13}} = \frac{312}{50} = \frac{156}{25}$$





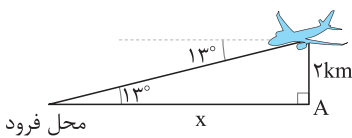
۱ یک هواپیما در ارتفاع ۲ km از سطح زمین در حال فرود آمدن است. اگر زاویهٔ هواپیما با افق حدوداً  $13^\circ$  باشد، هواپیما تقریباً در چه فاصله‌ای از A فرود می‌آید؟ ( $\tan 13^\circ = 0.23$ )

۲/۹ [۲]

۷/۷ [۱]

۸/۹ [۴]

۸/۷ [۳]



۳ پاسخ گزینه ۳ با توجه به شکل، زاویه‌ای که راستای حرکت هواپیما با سطح زمین می‌سازد هم  $13^\circ$  است (بلی؟). پس به کمک تانژانت این زاویه در مثلث قائم‌الزاویهٔ مقابل داریم:

$$\tan 13^\circ = \frac{2}{x} \xrightarrow{\tan 13^\circ = 0.23} \frac{23}{100} = \frac{2}{x} \Rightarrow 23x = 200 \Rightarrow x = \frac{200}{23} \approx 8.7$$

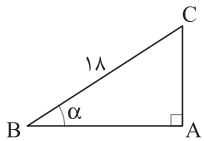
۲ در یک مثلث قائم‌الزاویه با وتر ۱۸، سینوس یکی از زاویه‌ها  $\frac{1}{3}$  است. محیط این مثلث کدام است؟

۶( $\sqrt{2} + 1$ ) [۴]

۱۲( $\sqrt{2} + 2$ ) [۳]

۱۲( $\sqrt{2} + 1$ ) [۲]

۶( $\sqrt{2} + 2$ ) [۱]



$$\sin \alpha = \frac{AC}{BC} \xrightarrow{\sin \alpha = \frac{1}{3}} \frac{1}{3} = \frac{AC}{18} \Rightarrow 3AC = 18 \Rightarrow AC = 6$$

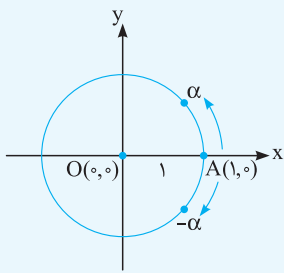
۳ پاسخ گزینه ۳ با توجه به شکل مقابل و اینکه  $\sin \alpha = \frac{\text{ضلع مقابل}}{\text{وتر}}$  می‌توان نوشت:

از طرفی طبق قضیهٔ فیثاغورس در این مثلث داریم:

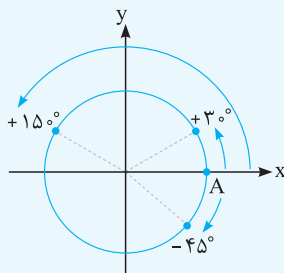
$$BC^2 = AC^2 + AB^2 \Rightarrow (18)^2 = (6)^2 + (AB)^2 \Rightarrow 324 = 36 + (AB)^2 \Rightarrow (AB)^2 = 288 \Rightarrow AB = \sqrt{288} = 12\sqrt{2}$$

در نهایت محیط این مثلث برابر با  $AB + AC + BC = 12\sqrt{2} + 6 + 18 = 12(\sqrt{2} + 2)$  است.

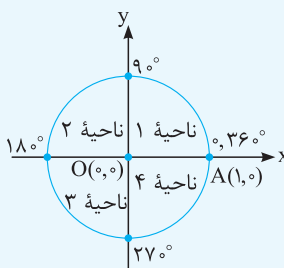
### دایرهٔ مثلثاتی



تمام مطالبی که در مثلثات بلدید، یک طرف، دایرهٔ مثلثاتی طرف دیگر! (هرکی دایره رو قورت نده از ما نیست). دایرهٔ مثلثاتی دایره‌ای است به شعاع ۱، که مرکز آن نقطه  $O(0,0)$ ، نقطهٔ شروع آن  $A(1,0)$  و جهت حرکت در این دایره، خلاف جهت عقربه‌های ساعت است که در اصطلاح به آن پادساعتگرد هم گفته می‌شود. شکل آن هم به صورت مقابل است:



به بیان دیگر، اگر در این دایره با شروع از مبدأ (A) پادساعتگرد حرکت کنیم، زاویهٔ مان مثبت و اگر ساعتگرد حرکت کنیم، زاویهٔ مان منفی می‌شود. شکل مقابل را هم ببینید:



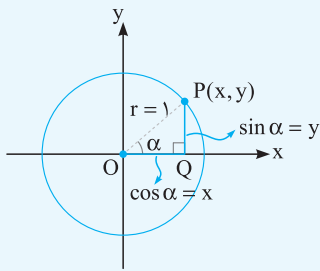
همان طور که در شکل‌های بالا دیدید، هر دایرهٔ مثلثاتی از چهار ناحیه تشکیل شده است.



شکل مقابل و همهٔ مخلفاتش را به خوبی به خاطر بسپارید. حواستان باشد که زاویه‌های مشخص شده، زاویهٔ مرزی هستند و جزء هیچ‌کدام از ناحیه‌ها نمی‌باشند.



مثلث قائم الزاویه و نسبت های مثلثاتی که ابتدای فصل، خدمتتان عرض کردیم، دقیقاً در دل دایره مثلثاتی قرار دارند. یکی از شکل های خیلی مفهومی و مهم از مثلثات را ببینید:



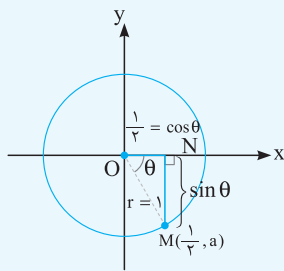
$$\sin \alpha = \frac{PQ}{OP} = \frac{PQ}{1} = PQ, \quad \cos \alpha = \frac{OQ}{OP} = \frac{OQ}{1} = OQ$$

**یک جمله کلیدی:** طول هر نقطه مانند  $P(x, y)$  روی محیط دایره، نشان دهنده  $\cos \alpha$  و عرض آن، نشان دهنده  $\sin \alpha$  است، یعنی:  $P(x, y) = (\cos \alpha, \sin \alpha)$ . این نتیجه گیری هم به لطف قضیه فیثاغورس در مثلث قائم الزاویه OPQ انجام شده است:

$$OQ^2 + QP^2 = OP^2 \Rightarrow \cos^2 \alpha + \sin^2 \alpha = 1$$

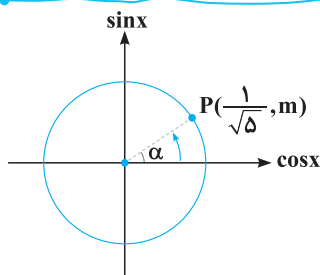
در واقع مجموع مربعات سینوس و کسینوس هر زاویه دلخواهی، برابر یک می شود، مثلاً  $\sin^2 27^\circ + \cos^2 27^\circ = 1$ .

اجازه بدهید یک مثال دیگر هم برایتان بزنیم! فرض کنید نقطه  $M(\frac{1}{4}, a)$  روی محیط دایره مثلثاتی قرار دارد ( $a < 0$ ). پس شکل مقابل را در نظر بگیرید:



طبق حرف هایی که زدیم، طول و عرض نقطه  $M$  به ترتیب برابر کسینوس و سینوس زاویه  $\theta$  است، یعنی  $\cos \theta = \frac{1}{4}$  و  $\sin \theta = a$  پس می توان نوشت:

$$\sin^2 \theta + \cos^2 \theta = 1 \Rightarrow a^2 + (\frac{1}{4})^2 = 1 \Rightarrow a^2 = 1 - \frac{1}{16} = \frac{15}{16} \xrightarrow{a < 0} a = -\frac{\sqrt{15}}{4}$$



**۳** مطابق شکل مقابل، نقطه  $P(\frac{1}{\sqrt{5}}, m)$  روی دایره مثلثاتی است. مجموع طول و عرض نقطه  $Q(\frac{m}{4}, n)$  روی محیط دایره کدام است؟ (P و Q دو نقطه متمایزند).

- $\frac{\sqrt{5}}{5}$  (A)
- $\frac{2\sqrt{5}}{5}$  (B)
- $-\frac{2\sqrt{5}}{5}$  (C)
- $-\frac{\sqrt{5}}{5}$  (D)

**باسخ گزینید ۴** مطابق شکل  $\cos \alpha = \frac{1}{\sqrt{5}}$  و  $\sin \alpha = m$  است، پس طبق رابطه فیثاغورس می توان نوشت:

$$\sin^2 \alpha + \cos^2 \alpha = 1 \Rightarrow m^2 + (\frac{1}{\sqrt{5}})^2 = 1 \Rightarrow m^2 = \frac{4}{5} \xrightarrow{m > 0 \text{ مطابق شکل}} m = \frac{2}{\sqrt{5}}$$

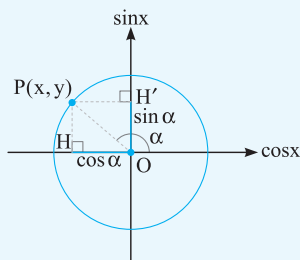
با توجه به  $m$  به دست آمده و فرض مسئله، طول نقطه  $Q$ ، برابر  $\frac{m}{4} = \frac{1}{\sqrt{5}}$  است، پس با فرض آنکه زاویه ایجاد شده برای  $Q$  برابر  $\beta$  است، داریم:

$$\sin^2 \beta + \cos^2 \beta = 1 \xrightarrow{\cos \beta = \frac{1}{\sqrt{5}}} \sin^2 \beta + (\frac{1}{\sqrt{5}})^2 = 1 \Rightarrow \sin^2 \beta = \frac{4}{5} \Rightarrow \sin \beta = \pm \frac{2}{\sqrt{5}}$$

فقط حواستان باشد که  $P$  و  $Q$  یکی نیستند، پس  $\sin \beta = -\frac{2}{\sqrt{5}}$  می شود و این یعنی  $n = \frac{-2}{\sqrt{5}}$ . در نهایت خواسته مسئله، برابر است با:

$$\frac{m}{4} + n = \frac{1}{\sqrt{5}} - \frac{2}{\sqrt{5}} = \frac{-1}{\sqrt{5}} = -\frac{\sqrt{5}}{5}$$

### محورهای سینوس و کسینوس



با توجه به همه حرف هایی که زدیم، از این به بعد محور  $y$  ها را محور سینوس ها و محور  $x$  ها را محور کسینوس ها می نامیم. در واقع برای پیدا کردن نسبت های مثلثاتی یک زاویه، از نقطه نشان دهنده زاویه روی محیط دایره بر محور  $\sin$  ها و  $\cos$  ها عمود می کنیم، در این صورت از مرکز دایره یعنی  $O$  تا پای عمود،  $\sin$  یا  $\cos$  آن زاویه می شود.

$$\begin{cases} OH' = \sin \alpha \\ OH = \cos \alpha \end{cases}$$

این هم شکلش:

همان طور که در شکل بالا می بینید، اگر زاویه ای در ناحیه دوم باشد،  $\sin \alpha > 0$  ولی  $\cos \alpha < 0$  است، در نتیجه  $\tan \alpha$  و  $\cot \alpha$  هم منفی هستند (پرا اون وقت؟)





پیدا کردن باقی مانده بدون انجام تقسیم

باقی مانده تقسیم چند جمله‌ای  $f(x)$  بر  $ax + b$  برابر  $r = f(-\frac{b}{a})$  است.

به زبان ساده، ریشه مقسوم علیه یعنی  $ax + b = 0$  را به دست می‌آوریم ( $x = -\frac{b}{a}$ ) و عدد به دست آمده را در مقسوم جای گذاری می‌کنیم. مقدار حاصل، همان باقی مانده تقسیم  $f(x)$  بر  $ax + b$  است.

**مثال آموزشی** باقی مانده تقسیم چند جمله‌ای  $f(x) = x^{10} + x^9 - 2x^{11} + 3x^6 + 2$  بر  $x + 1$  را به دست آورید.

**پاسخ** به دست آوردن باقی مانده تقسیم بدون استفاده از قضیه بالا خیلی خیلی طولانیه 😞

اما به کمک قضیه به راحتی، ریشه مقسوم علیه یعنی معادله  $x + 1 = 0$  را به دست می‌آوریم ( $x = -1$ ) و سپس این مقدار را در  $f(x)$  جای گذاری می‌کنیم، پس داریم:

$$r = f(-1) = (-1)^{10} + (-1)^9 - 2(-1)^{11} + 3(-1)^6 + 2 = 1 - 1 + 2 + 3 + 2 = 7$$

پس باقی مانده تقسیم  $f(x)$  بر  $x + 1$  برابر 7 است.

**۱** باقی مانده تقسیم  $P(x) = x^4 + ax^2 + x - 2$  بر  $x + 2$  برابر 8 است. مقدار  $a + \frac{1}{a}$  کدام است؟

- ۱) -1      ۲) -2      ۳)  $-\frac{1}{2}$       ۴)  $-\frac{9}{4}$

**پاسخ گزینه ۲** ریشه مقسوم علیه  $x = -2$  است، پس طبق قضیه گفته شده  $P(-2) = 8$  می‌باشد، داریم:

$$P(-2) = (-2)^4 + a(-2)^2 - 2 - 2 = 16 + 4a - 4 = 8 \Rightarrow 4a = -4 \Rightarrow a = -1$$

در نهایت مقدار  $a + \frac{1}{a} = -1 - 1 = -2$  می‌باشد.

**تذکر** اگر چند جمله‌ای  $P(x)$  بر  $ax + b$  بخش پذیر باشد،  $ax + b$  را یک عامل یا فاکتور برای  $P(x)$  می‌نامیم.

**۲** اگر  $x - 1$  یک عامل برای  $P(x) = x^3 - x^2 + ax + 27$  باشد، مجموع ریشه‌های معادله  $P(x) = 0$  کدام است؟

- ۱) 3      ۲) 4      ۳) -2      ۴) 6

**پاسخ گزینه ۲**  $x - 1$  یک عامل برای  $P(x)$  است، یعنی  $P(x)$  بر  $x - 1$  بخش پذیر است. پس می‌توان نوشت:

$$x - 1 = 0 \Rightarrow x = 1: P(1) = 0 \Rightarrow (1)^3 - (1)^2 + a(1) + 27 = 0 \Rightarrow a = -27$$

حالا باید مجموع ریشه‌های معادله  $x^3 - x^2 - 27x + 27 = 0$  را به دست آوریم که به کمک فاکتورگیری داریم:

$$x^3(x-1) - 27(x-1) = 0 \Rightarrow (x-1)(x^3 - 27) = 0 \Rightarrow \begin{cases} x-1=0 \Rightarrow x=1 \\ x^3=27 \Rightarrow x=3 \end{cases}$$

در نتیجه مجموع ریشه‌های معادله  $P(x) = 0$  برابر 4 است.

**۳** اگر باقی مانده تقسیم چند جمله‌ای  $P(x) = x^4 + ax^2 - bx + 1$  بر  $x - 1$  و  $x + 1$  به ترتیب 2 و -2 باشند، باقی مانده تقسیم  $f(x) = ax^2 + bx - 1$

بر  $x - 3$  کدام است؟

- ۱) 23      ۲) 17      ۳) -25      ۴) -13

**پاسخ گزینه ۳** باقی مانده تقسیم  $P(x)$  بر  $x - 1$  و  $x + 1$  به ترتیب 2 و -2 است، پس می‌توان نوشت:

$$\begin{cases} P(1) = 2 \Rightarrow (1)^4 + a(1)^2 - b + 1 = 2 \\ P(-1) = -2 \Rightarrow (-1)^4 + a(-1)^2 + b + 1 = -2 \end{cases} \Rightarrow \begin{cases} a - b = 0 \\ a + b = -4 \end{cases} \Rightarrow 2a = -4 \Rightarrow a = -2, b = -2$$

در نتیجه ضابطه  $f(x)$  به صورت  $f(x) = -2x^2 - 2x - 1$  است که باقی مانده تقسیم آن بر  $x - 3$  همان  $f(3)$  می‌باشد، پس داریم:

$$r = f(3) = -2(3)^2 - 2(3) - 1 = -18 - 6 - 1 = -25$$

**۴** اگر  $P(2x + 1) = x^4 + (a - 1)x^3 + ax - 2$  باشد و باقی مانده تقسیم  $P(x + 1)$  بر  $x - 2$  برابر 5 باشد، مقدار  $a$  کدام است؟

- ۱)  $\frac{5}{2}$       ۲) 3      ۳)  $\frac{7}{2}$       ۴) 4



## فصل پنجم: کاربرد مشتق


بخش اول: یکنوایی

بخش دوم: نقطه بحرانی

بخش سوم: اکسترمم نسبی

بخش چهارم: اکسترمم مطلق

بخش پنجم: بهینه‌سازی



## بخش اول: یکنوایی

### یکنوایی

وضعیت یکنوایی توابع را از دو دیدگاه می‌توان بررسی کرد. یکی از دیدگاه علم تابع و دیگری کاربرد مشتق. ماجرا به این صورت است که علم تابع خیلی اوقات توانایی بررسی یکنوایی یک تابع را ندارد، در این حالت کاربرد مشتق نقش آفرینی می‌کند. توصیه می‌کنم قبل از ورود به تعیین یکنوایی به کمک مشتق، درسنامه زیر را که خلاصه‌ای از یکنوایی از نگاه تابع است با دقت مطالعه کنید.

### یادآوری

#### یادآوری از فصل تابع

در فصل تابع گفتیم اگر با افزایش  $x$ ، مقدار تابع زیاد شود، تابع اکیداً صعودی و اگر با افزایش  $x$ ، مقدار تابع کم شود، تابع اکیداً نزولی است. همچنین سه حالت معروف زیر را بررسی کردیم:

- توابع **پند ضابطه‌ای، براکتی و قدرمطلق**: برای تعیین یکنوایی این توابع معمولاً از رسم نمودارشان کمک می‌گیریم.
- توابع **به فرم  $f(x) = ax^2 + bx + c$  (سه‌می)**: این توابع با توجه به نمودارشان که به یکی از دو صورت یا است، غیر یکنوا هستند، اما اگر دامنه‌شان را به بازه‌ای محدود کنیم که طول رأس سهمی  $(x_S = \frac{-b}{2a})$  درون بازه نباشد، تابع اکیداً یکنوا می‌شود:

**الف**  $a > 0$ :

$$\begin{cases} x \geq \frac{-b}{2a} \Rightarrow f(x) \text{ اکیداً صعودی} \\ x \leq \frac{-b}{2a} \Rightarrow f(x) \text{ اکیداً نزولی} \end{cases}$$

**ب**  $a < 0$ :

$$\begin{cases} x \geq \frac{-b}{2a} \Rightarrow f(x) \text{ اکیداً نزولی} \\ x \leq \frac{-b}{2a} \Rightarrow f(x) \text{ اکیداً صعودی} \end{cases}$$

**۳** توابع **به فرم  $f(x) = \frac{ax+b}{cx+d}$  (هموگرافیک)**: این توابع با توجه به نمودارشان که به یکی از دو صورت یا است، غیر یکنوا می‌باشند.

(مشکل، ریشه مفروضه) اما اگر دامنه‌شان را به بازه‌ای محدود کنیم که ریشه مخرج  $(x = -\frac{d}{c})$  درون بازه نباشد، تابع اکیداً یکنوا می‌شود:

**الف**  $ad - bc < 0$ :

$$\begin{cases} x > -\frac{d}{c} \Rightarrow f(x) \text{ اکیداً نزولی} \\ x < -\frac{d}{c} \Rightarrow f(x) \text{ اکیداً صعودی} \end{cases}$$

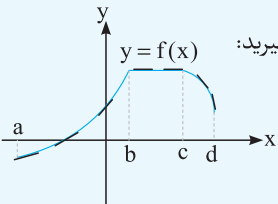
**ب**  $ad - bc > 0$ :

$$\begin{cases} x > -\frac{d}{c} \Rightarrow f(x) \text{ اکیداً صعودی} \\ x < -\frac{d}{c} \Rightarrow f(x) \text{ اکیداً نزولی} \end{cases}$$



در واقع اگر  $ad - bc < 0$ ، نمودار، دو شاخه نزولی همچنین اگر  $ad - bc > 0$ ، نمودار، دو شاخه صعودی دارد، اما تابع هموگرافیک در کل غیریکنوا است. خلاصه این که برای بررسی یکنوایی توابعی از جمله چند ضابطه‌ای، جزء صحیح، قدرمطلق، سهمی و هموگرافیک معمولاً از تکنیک‌های بالا استفاده می‌کنیم و در سایر توابع سراغ مشتق می‌رویم.

### ارتباط بین یکنوایی و مشتق



می‌دانیم که مشتق یک تابع، همان شیب خط مماس بر نمودار تابع است. حالا تابع مقابل و خطوط مماس روی آن را در نظر بگیرید: همان طور که می‌بینید در بازه  $(a, b)$  که نمودار تابع اکیداً صعودی است، شیب خط مماس بر تابع  $f'(x)$  مثبت بوده و همچنین در بازه  $(b, c)$  که نمودار تابع ثابت است، شیب خط مماس بر تابع صفر و در نهایت در بازه  $(c, d)$  تابع نزولی و  $f'(x)$  در این بازه منفی است. پس می‌توان ارتباط بین یکنوایی و مشتق را به کمک قضیه زیر به خوبی نشان داد.

**قضیه یکنوایی:** فرض کنید تابع  $y = f(x)$  در بازه  $I$  مشتق پذیر باشد، داریم:

۱) تابع  $f(x)$  اکیداً صعودی است، هرگاه برای هر  $x \in I$  داشته باشیم:  $f'(x) > 0$ .

۲) تابع  $f(x)$  اکیداً نزولی است، هرگاه برای هر  $x \in I$  داشته باشیم:  $f'(x) < 0$ .

۳) تابع  $f(x)$  ثابت است، هرگاه برای هر  $x \in I$  داشته باشیم:  $f'(x) = 0$ .

**مثال آموزشی:** اگر  $f(x) = x^2 + 2x$  باشد، وضعیت یکنوایی این تابع را در دامنه‌اش بررسی کنید.

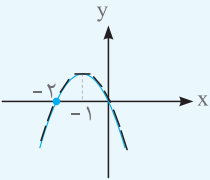
$$f(x) = x^2 + 2x \Rightarrow f'(x) = 2x + 2$$

**پاسخ:** برای مشخص کردن وضعیت یکنوایی تابع  $f(x)$ ، ابتدا از آن مشتق می‌گیریم، پس داریم:

حالا برای آنکه متوجه شویم  $f'(x)$  در چه بازه‌هایی مثبت یا منفی است، تابع  $f'(x)$  را تعیین علامت می‌کنیم، پس می‌توان نوشت:

$$f'(x) = 2x + 2 = 0 \Rightarrow x = -1$$

$x$	$-\infty$	$-1$	$+\infty$
$f'(x)$	$-$	$0$	$+$

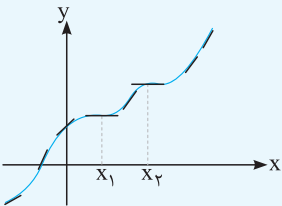


همان طور که می‌بینید در بازه  $(-1, +\infty)$ ،  $f'(x) > 0$  است، پس تابع  $f(x)$  در این بازه اکیداً صعودی است. همچنین در بازه  $(-\infty, -1)$ ،  $f'(x) < 0$  است، پس  $f(x)$  در این بازه اکیداً نزولی می‌باشد.

دیدن نمودار تابع  $f(x) = x^2 + 2x$  خالی از لطف نیست:

همان طور که از روی نمودار تابع  $f(x)$  می‌بینید، این تابع در بازه  $(-\infty, -1)$  اکیداً صعودی و در بازه  $(-1, +\infty)$  اکیداً نزولی است (عکس).

در تکمیل مطالب قبل بهتر است بدانید که اگر در یک بازه،  $f'(x) > 0$  و همچنین در تعداد متناهی نقطه  $f'(x) = 0$  باشد، تابع  $y = f(x)$  باز هم اکیداً صعودی است. برای مثال نمودار تابع  $y = f(x)$  را به صورت زیر در نظر بگیرید:

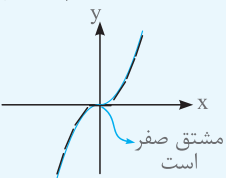


همان طور که می‌بینید تابع روبه‌رو، تابعی اکیداً صعودی است. این در حالی است که این تابع در دو نقطه به طول‌های  $x_1$  و  $x_2$  مماس افقی دارد، یعنی  $f'(x_1) = f'(x_2) = 0$ .

**مثال آموزشی:** یکنوایی تابع  $y = x^3$  را در دامنه‌اش بررسی کنید.

**پاسخ:** مشتق تابع  $y = x^3$  برابر با  $y' = 3x^2$  است. همان طور که می‌دانید مشتق این تابع مثبت است و فقط به ازای

$x = 0$  برابر صفر می‌شود. حواستان باشد چون تعداد نقاطی که مشتق برابر صفر می‌شود متناهی است (اینجا فقط  $x = 0$  در نتیجه تابع  $y = x^3$  اکیداً صعودی است. این هم شکلش:

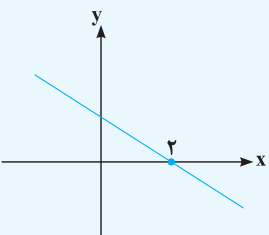


**مثال آموزشی:** نمودار تابع  $f'(x)$  به صورت مقابل است. مقادیر  $f(0)$ ،  $f(1)$  و  $f(-2)$  را با هم مقایسه کنید.

**پاسخ:** با توجه به نمودار مقابل، واضح است که  $f'(x)$  در بازه  $(-\infty, 2)$  مثبت (بالای محور  $x$ ‌ها) و در بازه  $(2, +\infty)$  منفی

است و این یعنی  $f(x)$  در بازه  $(-\infty, 2)$  اکیداً صعودی می‌باشد، پس می‌توان نوشت:

$$-2 < 0 < 1 \Rightarrow f(-2) < f(0) < f(1)$$





۱ اگر  $f'(x) = -x^2 + 5x - 4$ ، نمودار تابع  $y = f(x)$  کدام است؟



پاسخ گزینه ۲ برای تعیین نمودار تابع  $f(x)$  باید  $f'(x)$  را تعیین علامت کنیم، پس داریم:

$$f'(x) = -x^2 + 5x - 4 = 0 \xrightarrow{\text{مجموع ضرایب صفر است}} x_1 = 1, x_2 = 4$$

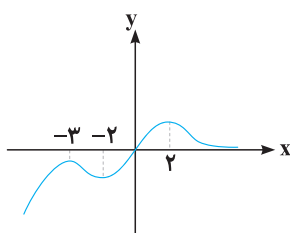
$x$	$-\infty$	$1$	$4$	$+\infty$
$f'(x)$	$-$	$+$	$-$	$+$

همان طور که می‌دانیم علامت مشتق نشان دهنده وضعیت یکنوایی تابع است پس با توجه به جدول تعیین علامت بالا می‌توان نوشت:

$$\begin{cases} x < 1 \Rightarrow f(x) \text{ اکیداً نزولی} \\ 1 < x < 4 \Rightarrow f(x) \text{ اکیداً صعودی} \\ x > 4 \Rightarrow f(x) \text{ اکیداً نزولی} \end{cases}$$

پس نمودار تابع  $f(x)$  به صورت به صورت است.

۲ نمودار تابع  $y = f(x)$  به صورت زیر است. طول بزرگ‌ترین بازه حاصل از حل نامعادله  $ff' \geq 0$  کدام است؟



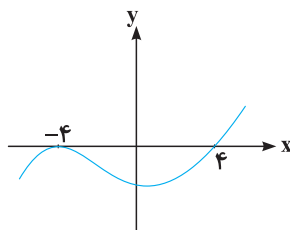
- ۱
- ۲
- ۴
- $\infty$

پاسخ گزینه ۲ جواب حاصل از حل نامعادله  $ff' \geq 0$  به یکی از دو صورت زیر است:

$$ff' \geq 0 \Rightarrow \begin{cases} f \geq 0, f' \geq 0 \Rightarrow y \text{ نامنفی و تابع صعودی} \\ f \leq 0, f' \leq 0 \Rightarrow y \text{ نامثبت و تابع نزولی} \end{cases}$$

با توجه به نمودار داده شده، بازه‌ای که در آن هم مقادیر تابع نامنفی و هم تابع در آن بازه صعودی است، بازه  $[0, 2]$  و همچنین بازه‌ای که هم مقادیر تابع نامثبت و هم تابع در آن بازه نزولی است، بازه  $[-3, -2]$  می‌باشد. پس بزرگ‌ترین بازه برای جواب نامعادله  $ff' \geq 0$  است که طول آن ۲ است.

۳ نمودار تابع  $f'(x)$  به صورت زیر است. اگر بزرگ‌ترین بازه‌ای که  $f(x)$  در آن اکیداً نزولی است، بازه  $(-\infty, m^2 - 5)$  باشد، چند عدد صحیح بین



مقادیر به دست آمده برای  $m$  وجود دارد؟

- ۳
- ۱
- ۵
- ۷

پاسخ گزینه ۳ می‌دانیم هرگاه نمودار تابع  $f'(x)$  زیر محور  $x$ ها باشد، یعنی  $f'(x) < 0$  و تابع  $y = f(x)$  اکیداً نزولی می‌باشد، از طرفی گفتیم که صفر شدن مشتق

در تعداد متناهی نقطه وضعیت اکیداً یکنوایی یک تابع را به هم نمی‌زند، پس مطابق شکل، تابع  $f(x)$  روی بازه  $(-\infty, 4]$  اکیداً نزولی است و داریم:

$$m^2 - 5 = 4 \Rightarrow m^2 = 9 \Rightarrow m = \pm 3$$

در نهایت عددهای صحیح بین دو عدد  $\pm 3$ ،  $\{0, \pm 1, \pm 2, \pm 3\}$  هستند که تعدادشان ۵ تا است.

### تکنیک تعیین وضعیت یکنوایی توابع مشتق‌پذیر




برای مشخص کردن وضعیت یکنوایی یک تابع مراحل زیر را انجام می‌دهیم:

- ۱ دامنه تابع را به دست می‌آوریم.
- ۲ مشتق گرفته و در صورت نیاز مخرج مشترک می‌گیریم.
- ۳  $f'(x)$  را تعیین علامت می‌کنیم (به این جدول، جدول رفتار یا جدول تغییرات تابع گفته می‌شود).
- ۴ هر بازه‌ای که علامت  $f'(x)$  در آن مثبت باشد، تابع در آن اکیداً صعودی و اگر علامت  $f'(x)$  منفی باشد، تابع در آن اکیداً نزولی است.

## فصل دهم: ریشه و توان

بخش اول: ریشه و توان

بخش دوم: عبارتهای جبری



## بخش اول: ریشه و توان

### ریشه و توان

در هر جای ریاضی با مطالبی مواجه می‌شویم که برای حل آن‌ها باید نیم‌نگاهی به مبحث ریشه و توان داشته باشیم. شاید در تاریخ کنکور تست‌های زیادی از این فصل نیامده باشد، ولی اگر به مطالب این فصل مسلط نباشید، در اکثر فصل‌ها دچار مشکل می‌شوید.

### ریشه $n$ ام

یکی از کلمات کلیدی این فصل، همین «ریشه  $n$ ام» است. وقتی می‌گوییم  $b$  ریشه  $n$ ام  $a$  است، یعنی  $b^n = a$ . برای مثال  $\frac{1}{3}$  ریشه سوم  $\frac{1}{27}$  است، زیرا  $(\frac{1}{3})^3 = \frac{1}{27}$  و ریشه‌های چهارم  $16$ ،  $\pm 2$  است چرا که  $2^4 = 16$ . همچنین عدد  $16$  - ریشه چهارم ندارد، زیرا هیچ عددی نیست که به توان  $4$  برسد و جوابش  $16$  - شود (عذر به توان زوج، منفی نمی‌شه که). به زبان فارسی برای محاسبه ریشه  $n$ ام عدد  $a$  باید ببینیم چه اعدادی هستند که به توان  $n$  می‌رسند و جوابشان  $a$  می‌شود! (هله؟)

 **مثال آموزشی** درستی یا نادرستی گزاره‌های زیر را بررسی کنید.

(الف) عددهای  $2$  و  $-2$  ریشه دوم عدد  $4$  هستند. (ب) عدد  $-4$  تنها ریشه سوم عدد  $-64$  است.

(ج) ریشه‌های چهارم عدد  $-81$ ، عددهای  $3$  و  $-3$  هستند.

 **پاسخ** (الف) این گزاره درست است، زیرا  $\pm 2$  به توان  $2$  مساوی  $4$  می‌شوند.

(ب) تنها عدد دنیا که به توان  $3$  می‌رسد و  $-64$  می‌شود،  $-4$  است، پس این گزاره هم درست است.

(ج) این گزاره نادرست است. زیرا  $\pm 3$  به توان چهار  $81$  می‌شوند نه  $-81$ . یادتان باشد که توان دوم، چهارم، ششم و ... و در کل توان زوج هیچ عددی منفی نمی‌شود. (منطقه نه؟)

اتفاقی که اینجا می‌افتد این است که ریشه  $n$ ام بعضی از عددها دوتا هستند، بعضی دیگر یکی و یک سری از عددها هم اصلاً ریشه  $n$ ام ندارند. برای راحتی در به‌خاطر سپردن این حالت‌ها، جدول زیر را در نظر بگیرید:

عدد حقیقی $a$	عدد طبیعی $n$	ریشه $n$ ام $a$	تعداد	مثال فارسی
$a \in \mathbb{R}$	فرد	$\sqrt[n]{a}$	یکی	ریشه سوم عدد $8$ ، فقط $2$ یا همان $\sqrt[3]{8}$ است.
$a > 0$	زوج	$\pm \sqrt[n]{a}$	دوتا	ریشه‌های دوم عدد $25$ ، $\pm 5$ هستند.
$a < 0$	زوج	ندارد	هیچی	ریشه چهارم عدد $-16$ ، وجود ندارد.

یکی از اشکالات اساسی اغلب دانش‌آموزان این است که فرقی بین ریشه  $n$ ام عدد  $a$  و  $\sqrt[n]{a}$  قائل نیستند. تذکر صفحه بعد را چند بار بخوانید!



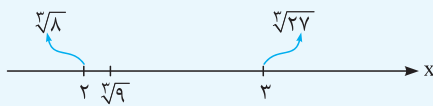


**تذکر** این طوری بگوییم که اگر  $n$  فرد باشد، ریشه  $n$ ام  $a$  و  $\sqrt[n]{a}$  دقیقاً یکی هستند ولی اگر  $n$  زوج باشد و  $a$  مثبت، ریشه  $n$ ام  $a$ ،  $\pm\sqrt[n]{a}$  است نه فقط  $\sqrt[n]{a}$ .  
برای مثال  $\sqrt{4} = 2$  ولی ریشه دوم ۴ می شود  $\pm 2$ .

**تعیین حدود ریشه nام**

گفتیم که برای پیدا کردن ریشه  $n$ ام عدد  $a$ ، باید بگوییم چه عددی به توان  $n$ ، جوابش  $a$  می شود. حالا یک سؤال؟ ریشه سوم عدد ۹ چند است؟ یعنی چه عددی به توان ۳ برسد ۹ می شود؟

واقعیت این است که مقدار دقیقش را نمی دانیم. اما می توانیم برایش یک بازه، تعیین کنیم. به این صورت که دو عدد صحیح متوالی پیدا کنیم که  $a$  بین توان  $n$  آن ها باشد، بعد می گوییم  $\sqrt[n]{a}$  بین این دو عدد است. برای مثال وقتی می خواهیم مقدار تقریبی ریشه سوم عدد ۹ را محاسبه کنیم، ۹ را بین توان سوم دو عدد صحیح متوالی قرار می دهیم، بعد می گوییم  $\sqrt[3]{9}$  بین این دو عدد است، پس می توان نوشت:



همان طور که می بینید  $\sqrt[3]{9}$  بین دو عدد ۲ و ۳ است، ولی به ۲ خیلی نزدیک تر است تا ۳.

**۱ کدام عدد، دو تا ریشه مرتبه ششم دارد؟**

۴  $\sqrt[6]{17} - 2$

۳ صفر

۲  $\sqrt{2} - \sqrt{3}$

۱  $\pi - \frac{Y}{2}$

**پاسخ گزینه ۴** تنها عددهای مثبت هستند که دو تا ریشه مرتبه زوج دارند، پس پاسخ تست گزینه ای است که مقدارش مثبت باشد. از طرفی می دانیم که  $27 < 17 < 8$  است، پس می توان نوشت:

$27 < 17 < 8 \Rightarrow 3 < \sqrt[6]{17} < 2 \Rightarrow \sqrt[6]{17} - 2 > 0$

سایر گزینه ها هم به وضوح مثبت نیستند.

**۲ ریشه سوم -۷۹ بین کدام دو عدد صحیح قرار دارد؟**

۴ -۷ و -۶

۳ -۴ و -۳

۲ -۶ و -۵

۱ -۵ و -۴

**پاسخ گزینه ۱** می دانیم که  $-125 < -79 < -64$  است، پس می توان نوشت:  
همان طور که می بینید ریشه سوم عدد -۷۹ بین دو عدد صحیح -۵ و -۴ قرار دارد.

**۳ حاصل عبارت  $[\sqrt[5]{-195}] + [\sqrt[4]{496}]$  کدام است؟ ( [ ] علامت جزء صحیح است. )**

۴ ۲

۳ -۱

۲ ۱

۱ صفر

**پاسخ گزینه ۲** عدد ۴۹۶ بین ۲۵۶ و ۶۲۵ است و همچنین ۱۹۵- بین دو عدد ۳۲- و ۲۴۳- است، پس می توان نوشت:

$(4)^4 < 496 < (5)^4 \Rightarrow 4 < \sqrt[4]{496} < 5 \Rightarrow [\sqrt[4]{496}] = 4$

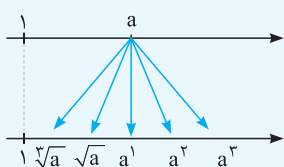
$(-3)^5 < -195 < (-2)^5 \Rightarrow -3 < \sqrt[5]{-195} < -2 \Rightarrow [\sqrt[5]{-195}] = -3$

در نهایت جواب مسئله برابر  $1 = 4 + (-3)$  است.

**مقایسه بین ریشه ها و توان های عدد a**



برای این کار، عدد حقیقی  $a$  را در چهار حالت  $a > 1$ ،  $0 < a < 1$ ،  $-1 < a < 0$  و  $a < -1$  در نظر می گیریم و هر حالت را جداگانه بررسی می کنیم:



**حالت اول:** اگر  $a > 1$  باشد، با زیاد شدن توان، مقدارش افزایش یافته و با زیاد شدن مرتبه ریشه، مقدار مثبت ریشه کاهش می یابد.

$1 < \dots < \sqrt[3]{a} < \sqrt{a} < a < a^2 < a^3 < \dots$

این را هم بلد باشید که در این حالت،  $a^n$  و  $\sqrt[n]{a}$  هر دو از یک بیشترند و داریم:

## فصل چهاردهم: توابع نمایی و لگاریتمی

بخش اول: تابع نمایی

بخش دوم: تابع لگاریتمی

### بخش اول: تابع نمایی

#### توابع نمایی

توابعی مانند  $y = x$ ,  $y = x^2$ ,  $y = x^{\frac{1}{2}}$  و ... را خیلی خوب می‌شناسیم. اما بعضی از توابع، توانشان  $x$  و پایه‌شان عدد ثابت مثل  $y = 3^x$ ,  $y = (\frac{1}{4})^x$  و ... است. به این توابع، **نمایی** گفته می‌شود.

به زبان علمی‌تر، توابع به فرم  $y = a^x$  با شرط  $a > 0$ ,  $a \neq 1$  را نمایی می‌گوییم؛ پس  $y = 2^{\sqrt{x}}$ ,  $y = (-3)^x$ ,  $y = \sin x$  و ... نمایی نیستند. برای فهم بهتر، مثال زیر را با دقت تحلیل کنید:

**مثال آموزشی** نمایی بودن یا نبودن توابع زیر را بررسی کنید.

$$1) y = (\sqrt{2})^x \quad 2) y = (-\frac{1}{4})^x \quad 3) y = 2^{x^2} \quad 4) y = (\frac{1}{4})^{2x+1} \quad 5) y = \frac{3^x}{4^{x-1}}$$

از بین تابع‌های داده شده فقط مورد (۲) و (۳) نمایی نیستند؛ زیرا در مورد (۲)، پایه عددی منفی و مورد (۳) هم که توانش  $x^2$  است که برخلاف تعریف تابع نمایی یعنی  $a^x$  است. برای اینکه خیالتان از نمایی بودن موارد (۴) و (۵) راحت شود، تابع‌های داده شده را کمی ساده می‌کنیم، ببینید:

$$4) y = (\frac{1}{4})^{2x+1} = (\frac{1}{4})^1 \times (\frac{1}{4})^{2x} = \frac{1}{4} \times (\frac{1}{4})^x \quad \checkmark$$

$$5) y = \frac{3^x}{4^{x-1}} = \frac{3^x}{4^x \times \frac{1}{4}} = 4 \times (\frac{3}{4})^x \quad \checkmark$$

۱ به ازای چند مقدار صحیح  $m$ ، تابع  $f(x) = (\frac{4-m}{2m+1})^x$  نمایی است؟

۵ (۴)

۲ (۳)

۴ (۲)

۳ (۱)

۱ پاسخ گزینه شرط آنکه تابع داده شده نمایی باشد، آن است که  $\frac{4-m}{2m+1} > 0$  و البته  $\frac{4-m}{2m+1} \neq 1$  باشد، پس می‌توان نوشت:

$$\frac{4-m}{2m+1} > 0 \xrightarrow{\text{تعیین علامت}} -\frac{1}{4} < m < 4 \quad (1)$$

$$\frac{4-m}{2m+1} \neq 1 \Rightarrow 4-m \neq 2m+1 \Rightarrow 3m \neq 3 \Rightarrow m \neq 1 \quad (2)$$

با اشتراک‌گیری از دو محدوده به دست آمده، بازه قابل قبول برای  $m$  به صورت  $\{-\frac{1}{4}, 4\}$  است؛ یعنی برای  $m$ ، سه عدد صحیح ۰، ۲ و ۳ قابل قبول است.

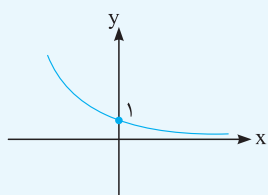


نمودار تابع نمایی



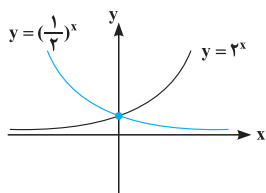
در تابع نمایی  $f(x) = a^x$ ، گفتیم که  $a$ ، عددی مثبت و غیر ۱ است؛ یعنی برای  $a$ ، دو حالت رخ می‌دهد: یکی اینکه  $a > 1$  و دیگری  $0 < a < 1$  باشد. جدول زیر برای فهم و مقایسه نمودار تابع نمایی در دو حالت گفته شده خیلی کار راه انداز است.

تابع نمایی	$0 < a < 1$	$a > 1$
نمودار		
شبهات	(۱) دامنه هر دو تابع $D = \mathbb{R}$ و بردشان $R = (0, +\infty)$ است. (۲) هر دو تابع از نقطه $(0, 1)$ می‌گذرند.	
تفاوت	(۱) در این تابع با زیاد شدن $x$ ، مقدار تابع کم می‌شود. به زبان تابع، به این نوع توابع اکیداً نزولی می‌گوییم. (۲) هرچه $x$ زیاد می‌شود، مقدار تابع به صفر نزدیک و نزدیک‌تر می‌شود. به زبان حد: $\lim_{x \rightarrow +\infty} a^x = 0$ ، $0 < a < 1$	(۱) در این تابع با زیاد شدن $x$ ، مقدار تابع زیاد می‌شود. به زبان تابع، به این نوع توابع اکیداً صعودی می‌گوییم. (۲) هرچه $x$ کم می‌شود، مقدار تابع به صفر نزدیک و نزدیک‌تر می‌شود. به زبان حد: $\lim_{x \rightarrow -\infty} a^x = 0$ ، $a > 1$



برای مثال به راحتی می‌توان گفت که نمودار تابع  $y = (\frac{1}{3})^x$  به صورت مقابل است و می‌توانیم بگوییم با افزایش  $x$ ، مقدار تابع همواره کم می‌شود.  
راستی حواستان باشد که هیچ‌وقت یک عبارت نمایی، منفی یا صفر نمی‌شود (برورش مثبت). مثلاً معادله  $(\frac{1}{3})^x = -2$  اصلاً ریشه ندارد.

نکته



همان‌طور که می‌دانیم  $\frac{1}{a}$  همان  $a^{-1}$  است؛ یعنی  $(\frac{1}{a})^x$  مساوی  $a^{-x}$  است. در واقع اگر نمودار تابع  $y = a^x$  را نسبت به محور  $y$ ها قرینه کنیم (بای  $x$  بزاریم  $-x$ )، به تابع  $y = (\frac{1}{a})^x$  می‌رسیم. مثلاً دو تابع  $y = 3^x$ ،  $y = (\frac{1}{3})^x$  نسبت به محور  $y$ ها قرینه‌اند. (قبوله؟)

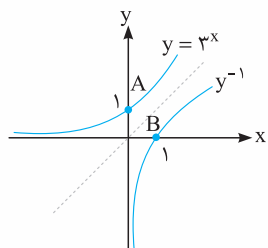
۲ فاصله نقطه برخورد تابع  $y = 3^x$  با محور  $y$ ها از نقطه برخورد وارون این تابع با محور  $x$ ها برابر  $\sqrt{a}$  است. مقدار  $a$  کدام است؟

۵ (۴)

۳ (۳)

۲ (۲)

۱ (۱)




باسخزینه ۲ نمودار هر تابع با وارونش نسبت به خط  $y = x$  قرینه می‌باشد؛ پس نمودار تابع نمایی  $y = 3^x$  با وارونش در یک دستگاه به صورت مقابل رسم می‌شوند:  
مطابق شکل روبه‌رو خواسته مسئله پیدا کردن طول پاره خط  $AB$  است که برابر می‌شود با:

$$A(0, 1), B(1, 0) : AB = \sqrt{(1-0)^2 + (0-1)^2} = \sqrt{2}$$

در نهایت  $\sqrt{a}$  همان  $\sqrt{2}$  است؛ یعنی  $a = 2$  است.

## فصل پانزدهم:

# هندسه تحلیلی



### هندسه تحلیلی

هندسه تحلیلی یا همان نقطه و خط خودمان از جمله فصل‌هایی است که توانایی ترکیب شدن با هر فصل دیگری را دارد. هر چیزی که برای یک شروع قدرتمند در این فصل نیاز داریم را برایتان آورده‌ایم.

ناحیه دوم	$x < 0$	$y > 0$	ناحیه اول	$x > 0$	$y > 0$
ناحیه سوم	$x < 0$	$y < 0$	ناحیه چهارم	$x > 0$	$y < 0$

داستان به این صورت است که آقایی به نام دکارت سال‌ها پیش، صفحه‌ای دوبعدی تعریف کرده که دو محور عمود برهم دارد. محور افقی آن،  $x$  و محور عمودی‌اش،  $y$  نام دارد. این صفحه به افتخار دکارت، به صفحه دکارتی یا صفحه مختصات دوبعدی معروف شده است. مطابق شکل مقابل، صفحه مختصات به چهار ناحیه تقسیم می‌شود که نام‌گذاری آن به صورت مقابل است. همچنین علامت طول و عرض هر نقطه در این ناحیه‌ها مشخص شده است.

کسی هست که نداند هر نقطه روی محور  $x$  ها مختصاتش به صورت  $M(x, 0)$  و مختصات هر نقطه روی محور  $y$  ها به صورت  $N(0, y)$  است!

### ۱ نقطه $A(m^2 + 2m, -m + 1)$ در ناحیه دوم قرار دارد. حدود $m$ کدام است؟

$m > -2$

$m < 1$

$-2 < m < 0$

$0 < m < 1$

**پاسخ‌گزین ۲** نقطه داده شده در ناحیه دوم قرار دارد، بنابراین مؤلفه اول آن منفی و مؤلفه دوم آن مثبت می‌باشد، حالا داریم:

مؤلفه اول:  $m^2 + 2m < 0 \Rightarrow m(m + 2) < 0 \Rightarrow -2 < m < 0$  (۱)

مؤلفه دوم:  $-m + 1 > 0 \Rightarrow -m > -1 \xrightarrow{\times(-1)} m < 1$  (۲)

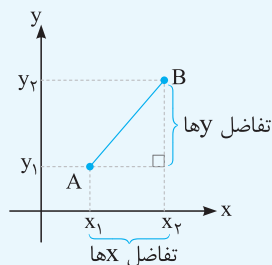
در نهایت اشتراک دو محدوده (۱) و (۲) به دست آمده به صورت  $-2 < m < 0$  است.

### فاصله دو نقطه

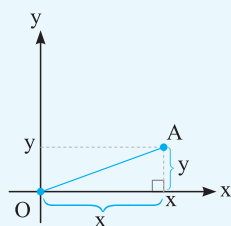
برای این‌که فاصله دو نقطه  $A(x_1, y_1)$  و  $B(x_2, y_2)$  را به دست آوریم از فرمول زیر استفاده می‌کنیم:

$$AB = \sqrt{(x_1 - x_2)^2 + (y_1 - y_2)^2}$$

فرمول گفته شده، دقیقاً از دل قضیه فیثاغورس آمده است.



برای مثال فاصله نقطه  $A(3, 0)$  از  $B(7, 3)$  برابر  $AB = \sqrt{(7-3)^2 + (3-0)^2} = 5$  است. همچنین بدانید که فاصله نقطه دلخواه  $A(x, y)$  از مبدأ مختصات برابر  $AO = \sqrt{x^2 + y^2}$  است.







۲ اگر نقاط  $A(2, 4)$ ،  $B(5, 0)$  و  $C(-2, 1)$  رئوس یک مثلث باشند، نوع این مثلث کدام است؟

- ۱ قائم الزاویه      ۲ متساوی الساقین و قائم الزاویه      ۳ متساوی الساقین      ۴ مختلف الاضلاع

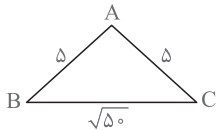
پاسخ گزینه ۲ برای تشخیص نوع مثلث  $ABC$ ، کافی است طول اضلاع  $AB$ ،  $AC$  و  $BC$  را پیدا کنیم و از روی طول این اضلاع نوع مثلث را تعیین کنیم، داریم:

$$AB = \sqrt{(0-4)^2 + (5-2)^2} = \sqrt{16+9} = \sqrt{25} = 5$$

$$AC = \sqrt{(1-4)^2 + (-2-2)^2} = \sqrt{9+16} = \sqrt{25} = 5$$

$$BC = \sqrt{(1-0)^2 + (-2-5)^2} = \sqrt{1+49} = \sqrt{50}$$

مطابق اضلاع به دست آمده و برابر بودن طول  $AB$  و  $AC$  می فهمیم که مثلث  $ABC$  متساوی الساقین می باشد. از طرفی باتوجه به این که هم گزینه «۲» و هم گزینه «۳» متساوی الساقین را دارد، باید به کمک قضیه فیثاغورس قائم الزاویه بودن یا نبودن مثلث  $ABC$  را هم بررسی کنیم. پس می توان نوشت:



$$BC^2 = AB^2 + AC^2 \Rightarrow (\sqrt{50})^2 = (5)^2 + (5)^2 \Rightarrow 50 = 50 \quad \checkmark$$

همان طور که می بینید اضلاع مثلث در شرط قضیه فیثاغورس هم صدق می کند، پس این مثلث هم متساوی الساقین و هم قائم الزاویه است.

هالا یک تست متفاوت

۳ نقطه  $A$  در ربع سوم روی خط  $y = 3x$  قرار دارد. اگر فاصله مبدأ مختصات از نقطه  $A$  برابر  $\sqrt{10}$  باشد، مجموع طول و عرض نقطه  $A$  کدام است؟

- ۱ ۴      ۲ -۴      ۳ -۸      ۴ ۸

پاسخ گزینه ۲ اول از همه دقت کنید که چون  $A$  در ربع سوم است، بنابراین مؤلفه  $x$  و  $y$  آن هر دو منفی هستند. از طرفی دیگر چون  $A$  روی خط  $y = 3x$  قرار دارد، پس آن را به صورت  $A(\alpha, 3\alpha)$  در نظر می گیریم. حالا فاصله نقطه  $A$  را تا مبدأ مختصات محاسبه کرده و برابر  $\sqrt{10}$  قرار می دهیم. پس داریم:

$$OA = \sqrt{(\alpha)^2 + (3\alpha)^2} = \sqrt{\alpha^2 + 9\alpha^2} = \sqrt{10\alpha^2} \xrightarrow{OA=\sqrt{10}} \sqrt{10\alpha^2} = \sqrt{10} \Rightarrow 10\alpha^2 = 10 \Rightarrow \alpha^2 = 1 \Rightarrow \alpha = \pm 1$$

چون  $A$  در ربع سوم است پس  $\alpha = -1$  غیر قابل قبول است.

خلاصه این که مختصات نقطه  $A$  به صورت  $A(-1, -3)$  است و مجموع طول و عرض این نقطه برابر  $-4$  می شود.

### مختصات وسط پاره خط



نقاط  $A(x_1, y_1)$  و  $B(x_2, y_2)$  دو سر پاره خط  $AB$  هستند، نقطه وسط این پاره خط از رابطه  $M(\frac{x_1+x_2}{2}, \frac{y_1+y_2}{2})$  به دست می آید که چیز عجیب و غریبی هم نیست، همان میانگین است. برای مثال نقطه میانی پاره خطی که ابتدا و انتهایش  $A(2, 6)$  و  $B(0, -4)$  می باشد، نقطه  $M(1, 1)$  است.

مهم ترین کاربرد فرمول مختصات وسط پاره خط برای محاسبه میانه در مثلث ها و عمود منصف است.

مثال آموزشی در مثلث  $ABC$  با رئوس  $A(2, 3)$ ،  $B(0, 4)$  و  $C(-2, 2)$ ، اندازه طول میانه وارد بر  $BC$  چند واحد است؟

پاسخ میانه وارد بر یک ضلع، خطی است که از یک رأس به وسط ضلع مقابل وارد می شود. میانه وارد بر  $BC$  برابر پاره خط  $AN$  می باشد، که  $N$  وسط  $BC$  است.

حالا کافی است وسط ضلع  $BC$  را پیدا کنیم، داریم:

$$N = \left( \frac{0+(-2)}{2}, \frac{2+4}{2} \right) = N(-1, 3)$$

در نهایت داشتن مختصات  $A$  و  $N$  طول  $AN$  را پیدا می کنیم، پس می توان نوشت:

$$AN = \sqrt{(3-3)^2 + (-1-2)^2} = \sqrt{9} = 3$$