

# فهرست

۵	تم ۱
۹	تم ۲
۱۵	تم ۳
۱۹	تم ۴
۲۴	تم ۵
۲۹	تم ۶
۳۲	تم ۷
۳۵	تم ۸
۳۹	تم ۹
۴۳	تم ۱۰
۴۷	تم ۱۱
۵۱	تم ۱۲
۵۶	تم ۱۳
۶۲	تم ۱۴
۶۶	تم ۱۵
۷۰	تم ۱۶
۷۵	تم ۱۷
۸۰	تم ۱۸
۸۴	تم ۱۹
۸۹	تم ۲۰
۹۳	تم ۲۱
۹۷	تم ۲۲
۱۰۱	تم ۲۳
۱۰۵	تم ۲۴
۱۰۹	تم ۲۵

# یک

۱ به این تصویر نگاه کن و بگو.



الف چند آپارتمان می‌بینی؟

ب در خیابان چند ماشین می‌بینی؟

پ بالای درخت یک ابر دیگر بکش.

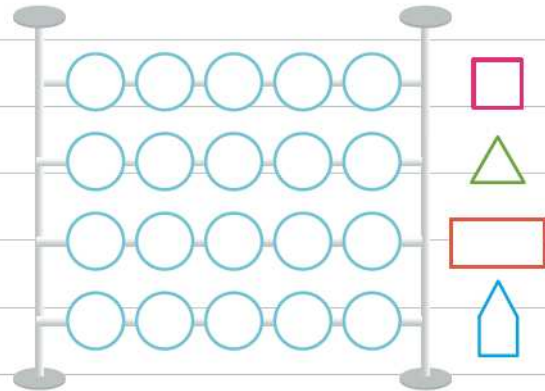
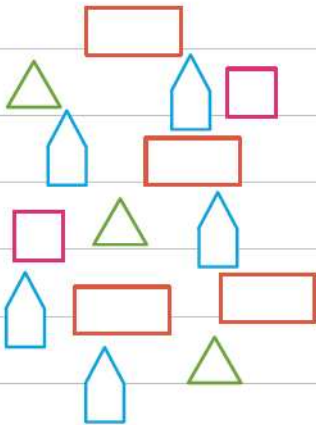
ت در خیابان سمت چپ دو ماشین بکش.

ث زیر درخت دو توپ بکش.




ج روی گل‌ها یک پروانه بکش.

چ چند کودک در تصویر می‌بینی؟

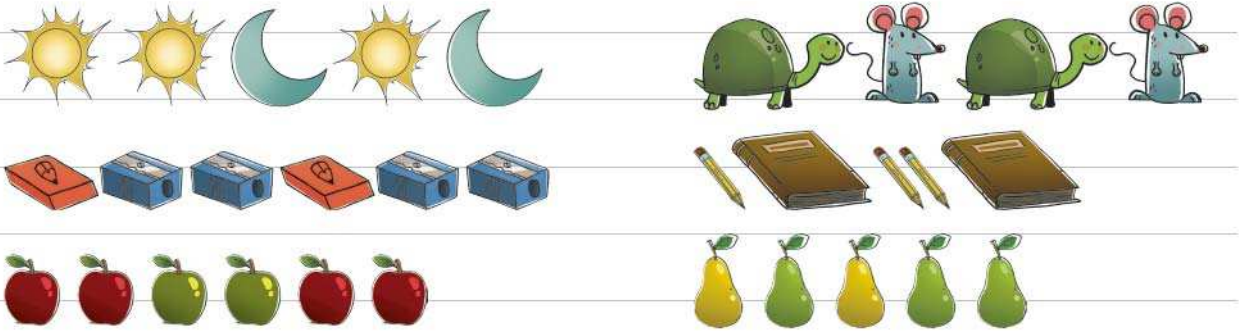
۲ به تعداد هر شکل از گردی‌های روبه‌روی آن رنگ کن.



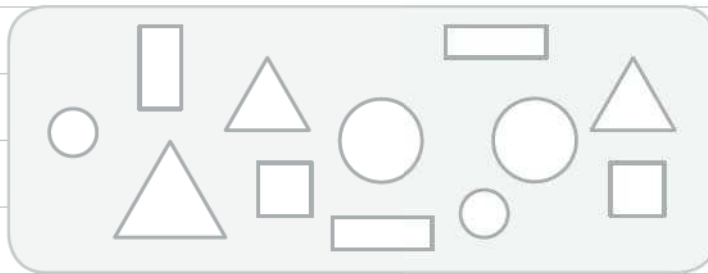
۳ مانند نمونه الگوی شکل‌ها را با رنگ کردن خانه‌ها نشان بده.



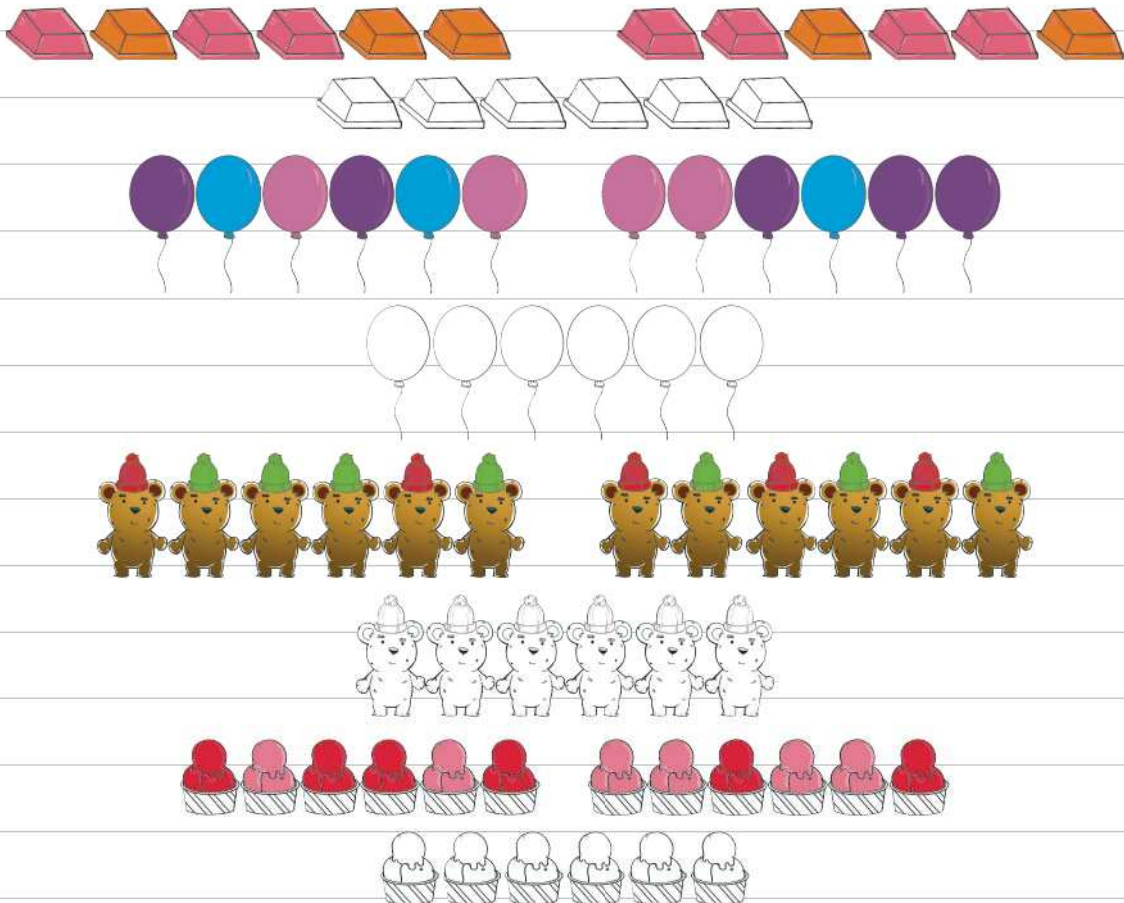
۴ دور دسته‌هایی خط بکش که یک الگوی مشخص دارند.



۵ شکل‌های شبیه به هم را هم‌رنگ کن (یا مثل هم رنگ کن).

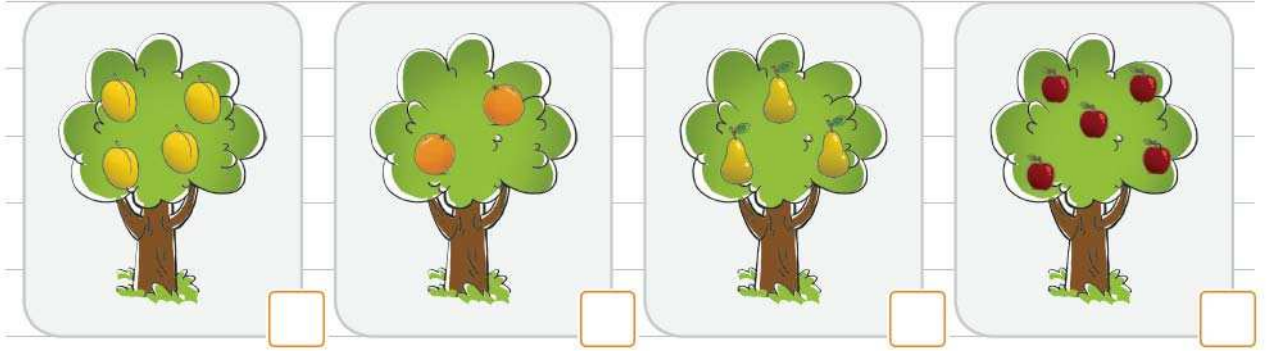


۶ دور دسته‌ای را خط بکش که الگوی مشخص دارد و به همان ترتیب شکل‌ها را رنگ کن.





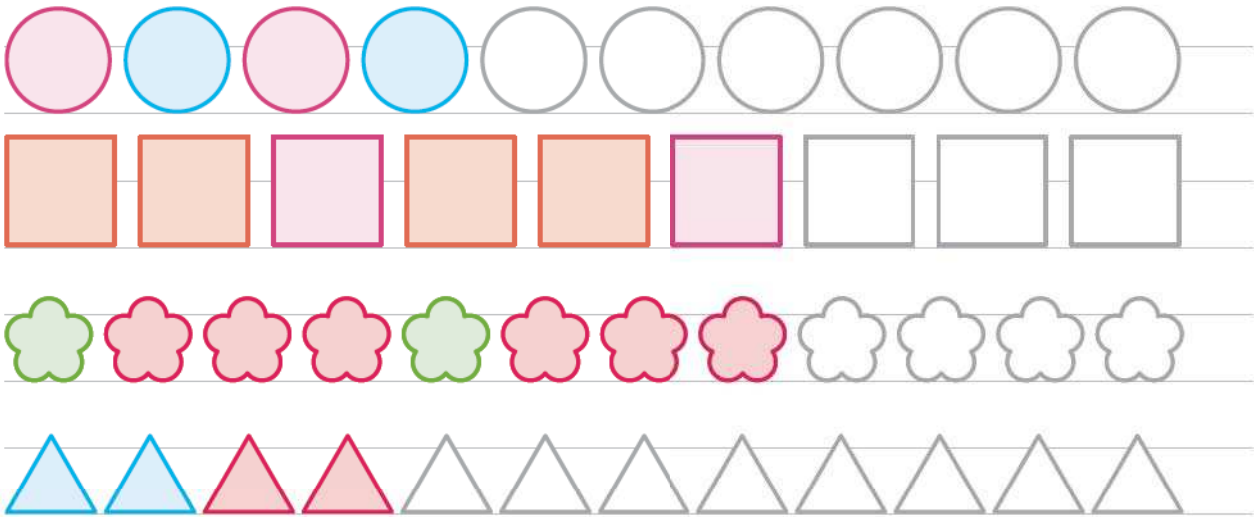
۷ سریع بگو روی هر درخت چند میوه می بینی؟



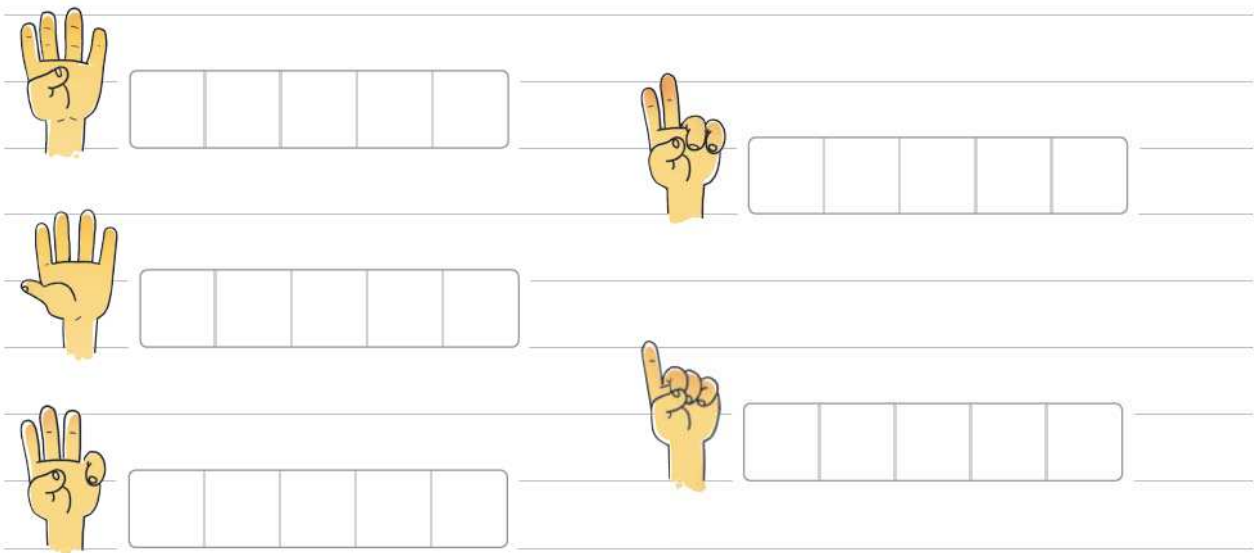
۸ دسته هایی را که تعداد شکل هایشان مثل هم است با خط کش به هم وصل کن.



۹ رنگ کردن الگوها را به همان ترتیب ادامه بده.



۱۰ به تعداد انگشتان دست از چینه‌ها رنگ کن.



۱۱ به تصویر مقابل خوب نگاه کن:



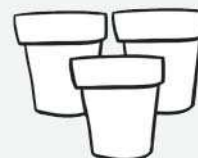
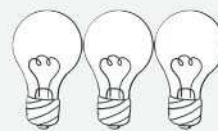


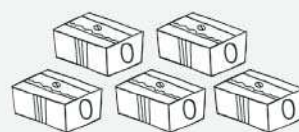
الف کدام حیوان به سمت راست می‌رود؟ بگو.

ب گل‌های سمت چپ را رنگ کن.

پ دست راست دختر ۴ تا بادکنک بکش.


# دو

1 به تعداد شکل‌های سمت چپ از شکل‌های سمت راست رنگ کن:

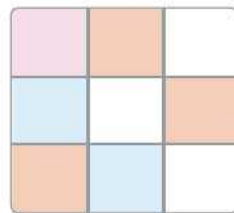
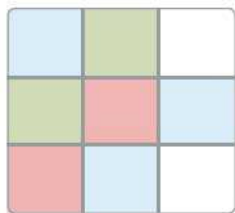




۲ در هر قسمت به تعداد هر شکل از گردی‌ها رنگ کن:



۳ جدول‌های زیر را با رنگ مناسب کامل کن:



۴ مانند نمونه تعداد شکل‌های هر دسته را سریع بگو و به اندازه‌ی هر شکل در واگن آن یک چهار گوش بکش:

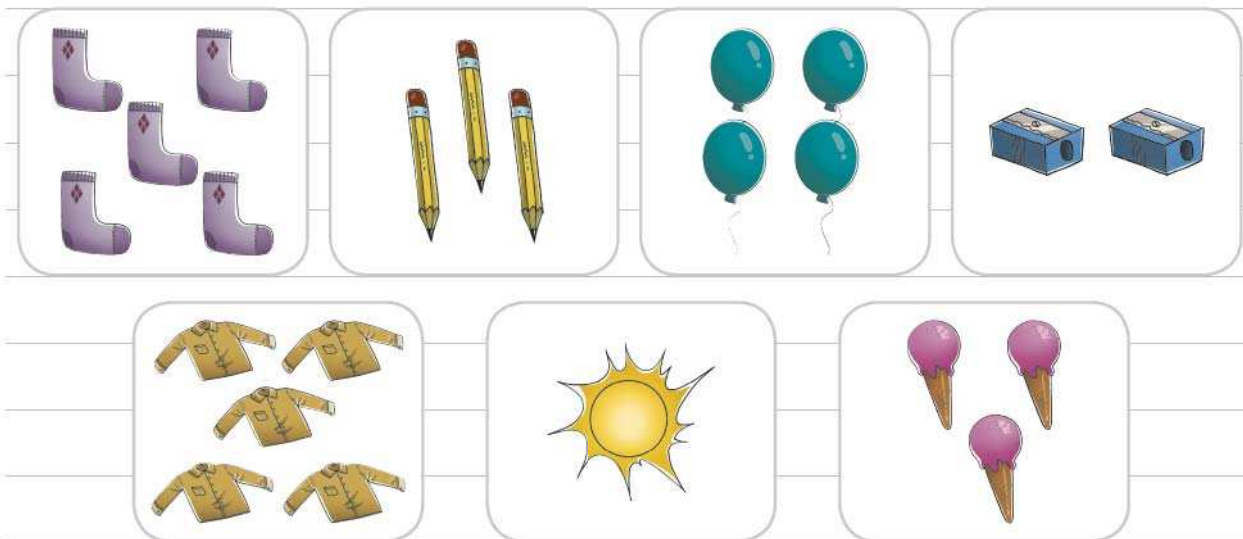
نمونه:



۵ الگوها را ادامه بده و دو شکل بعد هر الگو را بکش:

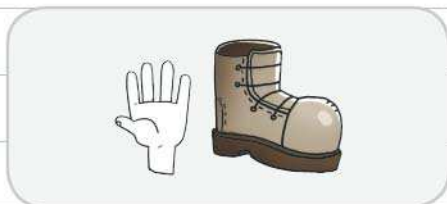
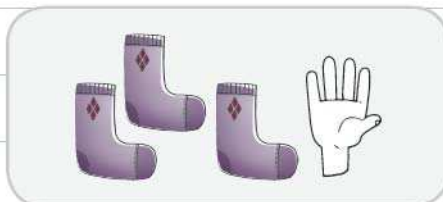
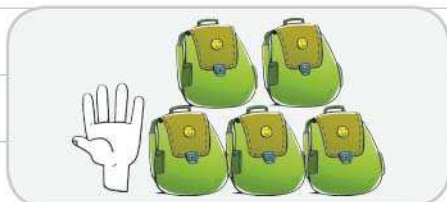






۶ تعداد شکل‌های هر دسته را با انگشتان دست راست خود نشان بده:



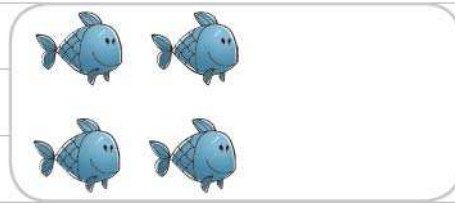
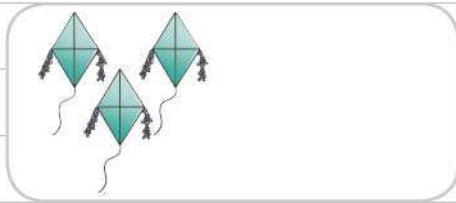
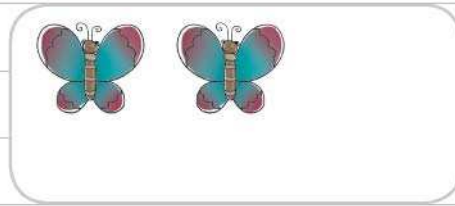
۷ مانند نمونه به تعداد شکل‌های سمت راست از انگشتان دست راست و به تعداد شکل‌های سمت چپ

از انگشتان دست چپ رنگ کن:

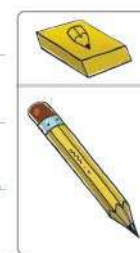
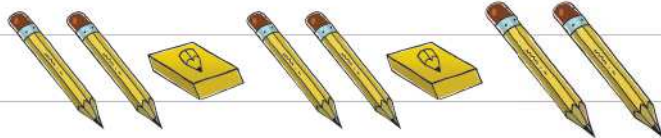

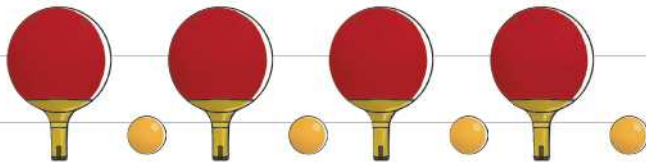




۸ تعداد شکل‌های هر دسته را بگو. حالا می‌خواهیم هر بار یکی به هر دسته اضافه کنیم و به تعداد آن از گردی‌ها رنگ کنیم. به نظر تو آخرین دسته چندتایی خواهد شد؟





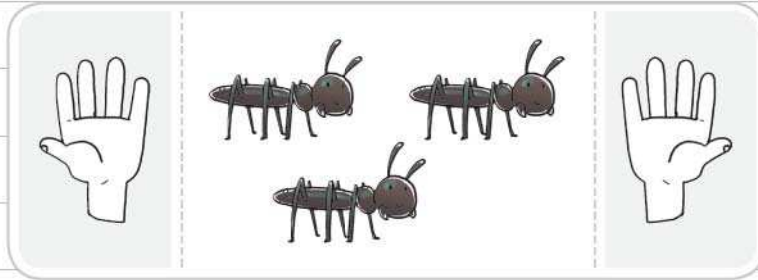
۹ الگو را ادامه بده و شکل بعد هر الگو را از شکل‌های سمت راست انتخاب کن.



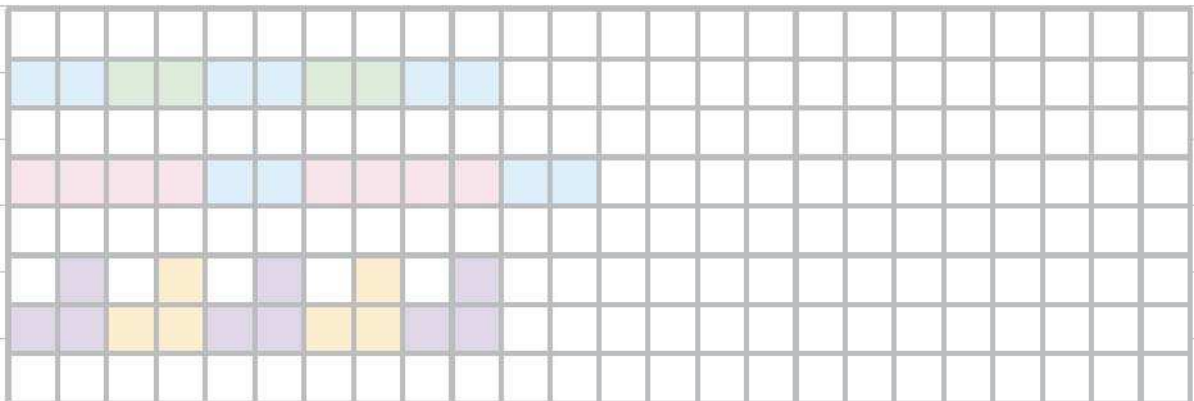
۱۰ جدول را با شکل مناسب کامل کن.




۱۱ یکی بعد و یکی قبل از تعداد شکل‌های هر دسته را بگو و با توجه به آن از انگشتان دست رنگ کن:



۱۲ الگوی شطرنجی را ادامه بده:



۱۳ مربع‌هایی را که نقطه دارد با رنگ‌های مناسب رنگ کن تا یک نقاشی شطرنجی درست شود.




---



---



---



---



---



---



---



---



---



---



دو

ریاضی اول کار و تمرین



۱۴

