

فصل اول

عدد و رقم



۱ مریم و رضا شکل‌های روی هر بادبادک را می‌شمارند تا به قرقره‌ی مناسب وصل کنند. مریم دوتا دوتا و رضا سه‌تا سه‌تا می‌شمارند. شکل‌های هر بادبادک را از هر راهی که می‌خواهید بشمارید و به عدد آن وصل کنید.




◀ شکل‌ها را چگونه شمردید؟

۳ به اندازه‌ی هر عدد شکل بکشید.

۲ عدد هر شکل را بنویسید.





۷




عدد و شمارش

۴ روی هر شکل علامت بزنید، بشمارید و بنویسید.



۵ دسته‌های ده‌تایی جدا کنید. عدد را بنویسید.





به رقم: _____


به حروف: _____

۶ به اندازه‌ی عدد هر باغچه از گل‌های رنگ نشده را به رقم و حروف بنویسید.









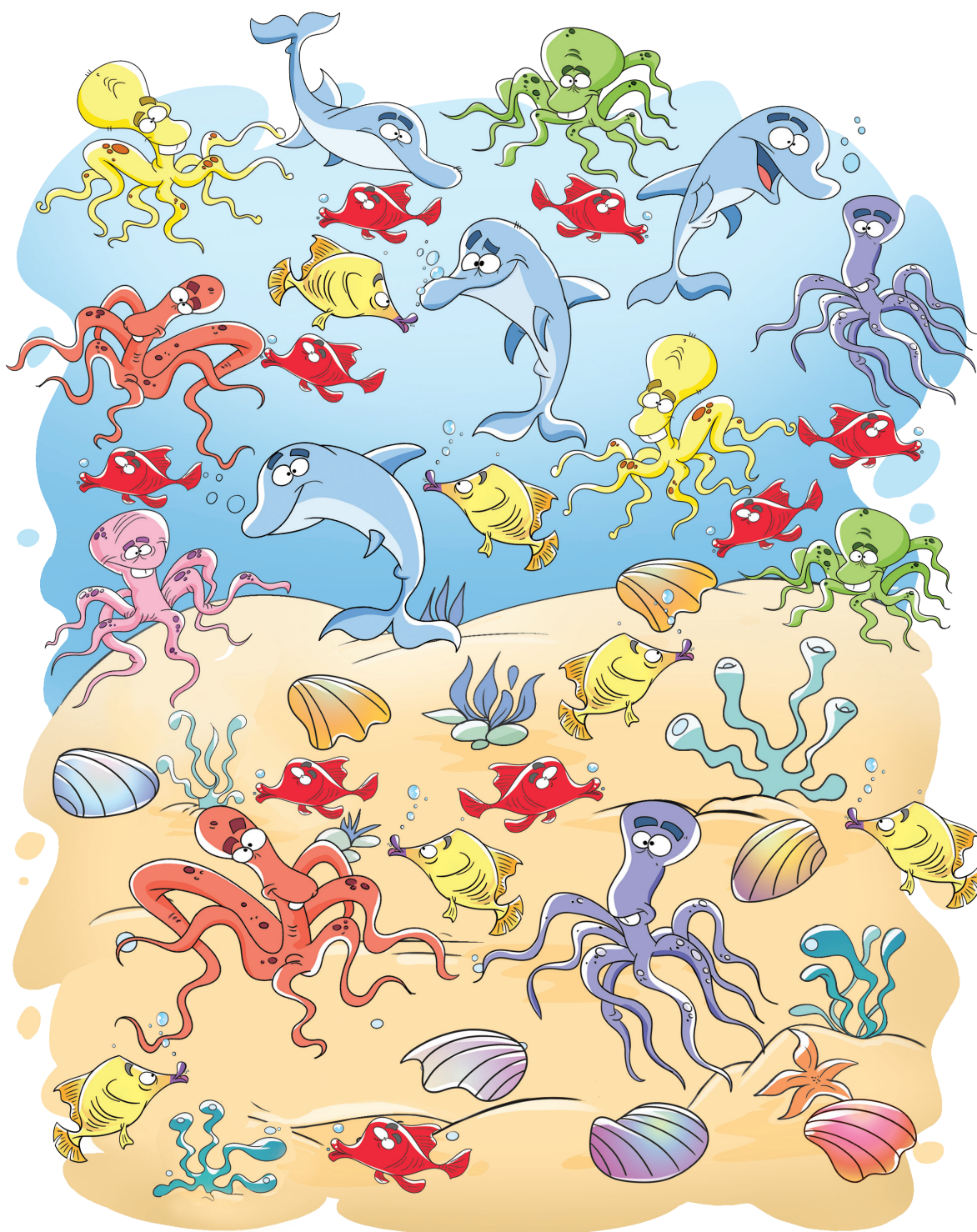


مانند نمونه هر شکل را بشمارید. با عدد و چوب خط نشان دهید.

۳۹



کارپوچینو • ریاضی دوم دبستان • فصل اول: عدد و رقم




۹



۸ جدول شگفت‌انگیز را کامل کنید.

۶	۹	۱	۲	۵	۳	۴		۷
۵		۷	۶	۸	۱	۳	۲	۹
۲	۸	۳		۷	۴	۱		۵
۹	۶		۸	۲	۷	۵	۱	
	۱	۵	۴		۹	۲	۷	۸
۷		۸	۳	۱	۵		۹	۴
۸	۵	۶		۳	۲	۹		۱
	۳	۲	۱		۸	۷	۵	۶
۱	۷	۹	۵	۴		۸	۳	

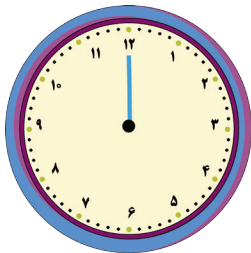
۹ به اندازه‌ی چوب‌خط‌ها شکل بکشید و عدد را بنویسید.



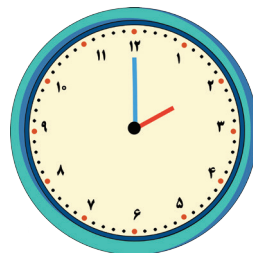
..... به رقم:

..... به حروف:

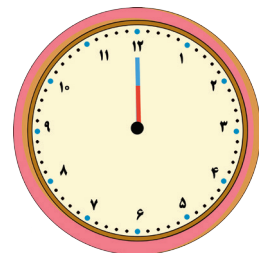
۱۰ ساعت چند است؟ عقربه‌ی کوچک را بکشید.



ساعت ۸





..... ساعت



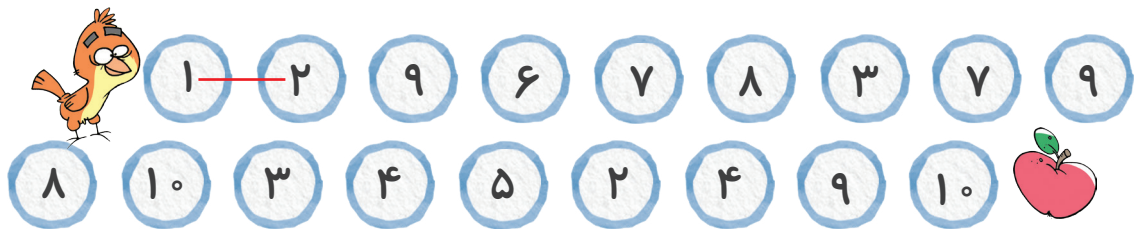
..... ساعت



۱۱ مانند نمونه، عددهای مثل هم را با خطکش به هم وصل کنید.



۱۲ با کشیدن ادامه‌ی خط، گنجشک را از مسیر ۱ تا ۱۰ به سیب برسانید. نوشتن عددها را کامل کنید.





۱ - - - ۴ - - - ۷ - - -

درس بزن

۱۳ تعداد شکل‌های کدام سمت بیشتر است؟ عدد آن را بنویسید و علامت کمتر بیشتر (<) بگذارید.




۱۴ تعداد شکل‌های کدام سمت کمتر است؟ عدد آن را بنویسید و علامت کمتر بیشتر (<) بگذارید.



دسته‌های ده‌تایی و یکی

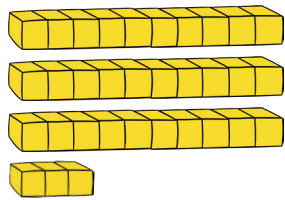
۱۵ با توجه به شکل‌ها، جدول‌ها را کامل کنید. عددها را بنویسید.



ده‌تایی	یکی

به رقم: _____

به حروف: _____



ده‌تایی	یکی

به رقم: _____

به حروف: _____



۱۶ در جای خالی عدد یکان را به دلخواه بنویسید. کامل کنید.

۶	
×	


۷	
×	

۳	
×	

۲	۵
×	

بیست و پنج

۱۷ نوشتن عددها را ادامه دهید.



۱۸ اگر هر دو کارت عدد را کنار هم بگذارید، چه عددی می‌شود؟



به رقم: _____ به حروف: _____

با این کارت‌ها چه عدد دیگری می‌توانید بنویسید؟

به رقم: _____ به حروف: _____




۱۹ با این دو کارت دو عدد بنویسید.



به رقم:
به حروف:
به رقم:
به حروف:

۲۰ دسته‌های ده‌تایی را جدا کنید و جدول را کامل کنید. تعداد دسته‌های ده‌تایی و یکی‌ها را در جدول بنویسید.



به رقم:
به حروف:

۲۱ عدد نوشته شده را بخوانید. این عدد چند رقم دارد؟
.....

◀ رقم‌های آن و هستند.


۲۲ یک عدد دو رقمی بنویسید که رقم‌های آن با هم فرق داشته باشند.
.....

◀ رقم‌های آن را بنویسید. و

◀ با این دو رقم یک عدد دو رقمی دیگر بنویسید.
.....

۲۳ یک عدد دو رقمی بنویسید که یکان آن ۷ و دهگان آن ۵ باشد.
.....

۲۴ پنج عدد دو رقمی بنویسید که رقم‌های یکان و دهگان آن‌ها مثل هم باشند.



۲۵ پنج عدد دو رقمی بنویسید که رقم یکان آن‌ها ۰ باشد.

