

روز اول

دوم فروردین

	درس‌های ۱ و ۲	هدیه‌های آسمان	
	ستایش و درس ۱	فارسی	فارسی
	درس ۱	نگارش	
	درس‌های ۱ و ۲	مطالعات اجتماعی	
	درس‌های ۱ و ۲	علوم تجربی	
	فصل ۱ (تا ابتدای ساعت در بعدازظهر)	ریاضی	



فارسی

۶ کلمات هم‌معنی را به هم وصل کنید.

عظمت فیروزه‌ای کینه دقت اطراف

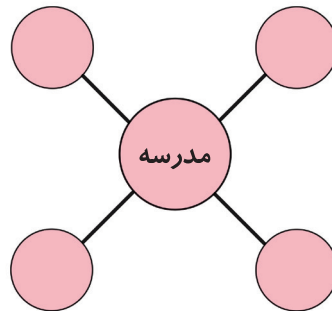
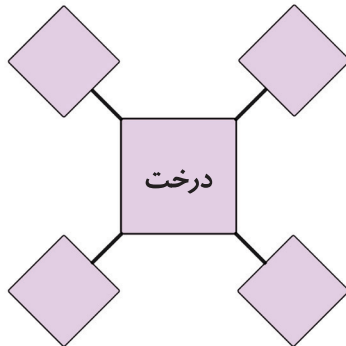
توجه دورو بر بزرگی آبی متمایل به سبز دشمنی کسی را دردل داشتن

۷ غلط‌های املایی را در جملات زیر پیدا کنید و صحیح آن را بنویسید.

الف) پسر گفت: «امروز مسابقه‌ای بین تیم محله‌ی ما و محله‌ی بحارستان برگزار می‌شود.»

ب) در دست پیر او بود / باز آن عصای زیبا / خندید و قلقلک داد / با آن عصا دلم را

۸ با توجه به شبکه‌های معنایی جاهای خالی را پر کنید.




۹ جمع‌های مختلف کلمات زیر را بنویسید.

- الف) دانشگاه:
- ب) کودک:
- ج) حیوان:
- د) قطعه:
- ه) کاشف:

۱۰ جاهای خالی ابیات زیر را با کلمه‌ی مناسب پر کنید.

- الف) دلی صاف و بی‌کینه، مانند دلی روشن و مثل آفتاب
- ب) خدایا به ما بده دلی ساده و بده
- ج) مادر برای او زود یک تازه آورد انگار درد می‌کرد

۱۸. تصویر زیر، کدام یک از تغییرات رشدی را نشان می‌دهد؟ توضیح دهید.



.....

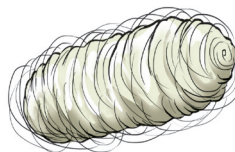


.....

.....

.....

.....

۱۹. با کمک عددهای ۱، ۲، ۳ و ۴ خط زمان را در شکل‌های زیر مشخص کنید



۲۰. جاهای خالی را با کلمات مناسب پر کنید.

الف) تغییراتی در موجودات زنده به وجود می‌آورد.

ب) از زمان تولد تاکنون شما و شما شده است.

ج) موجودات زنده همراه با رشد کردن دچار تغییراتی در ، و می‌شوند.

علوم تجربی

۲۱. علی می‌خواهد درباره‌ی ارزش غذایی خوراکی‌های مختلف اطلاعات کاملی جمع‌آوری کند، چه منابع اطلاعاتی به او پیشنهاد

می‌کنید؟

.....


.....

.....

۲۲ کدام یک از خوراکی‌های زیر برای زنگ تفریح مناسب است؟



۴



۳



۲



۱

۲۳ ۲ ابزار مناسب برای جمع‌آوری اطلاعات نام ببرید.

.....

.....

.....

۲۴ واژه‌های زیر را تعریف کنید.

الف مشاهده:

.....

ب فرضیه:

.....

۲۵ کدام گزینه به ما کمک می‌کند تا از فراموش کردن مطالب جلوگیری کنیم؟

مشاهده ۲

یادداشت‌برداری ۱

مصاحبه ۴

جمع‌آوری اطلاعات ۳

۲۶ ۴ گروه مواد غذایی را نام برده و برای هر کدام مثالی بزنید.

.....

.....

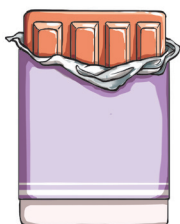
.....

۲۷ نقش مواد نگهدارنده در خوراکی‌ها چیست؟


.....

.....

۲۸ کدام یک از قندهای زیر جزو قندهای طبیعی هستند؟



۴



۳



۲



۱

۲۹ جاهای خالی را با کلمات مناسب پر کنید.

- الف) گروه همانند چربی‌ها به بدن انرژی می‌دهند.
 ب) روغن میوه‌ی جزو چربی‌های خوب است.
 ج) موقع خرید مواد غذایی باید به توجه کرد.
 د) ویتامین‌ها به و بدن کمک می‌کنند.

۳۰ کدام یک با بقیه فرق دارد؟

- ۱) جگر ۲) ماهی ۳) غلات ۴) مرغ

ریاضی


۳۱ پدر یک دانش‌آموز در ساختمان ۸ طبقه کار می‌کند. هر طبقه‌ی آن ساختمان ۴ واحد دارد.

الف) ۳ طبقه‌ی آن ساختمان چند واحد دارد؟

ب) اگر پدر دانش‌آموز تا طبقه‌ی هشتم برای دفتر کارش بالا برود، مجموع واحدها تا طبقه‌ی آخر چندتا است؟


۳۲ با توجه به شکل زیر که نمای یک آپارتمان را نشان می‌دهد، تعداد اتاق‌های هر طبقه را بنویسید و الگوی مناسب را پیدا کنید و با

توجه به الگو مشخص کنید که در طبقه‌ی چهارم این آپارتمان چند اتاق وجود دارد؟



۳۳ شکل زیر را دسته‌بندی کنید و به کمک الگوهای شمارش چندتا چندتا و با نوشتن عبارت جمع، تعداد مربع‌های هر شکل

را به دست آورید.



$$\dots + \dots + \dots + \dots = \dots$$

$$\dots + \dots + \dots + \dots + \dots + \dots = \dots$$