



۵	یاد آوری سال دوم
۱۴	فصل اول الگوها
۲۵	فصل دوم عددهای چهار رقمی
۵۰	فصل سوم عددهای کسری
۶۹	ارزشیابی دوره‌ای (۱)
۷۵	فصل چهارم ضرب و تقسیم
۹۵	فصل پنجم محیط و مساحت
۱۱۲	فصل ششم جمع و تفریق
۱۲۹	ارزشیابی دوره‌ای (۲)
۱۳۴	فصل هفتم آمار و احتمال
۱۵۰	فصل هشتم ضرب عددها
۱۶۵	ارزشیابی دوره‌ای (۳)

# یادآورک سال دوم



۱ الگوهای زیر را ادامه بده.

۱۵ - ۲۵ - \_\_\_\_\_

۳۰ - ۳۵ - \_\_\_\_\_

۴۲ - ۴۴ - \_\_\_\_\_

۶۳ - ۶۶ - \_\_\_\_\_

۱۰۰ - ۲۰۰ - \_\_\_\_\_

چهل و هشت - چهل و نه -

ده - بیست - سی -

یازده - بیست و یک -

پنجاه - پنجاه و پنج -

۲ حاصل عبارت‌های زیر را به دست بیاور.

$$۵ + ۱۰ + ۵ + ۲۰ = \underline{\hspace{2cm}}$$

$$۵ + ۲۰ + ۵ + ۴۰ = \underline{\hspace{2cm}}$$

$$۱۰ + ۵ + ۴ + ۵ + ۶ = \underline{\hspace{2cm}}$$

$$۲۰ + ۳ + ۵ + ۷ = \underline{\hspace{2cm}}$$



$$30 + 20 + 10 - 5 = \underline{\hspace{2cm}}$$

$$60 - 50 = \underline{\hspace{2cm}}$$

$$10 + 50 + 30 = \underline{\hspace{2cm}}$$

$$50 + 10 - 10 + 20 = \underline{\hspace{2cm}}$$

حاصل جمع و تفریق‌های زیر را روی محور نشان بده.




$$6 + 8 - 4 = \underline{\hspace{2cm}}$$



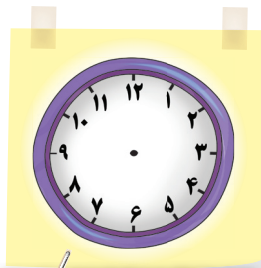
$$8 + 8 - 4 = \underline{\hspace{2cm}}$$



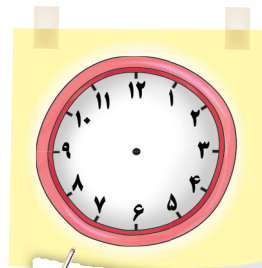
روی هر ساعت زمان‌های نوشته شده را نشان بده.




یک ربع بعد از ۷



یک ربع مانده به ۴



ساعت ۸



نیم ساعت مانده به ۱۰

به کمک محور مسئله را حل کن.



کتاب داستان مریم ۱۰۰ صفحه دارد. او دیروز ۳۰ صفحه و امروز ۴۰ صفحه از کتابش را خوانده است.

مریم چند صفحه از کتابش را نخوانده است؟





به حروف یا به رقم بنویس.



۶۰۸: \_\_\_\_\_

\_\_\_\_\_ هفتصد و هشتاد و نه:

۷۶۱: \_\_\_\_\_

\_\_\_\_\_ چهارصد و سی و یک:

۴۰۵: \_\_\_\_\_

\_\_\_\_\_ شصت و دو:

۹۲۰: \_\_\_\_\_

\_\_\_\_\_ صد و هشت:

اعداد زیر را با حذف رقم یکان به صورت تقریبی بنویس.



۷۳۱  
\_\_\_\_\_

۶۵۲  
\_\_\_\_\_

۷۴۳  
\_\_\_\_\_

۲۷۲  
\_\_\_\_\_

عددهای زیر را با حذف رقم دهگان به صورت تقریبی بنویس.



۹۱۲  
\_\_\_\_\_

۷۲۶  
\_\_\_\_\_

۶۴۱  
\_\_\_\_\_

۱۳۲  
\_\_\_\_\_

جمع یا تفریق کن.



$$\begin{array}{r} 47 \\ + 21 \\ \hline \end{array}$$

$$\begin{array}{r} 39 \\ + 15 \\ \hline \end{array}$$

$$\begin{array}{r} 29 \\ + 46 \\ \hline \end{array}$$

$$\begin{array}{r} 62 \\ - 25 \\ \hline \end{array}$$

$$\begin{array}{r} 86 \\ - 59 \\ \hline \end{array}$$

$$\begin{array}{r} 80 \\ - 14 \\ \hline \end{array}$$

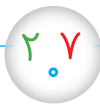




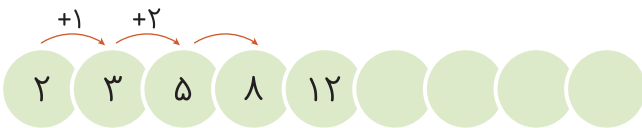
۱۰ علی در زنگ ورزش ۴۵ امتیاز و در زنگ ریاضی ۳۴ امتیاز گرفت.

او با ۲۷ امتیازش یک جایزه گرفت. او حالا چند امتیاز دارد؟

۱۱ با رقم‌های ۷ و ۰ و ۲ هر چند تا عدد سه رقمی که می‌توانی بنویس.



۱۲ الگوهای زیر را ادامه بده.



۱۳ در هر ردیف، عددها را ادامه بده.

● از عدد ۲۰۵ تا ۲۲۰ یکی یکی ادامه بده.

● از عدد ۳۴۰ تا ۴۴۰ ده تا ده تا ادامه بده.

● از عدد ۱۲۰ تا ۹۲۰ صد تا صد تا ادامه بده.



مانند نمونه باز شدهی هر عدد را بنویس.

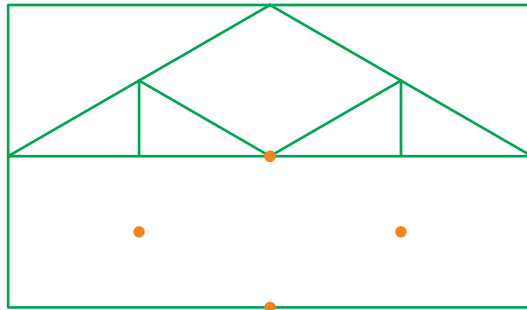
۱۴

$432 = 400 + 30 + 2$

$693 = \underline{\hspace{2cm}}$


با استفاده از خطکش نیمی دیگر شکل را کامل کن.

۱۵



ضلع‌های هر شکل را با خطکش اندازه بگیر و بنویس. وسط هر ضلع را پیدا کن.

۱۶



مقایسه کن و علامت مناسب بگذار.

۱۷

۹۷

۹۴

۳۰۴

۲۰۷

۱۲۰

۸۲

۲۹۸

۳۰۱

۷۰۰

۴۰۰

۴۲۷

۷۲۰

$300 + 20$

$200 + 50$

$100 + 80 + 2$

$100 + 90 + 2$

$400 + 200$

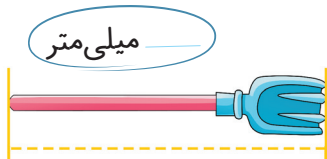
$400 - 200$



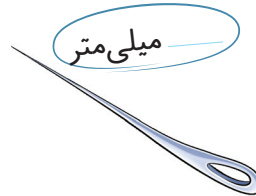

جدول سودوکو را کامل کن. ۱۸

۶	۱	۲	۴	۳	۷	۵	۹	
	۵	۹	۸	۶	۲		۷	۱
۳	۷		۹		۵	۶	۴	۲
	۲	۷		۸	۴	۱	۳	۹
۹	۶	۱	۷	۲	۳	۸	۵	
۸		۳	۵	۹		۲	۶	۷
۲	۳	۶	۱	۷	۹	۴	۸	۵
۱	۹			۵		۷		۶
۷	۸	۵	۲	۴	۶		۱	

طول هر شکل را با خطکش اندازه بگیر و بنویس چند میلی متر است. ۱۹



میلی متر



جاهای خالی را پر کن. ۲۰

۱۲ میلی متر می شود \_\_\_\_\_ سانتی متر و \_\_\_\_\_ میلی متر.

۱۹ میلی متر می شود \_\_\_\_\_ سانتی متر و \_\_\_\_\_ میلی متر.

۱۰ میلی متر می شود \_\_\_\_\_ سانتی متر.

۲ سانتی متر و ۳ میلی متر می شود \_\_\_\_\_ میلی متر.

۶ سانتی متر و ۸ میلی متر می شود \_\_\_\_\_ میلی متر.



۲۱ در یک اردوگاه تابستانی ۳۶۰ دانش آموز بود. پس از ۳ روز ۱۳۹ نفر از آنها رفتند. چند نفر دیگر هنوز در اردوگاه باقی مانده اند؟

۲۲ امین با ۶۴۸ تومان پول برای خرید به مغازه رفت. یک کتاب داستان به قیمت



۳۲۴ تومان و یک دفتر به قیمت ۱۲۵ تومان خرید.

او چند تومان خرید کرده است؟

چند تومان برایش مانده است؟

۲۳ حاصل جمع و تفریق های زیر را حساب کن.

$$\begin{array}{r} 436 \\ + 332 \\ \hline \end{array}$$

$$\begin{array}{r} 620 \\ + 209 \\ \hline \end{array}$$

$$\begin{array}{r} 710 \\ - 270 \\ \hline \end{array}$$

$$\begin{array}{r} 609 \\ - 405 \\ \hline \end{array}$$

$$\begin{array}{r} 165 \\ + 243 \\ \hline \end{array}$$

$$\begin{array}{r} 219 \\ + 337 \\ \hline \end{array}$$

$$\begin{array}{r} 349 \\ - 280 \\ \hline \end{array}$$

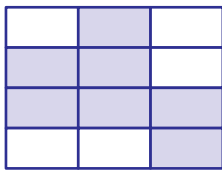
$$\begin{array}{r} 620 \\ - 347 \\ \hline \end{array}$$





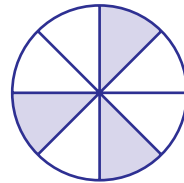
با توجه به هر شکل، جمله‌ها را کامل کن.

۲۴



\_\_\_\_\_ قسمت از \_\_\_\_\_

قسمت مساوی رنگ شده است.



\_\_\_\_\_ قسمت از \_\_\_\_\_

قسمت مساوی رنگ شده است.


با توجه به عبارت کسری نوشته شده، از هر شکل رنگ کن.

۲۵



۵ قسمت از ۸ قسمت مساوی



۴ قسمت از ۱۲ قسمت مساوی



۵ قسمت از ۱۶ قسمت مساوی



قَد سارا ۱۶۴ سانتی‌متر است. برادرش ۱۴ سانتی‌متر از او کوتاه‌تر

۲۶

است. قَد این دو نفر روی هم چند سانتی‌متر است؟

فاطمه ۵۶۳ تومان پول دارد. خواهرش ۱۳۵ تومان بیشتر از او پول

۲۷

دارد. فاطمه و خواهرش روی هم چند تومان پول دارند؟






۲۸ عدد داخل مربع به کدام عدد نزدیک تر است؟ گردی آن را رنگ بزن.

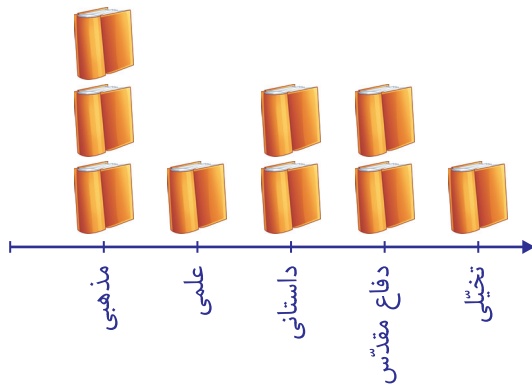
۵۸۰   ۵۸۵   ۶۰۰

۶۰۰   ۶۳۰   ۷۰۰

۴۶۰   ۴۵۱   ۴۵۰

۷۰۰   ۷۸۰   ۸۰۰




۲۹ نمودار زیر نشان دهنده تعداد کتاب‌های موجود در کتابخانه‌ی دبستان ایمان است. اگر هر ۱۰۰ کتاب را با نماد  نشان دهیم، با توجه به نمودار جدول زیر را کامل کن.






عنوان کتاب	کتاب‌های مذهبی	کتاب‌های علمی	کتاب‌های داستانی	کتاب‌های دفاع مقدس	کتاب‌های تخیلی
تعداد					

● مجموع کل کتاب‌های این کتابخانه چند جلد است؟

۳۰ با کمک ماشین حساب، سه عدد بعدی را پیدا کن.

۷   ۱۴   ۲۱     

۹   ۱۸   ۲۷     

۶   ۱۲   ۱۸     

۳۶   ۴۰   ۴۴     