

بہ نام پروردگار مہربان



ریاضیات تجربی کنکور

عباس اشرفی، سنور حریری



لقمہ طلائی



مہروماہ

مقدمه

سلام!

من کتاب لقمه طلایی ریاضی هستم!
اسم لقمه است، چون خیلی کوچولو و جمع و جور هستم.
فامیلیم طلائی، چون یه کتاب کنکوری هستم.
با این جثه کوچیکم، نوزده تا فصل رو تو خودم جا دادم. بعد از
این مقدمه که داری می‌خونی، یه درس نامه توپ، کلی نکته و
چاشنی و یه عالمه تست حل شده منتظرته. اگه وقت کمه یا
می‌خوای تو راه مدرسه یا توی مترو و... ریاضی رو دوره کنی،
همین الان منو بخر و بذار تو کیفیت! من برات بهترین همراه
و دیگه تا من هستم، نمی‌ذارم وقتت تلف بشه و هی مجبورت
می‌کنم منو بخونی.

واقعاً فکرشو بکن! هرچی کتابای تست جامع کنکور، همه با هم
دارن، من یکجا دارم! خلاصه اینکه من خیلی خوبم 😊
راستی تا یادم نرفته بگم من همه تست‌های کنکورهای چند سال
اخیر رو هم، حل شده دارم!

تشکر و سپاس فراوان از

- بعد از این همه تعریف از خودم، نوبتی هم باشه نوبت بقیه اس!
- باید از آقای احمد اختیاری مدیر انتشارات که ایده تولید من رو دادن تشکر کنم.
 - از آقای محمد حسین انوشه مدیر تألیف انتشارات تشکر می‌کنم که منو خیلی راهنمایی کردن، تا کامل‌تر باشم.
 - از آقای گودرزی مدیر فروش که ما رو به هم رسوندن.
 - آقای امیر انوشه که منو به شما معرفی کردن.
 - از خانم سمیرا سیاوشی مدیر تولید و همکارانشون آقای میلاد صفایی، سید علی تقوی و مریم صابری که منو به این شکل در آوردن.
 - از آقای محسن فرهادی مدیر هنری و همکارانشون آقای تایماز کاویانی و حسام طلایی که منو خوشگل کردن.
 - از خانم کبری ملکی و راحله فریدون‌نژاد که منو ویراستاری کردن و خانم دنیا سلیمی که با نظراتشون منو همراهی کردن.
 - و خلاصه از همه ممنونم که منو به وجود آوردن!
- امیدوارم زندگی پربرکتی داشته باشم و خیرم به همه کنکوری‌ها برسه!

ارادتمند شما

عباس اشرفی، سنور حریری

فهرست

- | | | |
|-----|-------------------------------|--------|
| ۷ | الگو و دنباله | فصل ۱ |
| ۱۸ | اتحادهای عبارتهای جبری | فصل ۲ |
| ۲۶ | تعیین علامت و نامعادله | فصل ۳ |
| ۳۷ | توانهای گویا (ریشه و رادیکال) | فصل ۴ |
| ۵۲ | هندسه تحلیلی (خط) | فصل ۵ |
| ۶۱ | معادلات گویا و گنگ | فصل ۶ |
| ۷۱ | قدر مطلق | فصل ۷ |
| ۸۴ | جزء صحیح (براکت) | فصل ۸ |
| ۹۱ | معادله و تابع درجه دوم | فصل ۹ |
| ۱۱۳ | مثلثات | فصل ۱۰ |
| ۱۴۲ | تابع | فصل ۱۱ |
| ۱۶۹ | توابع نمایی و لگاریتمی | فصل ۱۲ |

۱۸۳ حد و پیوستگی فصل ۱۳

۲۰۹ مشتق فصل ۱۴

۲۳۰ کاربرد مشتق فصل ۱۵

۲۴۶ هندسه فصل ۱۶

۲۶۱ مقاطع مخروطی فصل ۱۷

۲۷۸ احتمال فصل ۱۸

۲۹۴ آمار فصل ۱۹

۳۰۴ سوالات کنکور ۹۸

۳۲۲ فرمولنامه

فصل ۳

تعیین علامت و نامعادله

وعده ۱

بازه‌ها



بازه: زیرمجموعه‌هایی از \mathbb{R} که یک قطعه از محور اعداد حقیقی، شامل همه اعداد حقیقی بین دو عدد مشخص را نشان می‌دهند، **بازه** یا **فاصله** می‌نامیم.

بازه‌ها را می‌توان به صورت زیر خلاصه کرد: ($a < b$)

نمایش مجموعه‌ای	بازه	نمایش روی محور اعداد حقیقی
$\{x \in \mathbb{R} \mid a \leq x \leq b\}$	$[a, b]$	
$\{x \in \mathbb{R} \mid a < x < b\}$	(a, b)	
$\{x \in \mathbb{R} \mid a \leq x < b\}$	$[a, b)$	
$\{x \in \mathbb{R} \mid a < x \leq b\}$	$(a, b]$	
$\{x \in \mathbb{R} \mid x \geq a\}$	$[a, +\infty)$	
$\{x \in \mathbb{R} \mid x > a\}$	$(a, +\infty)$	
$\{x \in \mathbb{R} \mid x \leq a\}$	$(-\infty, a]$	
$\{x \in \mathbb{R} \mid x < a\}$	$(-\infty, a)$	

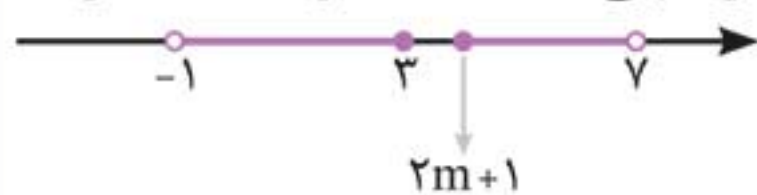
تست ۵: m باید عضو کدام بازه باشد تا اشتراک دو بازه

$(-1, 3]$ و $[2m+1, 7)$ تهی شود؟

(۱) $(1, +\infty)$ (۲) $(1, +\infty)$ (۳) $(1, 3)$ (۴) $(-\infty, 1]$

پاسخ گزینه «۳»

اگر بخواهیم اشتراک این دو بازه تهی باشد، باید وضعیت بازه‌ها



به صورت مقابل باشد:

$2m+1$ باید بیشتر از ۳ باشد؛ بنابراین:

$$2m+1 > 3 \Rightarrow 2m > 2 \Rightarrow m > 1 \quad \text{①}$$

همچنین برای این که $(2m+1, 7)$ به صورت بازه باقی بماند،

باید $2m+1$ کمتر از ۷ باشد؛ بنابراین:

$$2m+1 < 7 \Rightarrow 2m < 6 \Rightarrow m < 3 \quad \text{②}$$

از رابطه‌های ① و ② نتیجه می‌گیریم:

$$1 < m < 3$$

تست ۶: اگر n عددی طبیعی و A_n بازه $((-1)^n n, 2n)$

باشد، آن‌گاه حاصل $(A_3 - A_1) \cap (A_2 \cup A_4)$ کدام است؟

(۱) $(1, 6)$ (۲) $(2, 6) - \{4\}$

(۳) $(2, 8) - \{4\}$ (۴) $(2, 8)$

پاسخ گزینه «۲»

هر یک از مجموعه‌های A_1, A_2, A_3, A_4 را به دست می‌آوریم:

$$A_1 = ((-1)^1 1, 2(1)) = (-1, 2)$$

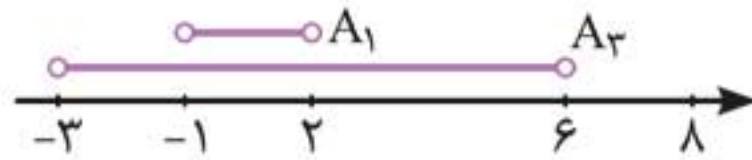
$$A_2 = ((-1)^2 2, 2(2)) = (2, 4)$$

$$A_3 = ((-1)^3 3, 2(3)) = (-3, 6)$$

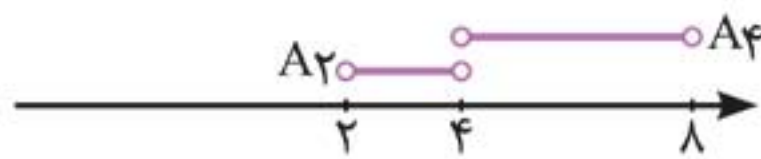
$$A_4 = ((-1)^4 4, 2(4)) = (4, 8)$$



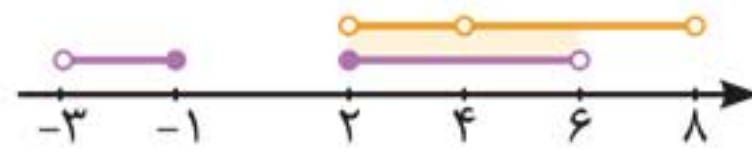
بازه‌های به‌دست آمده را روی محور اعداد حقیقی نمایش می‌دهیم و حاصل مجموعه خواسته‌شده را محاسبه می‌کنیم:



$$A_3 - A_1 = (-3, -1] \cup [2, 6)$$



$$A_2 \cup A_4 = (2, 8) - \{4\}$$



$$(A_3 - A_1) \cap (A_2 \cup A_4) = (2, 6) - \{4\}$$

وعدۀ ۲

تعیین علامت



۱. **تعیین علامت چندجمله‌ای‌های درجه اول:** برای تعیین علامت چندجمله‌ای‌های درجه اول به فرم $y = ax + b$ ($a \neq 0$)، ابتدا ریشه چندجمله‌ای را به‌دست می‌آوریم؛ سپس با توجه به جدول زیر عبارت را تعیین علامت می‌کنیم:

x	$-\infty$	$-\frac{b}{a}$	$+\infty$
$y = ax + b$	مخالف علامت a	○	موافق علامت a

فصل ۴

توان‌های گویا (ریشه و رادیکال)

وعدۀ ۱

معرفی ریشه n ام



اگر $n \geq 2$ یک عدد طبیعی باشد، b را یک **ریشه n ام** عدد a می‌نامیم، هرگاه $b^n = a$. برای نمونه ۳ ریشه پنجم 243 و $+\sqrt{2}$ و $-\sqrt{2}$ ریشه‌های دهم 32 هستند.

ریشه دوم: اگر a عددی **نامنفی** باشد، ریشه دوم آن مقداری است که در صورت به توان ۲ رساندن، برابر a شود. برای نمونه 2 و -2 ریشه‌های دوم عدد 4 هستند. **هر عدد حقیقی مثبت a** ، **دو ریشه دوم** \sqrt{a} و $-\sqrt{a}$ دارد.

ریشه سوم: برای هر عدد حقیقی a ، ریشه سوم a مقداری است که در صورت به توان ۳ رساندن، برابر a شود. برای نمونه $\frac{1}{2}$ ریشه سوم $-\frac{1}{8}$ است. **هر عدد حقیقی فقط یک ریشه سوم** دارد.

چاشنی: ریشه‌های مرتبه زوج عدد مثبت a برابر، $\sqrt[2n]{a}$ و $-\sqrt[2n]{a}$ هستند؛ ولی ریشه مرتبه فرد عدد a فقط $\sqrt[2n+1]{a}$ است.

تذکر: اعداد منفی ریشه مرتبه زوج ندارند.



تست: کدام گزینه درست نیست؟

- (۱) ریشه‌های دوم عدد ۲۵ برابر با ۵ و -۵ است.
- (۲) عدد -۱۲۵ فقط یک ریشه سوم دارد.
- (۳) ریشه پنجم عدد $4\sqrt{2}$ برابر با $\sqrt{2}$ است.
- (۴) ریشه نهم عدد ۱۲۸ برابر با ۲ است.

پاسخ گزینه «۴»

با توجه به تعریف ریشه n ام، گزینه‌های ۱، ۲ و ۳ درست‌اند؛ اما گزینه ۴ نادرست است؛ زیرا:

$$2^9 = 512 \neq 128$$

چاشنی: به ازای هر عدد طبیعی n ، $n \geq 2$ داریم:

n فرد	$\sqrt[n]{a^n} = a$	$(\sqrt[n]{a})^n = a$
n زوج	$\sqrt[n]{a^n} = a $	$\begin{cases} a \geq 0 \Rightarrow (\sqrt[n]{a})^n = a \\ a < 0 \Rightarrow (\sqrt[n]{a})^n = \text{تعریف نشده} \end{cases}$

تست: کدام گزینه نادرست است؟

- (۱) $\sqrt[5]{-32} = -2$
- (۲) $\sqrt[4]{16} = \pm 2$
- (۳) $\sqrt[4]{(-3)^4} = 3$
- (۴) $-\sqrt{49} = -7$

پاسخ گزینه «۲»

با توجه به چاشنی گفته‌شده گزینه‌های ۱، ۳ و ۴ درست‌اند و گزینه ۲ نادرست است، زیرا:

$$\sqrt[4]{16} = 2$$

فصل ۷

قدر مطلق

وعدۀ ۱

تعریف قدر مطلق



$|x|$ همان فاصله x از مبدأ، روی محور اعداد حقیقی است. برای مثال $|-5| = |5| = 5$ ، زیرا فاصله هر دو عدد 5 و -5 از مبدأ برابر 5 است.

حال به تعریف ریاضی قدر مطلق می‌پردازیم:

$$|x| = \begin{cases} x & ; x \geq 0 \\ -x & ; x < 0 \end{cases}$$

به زبان خودمانی، اگر عبارت داخل قدر مطلق نامنفی باشد، حاصل قدر مطلق برابر با خود عبارت است و اگر عبارت داخل قدر مطلق مقداری منفی باشد، حاصل آن برابر با قرینه عبارت داخل قدر مطلق است.

تست: حاصل $A = |2\sqrt{3} - 2| + |3 - \sqrt{7}| - |\sqrt{7} - 2\sqrt{3}|$

کدام است؟

(۱) $4\sqrt{3}$ (۲) 5 (۳) 1 (۴) $2\sqrt{7}$

پاسخ: گزینه «۳»

علامت عبارت‌های داخل تک‌تک قدر مطلق‌ها را مشخص می‌کنیم:

$$\underbrace{|2\sqrt{3} - 2|}_{\text{مثبت}} = 2\sqrt{3} - 2$$

$$\underbrace{|3 - \sqrt{7}|}_{\text{مثبت}} = 3 - \sqrt{7}$$

$$\underbrace{|\sqrt{7} - 2\sqrt{3}|}_{\text{منفی}} = -(\sqrt{7} - 2\sqrt{3}) = -\sqrt{7} + 2\sqrt{3}$$

فصل ۱۳ حد و پیوستگی

وعدۀ ۱

همسایگی



همسایگی: هر بازه‌ باز شامل عدد حقیقی x_0 را یک همسایگی x_0 می‌نامیم؛ به عبارت دیگر اگر $x_0 \in (a, b)$ باشد، آن‌گاه بازه (a, b) یک همسایگی x_0 است؛ برای نمونه بازه $(-1, 0)$ یک همسایگی $\frac{1}{3}$ است.

همسایگی محذوف: اگر بازه (a, b) یک همسایگی عدد حقیقی x_0 باشد، آن‌گاه مجموعه $(a, b) - \{x_0\}$ یک همسایگی محذوف x_0 نامیده می‌شود؛ برای نمونه مجموعه $\{1\} - (\frac{2}{3}, \frac{4}{3})$ یک همسایگی محذوف ۱ است.

همسایگی چپ و راست: اگر r عددی مثبت باشد، آن‌گاه $(x_0, x_0 + r)$ یک همسایگی راست x_0 و $(x_0 - r, x_0)$ یک همسایگی چپ x_0 نامیده می‌شود؛ برای نمونه بازه $(\frac{2}{5}, 3)$ یک همسایگی راست $\frac{2}{5}$ و بازه $(-3, -1)$ یک همسایگی چپ -1 است.

وعدۀ ۲

حد تابع در یک نقطه



فرض کنیم تابع f در بازه‌ای مانند (a, b) شامل نقطه x_0 (به‌جز احتمالاً در خود x_0) تعریف شده باشد. حد تابع f در x_0



برابر عدد l است، هرگاه مقادیر تابع f را به هر اندازه دلخواه بتوان به l نزدیک کرد، به شرط آن که x (از دو طرف راست و چپ) به اندازه کافی به x_0 نزدیک شود. در این صورت می‌نویسیم:

$$\lim_{x \rightarrow x_0} f(x) = l$$

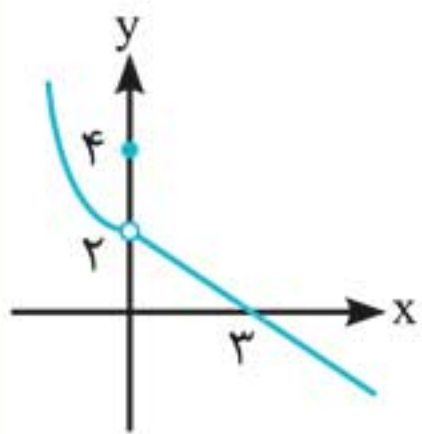
یادداشت: حد تابع در یک نقطه به مقدار تابع در آن نقطه ربطی ندارد؛ برای پیدا کردن حد تابع در یک نقطه باید رفتار تابع را در نزدیکی آن نقطه (چه از سمت چپ و چه از سمت راست) بررسی کرد. به‌طور کلی اگر دربارهٔ تابعی مانند f داشته باشیم $\lim_{x \rightarrow a} f(x) = l$ ، آن‌گاه دربارهٔ $f(a)$ یکی از حالت‌های زیر را داریم:

الف $f(a)$ موجود نیست.

ب $f(a)$ موجود است؛ ولی $\lim_{x \rightarrow a} f(x) \neq f(a)$

پ $\lim_{x \rightarrow a} f(x) = f(a)$

تست: نمودار تابع f به صورت زیر است. حاصل



کدام است؟ $\lim_{x \rightarrow 0} f(x) + f(0)$

(۱) ۵

(۲) ۶

(۳) ۴

(۴) ۷

پاسخ گزینه «۲»

$$\lim_{x \rightarrow 0} f(x) = 2, f(0) = 4 \Rightarrow \lim_{x \rightarrow 0} f(x) + f(0) = 6$$

سوالات کنکور ۹۸

کنکور سراسری ۹۸

۱. اگر $\frac{3\pi}{2} < x < \pi$ باشد، حاصل $(2\sin^2 \frac{\pi}{4} - \sin^2 x) \sqrt{1 + \tan^2 x}$ ،

کدام است؟

(۱) $\sin x$ (۲) $\cos x$ (۳) $-\sin x$ (۴) $-\cos x$

۲. سرعت یک قایق موتوری، در آب راکد ۱۰۰ متر در دقیقه است. این قایق فاصله ۱۲۰۰ متری در رودخانه را رفته و برگشته است. اختلاف زمان رفت و برگشت ۵ دقیقه است. سرعت آب رودخانه، چند متر در دقیقه است؟

(۱) ۱۲ (۲) ۱۵ (۳) ۲۰ (۴) ۲۵

۳. مجموعه جواب نامعادله $3 < \frac{2x-3}{x+1} < 1$ ، به کدام صورت است؟

(۱) $\mathbb{R} - [-6, 4]$ (۲) $\mathbb{R} - [-4, 6]$

(۳) $x > 4$ (۴) $x < -6$

۴. گل فروشی از ۸ نوع گل مختلف، به چند طریق، می تواند دسته گل های متمایز درست کند، به طوری که در هر دسته ۴ یا ۵ یا ۶ شاخه مختلف، موجود باشد؟

(۱) ۱۲۶ (۲) ۱۴۰ (۳) ۱۵۴ (۴) ۱۶۸

۵. اگر $3a + \sqrt{2a^2 + 4a} = 2$ باشد، عدد $\frac{a+1}{a}$ ، کدام است؟

(۱) ۱/۵ (۲) ۲/۵ (۳) ۳/۵ (۴) ۴/۵



پاسخنامه کنکور ۹۸

۱. گزینه «۴»

$\cos x < 0$ در ربع سوم قرار دارد، پس:

$$\sqrt{1 + \tan^2 x} = \sqrt{\frac{1}{\cos^2 x}} = \frac{1}{|\cos x|} = \frac{1}{-\cos x}$$

$$2 \sin^2 \frac{\pi}{4} - \sin^2 x = 2 \left(\frac{\sqrt{2}}{2} \right)^2 - \sin^2 x = 1 - \sin^2 x = \cos^2 x$$

$$\frac{1}{-\cos x} \cdot \cos^2 x = -\cos x \quad \text{حاصل عبارت به صورت مقابل است:}$$

۲. گزینه «۳»

سرعت آب در رودخانه را V در نظر می‌گیریم:

$$\frac{1200}{100 - V} - \frac{1200}{100 + V} = 5 \Rightarrow \frac{2V}{10000 - V^2} = \frac{1}{240}$$

$$\Rightarrow V^2 - 480V - 10000 = 0$$

$$\Rightarrow (V + 500)(V - 20) = 0 \Rightarrow \begin{cases} V = 20 \\ V = -500 \text{ غیرقابل قبول} \end{cases}$$

۳. گزینه «۱»

$$1 < \frac{2x - 3}{x + 1} < 3 \xrightarrow{-2} -1 < \frac{2x - 3}{x + 1} - 2 < 1$$

$$\Rightarrow -1 < \frac{-5}{x + 1} < 1 \Rightarrow \left| \frac{-5}{x + 1} \right| < 1 \Rightarrow |x + 1| > 5$$

$$\Rightarrow \begin{cases} x + 1 > 5 \\ x + 1 < -5 \end{cases} \Rightarrow \begin{cases} x > 4 \\ x < -6 \end{cases} \Rightarrow \mathbb{R} - [-6, 4]$$