

## فهرست

### فصل اول:

۷ حرکت بر خط راست

### فصل دوم:

۵۵ دینامیک و حرکت دایره‌ای

### فصل سوم:

۹۱ نوسان و موج

### فصل چهارم:

۱۲۲ برهم کنش‌های موج

### فصل پنجم:

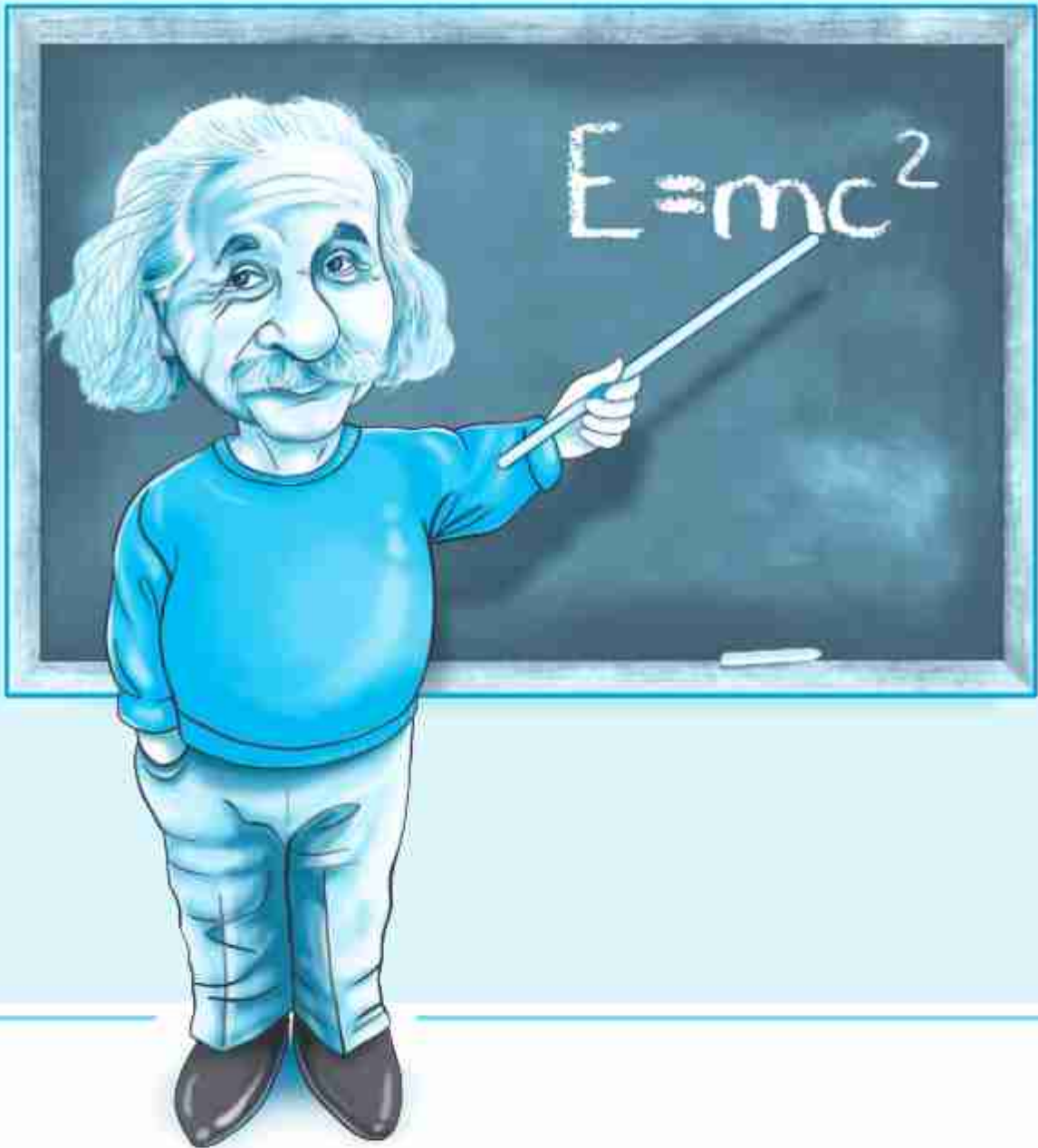
۱۴۸ آشنایی با فیزیک اتمی

### فصل ششم:

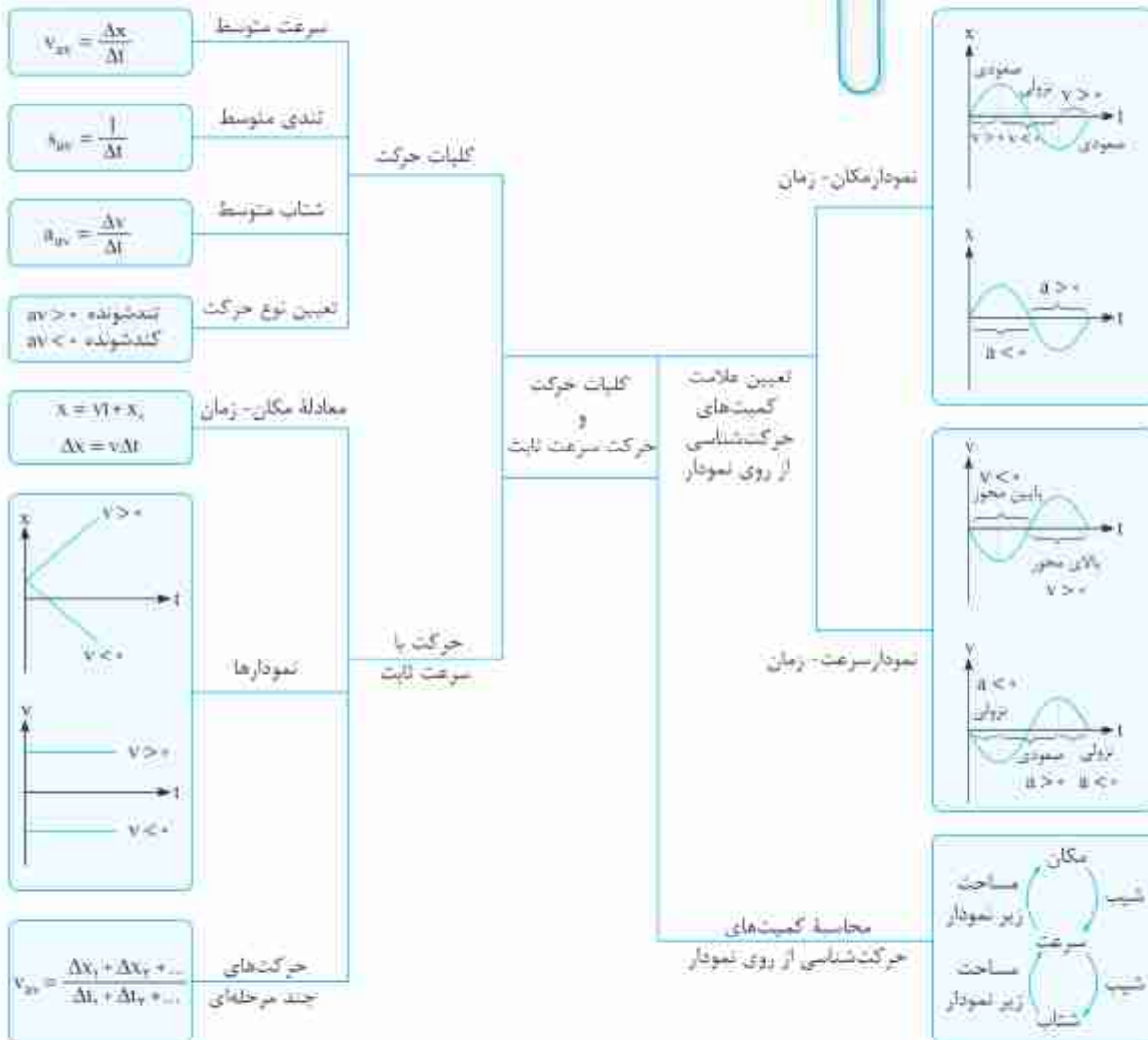
۱۷۴ آشنایی با فیزیک هسته‌ای

## فصل اوّل

# حرکت بر خط راست



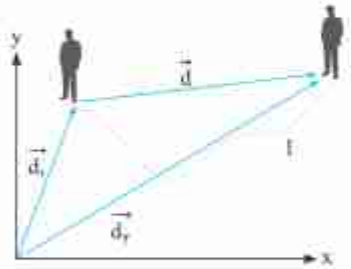
# جمع بندی فصل اول در یک نگاه



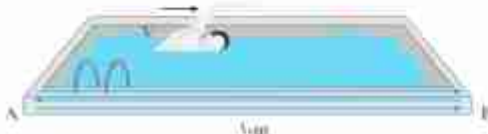
مرحله اول جمع‌بندی کلیات حرکت

نکته (۱): جابه‌جایی و مسافت

در شروع این فصل می‌خواهیم شما را با کمیت‌های اصلی حرکت‌شناسی آشنا کنیم.  
**بردار مکان:** برداری است که ابتدای آن مبدأ مکان و انتهای آن مکان جسم است.  
**بردار جابه‌جایی:** برداری که ابتدای آن مکان اولیه جسم و انتهای آن مکان ثانویه جسم است.  
**مسافت:** طول مسیری که طی شده توسط متحرک مسافت نام دارد.  
 به‌طور مثال فرض کنید مطابق شکل روبه‌رو شخصی در مسیر نشان داده شده حرکت کرده باشد. در این شکل بردار مکان اولیه  $(\vec{d}_1)$ ، بردار مکان ثانویه  $(\vec{d}_2)$ ، بردار جابه‌جایی  $(\vec{d})$  و مسافت طی شده توسط متحرک  $(l)$  نشان داده شده است.



**نکته!** دقت کنید که جابه‌جایی متحرک فقط به نقاط شروع و پایان حرکت بستگی دارد. در صورتی‌که، مسافت طی شده توسط متحرک به کل مسیری طی شده بستگی دارد. به‌طور مثال فرض کنید مطابق شکل زیر، شناگری طول یک استخر ۳ متری را سه بار طی کرده و از نقطه A به B برسد. در این صورت اندازه جابه‌جایی و مسافت طی شده توسط متحرک برابر است با:



مسافت طی شده  $l = 3 + 3 + 3 = 9 \text{ m}$   
 اندازه جابه‌جایی  $|\vec{d}| = AB = 3 \text{ m}$

نکته (۲): تندی متوسط و سرعت متوسط

**تندی متوسط:** به نسبت مسافت طی شده توسط متحرک به زمان حرکت، تندی متوسط گویند. تندی متوسط کمیتی نرده‌ای است و آن را به صورت  $s_{av}$  نشان می‌دهند و به صورت مقابل به دست می‌آید:

$$s_{av} = \frac{l}{\Delta t}$$

- $s_{av}$  — تندی متوسط برحسب متر بر ثانیه  $(\frac{m}{s})$
- $l$  — مسافت طی شده برحسب متر (m)
- $\Delta t$  — مدت زمان حرکت برحسب ثانیه (s)

**سرعت متوسط:** به نسبت جابه‌جایی انجام شده توسط متحرک به زمان حرکت، سرعت متوسط گویند. سرعت متوسط کمیتی برداری است و آن را به صورت  $\vec{v}_{av}$  نشان می‌دهند و به صورت مقابل به دست می‌آید:

$$\vec{v}_{av} = \frac{\vec{d}}{\Delta t}$$

- $\vec{v}_{av}$  — بردار سرعت متوسط برحسب متر بر ثانیه  $(\frac{m}{s})$
- $\vec{d}$  — بردار جابه‌جایی برحسب متر (m)

به‌طور مثال، اگر در قسمت قبل، کل مدت زمان شنا کردن شناگر ۶s باشد تندی متوسط و اندازه سرعت متوسط آن به صورت زیر به دست می‌آید:

$$s_{av} = \frac{l}{\Delta t} = \frac{3}{6} = \frac{1}{2} \frac{m}{s}$$

$$|\vec{v}_{av}| = \frac{|\vec{d}|}{\Delta t} = \frac{3}{6} = \frac{1}{2} \frac{m}{s}$$

نکته (۳): شتاب متوسط

**شتاب متوسط:** به نسبت تغییرات سرعت متحرک به زمان حرکت شتاب متوسط گویند. شتاب متوسط کمیتی برداری است و آن را به صورت  $\vec{a}_{av}$  نشان می‌دهند و به صورت مقابل به دست می‌آید:

$$\vec{a}_{av} = \frac{\Delta \vec{v}}{\Delta t}$$

**نکته!** با توجه به رابطه بالا هرگاه سرعت جسمی تغییر کند حرکت آن شتاب‌دار است. با توجه به این‌که بردار سرعت در هر نقطه بر مسیر حرکت مماس است، تغییر سرعت جسم در نقاط مختلف مسیر حرکت می‌تواند به دلیل تغییر در اندازه بردار سرعت (تندی) جسم باشد و یا می‌تواند به دلیل تغییر در جهت بردار سرعت آن باشد و یا همچنین می‌تواند به دلیل تغییر در اندازه و جهت بردار سرعت به صورت هم‌زمان باشد.



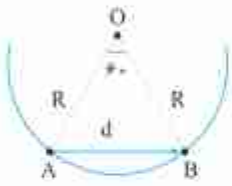


۱ گلوله‌ای مطابق شکل درون نیم‌کره به شعاع R قرار دارد. گلوله‌ای از نقطه A رها شده و تا نقطه B روبه‌روی نقطه A بالا می‌رود. در این حرکت مسافت طی شده توسط گلوله چند برابر اندازه جابه‌جایی آن است؟

- ۱)  $\frac{\pi}{6}$   ۲)  $\frac{\pi}{3}$   ۳) ۱  ۴)  $\frac{2}{3}$

**حل** با توجه به شکل، مثلث OAB متساوی‌الاضلاع است. جابه‌جایی جسم برابر یاره‌خط AB و مسافت طی شده هم برابر کمانی از دایره است که تقادیر آنها را می‌توان به صورت زیر محاسبه کرد:

$$d = R \quad l = \frac{\text{محیط}}{6} = \frac{2\pi R}{6} = \frac{\pi R}{3} \quad \rightarrow \quad \frac{l}{d} = \frac{\frac{\pi R}{3}}{R} = \frac{\pi}{3}$$

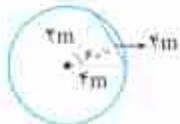


۲ شخصی زغال‌گردانی به طول ۴m را با تندی ثابت می‌چرخاند. اگر اندازه جابه‌جایی در هر ثانیه برای انتهای زغال‌گردان که محفظه زغال است، برابر ۴m باشد، مسیر پیموده شده توسط محفظه زغال در مدت ۴s چند متر است؟ (π = ۳)

- ۱) ۱۲  ۲) ۶  ۳) ۱۶  ۴) ۳۶

**حل** با توجه به شکل که طرحی از مسیر حرکت محفظه زغال‌گردان است، متحرک روی مسیر دایره‌ای به شعاع ۲ متر در هر ثانیه ۴ متر جابه‌جا می‌شود. بنابراین متحرک در هر ثانیه  $\frac{1}{6}$  از محیط دایره را طی می‌کند.

پس مسافت طی شده در ۴ ثانیه برابر  $\frac{2}{3}$  از محیط دایره است.



$$l = \frac{2}{3} \times (\text{محیط دایره}) = \frac{2}{3} \times (2\pi R) = \frac{2}{3} \times (2 \times 3 \times 4) = 16m$$

۳ در یک ساعت مچی طول عقربه ثانیه‌شمار ۲ برابر طول عقربه ساعت‌شمار است. در مدت ۱ ساعت تندی متوسط نوک عقربه ثانیه‌شمار چند برابر تندی متوسط نوک عقربه ساعت‌شمار است؟

- ۱) ۱۴۴۰  ۲) ۷۲۰  ۳) ۲۴۰  ۴) ۱۲۰

**حل** عقربه ساعت‌شمار در هر ساعت  $\frac{1}{12}$  دور می‌زند اما عقربه ثانیه‌شمار در یک ساعت ۶۰ دور می‌زند. می‌دانیم طول عقربه ثانیه‌شمار دو برابر طول عقربه ساعت‌شمار است، در نتیجه محیطی که طی می‌کند دو برابر محیط عقربه ثانیه‌شمار است.

$$\frac{S_{\text{ثانیه‌شمار}}}{S_{\text{ساعت‌شمار}}} = \frac{l_1}{l_2} \times \frac{\Delta t_2}{\Delta t_1} \rightarrow \frac{S_{\text{ثانیه‌شمار}}}{S_{\text{ساعت‌شمار}}} = \frac{l_1}{l_2} \times \frac{\Delta t_2}{\Delta t_1} = \frac{60 \times (2\pi R_1)}{1 \times (2\pi R_2)} = 720 \times \frac{R_1}{R_2} = 720 \times 2 = 1440$$

### مرحله دوم جمع‌بندی نمودارهای حرکت

#### مبحث (۱): تعیین کمیت‌ها و لحظات خاص از روی نمودارها

در این مرحله ابتدا شما را با چند اصطلاح خاص که در حرکت‌شناسی بسیار کاربرد دارد آشنا می‌کنیم:

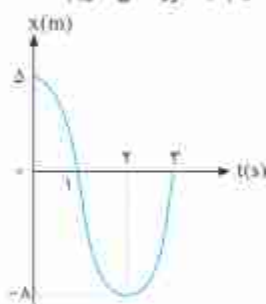
- ۱ مکان اولیه حرکت ← مکانی که متحرک در لحظه  $t = 0$  در آن قرار دارد. به عبارت دیگر فاصله اولیه متحرک از مبدأ است.
- ۲ مبدأ مکان ← مبدأ مختصات یا به عبارت دیگر  $x = 0$  است و فاصله تمام نقاط نسبت به آن سنجیده می‌شود.
- ۳ تغییر جهت بردار مکان ← به‌طور کلی اگر متحرکی که روی محور x حرکت می‌کند در قسمت مثبت محور x (سمت راست مبدأ) باشد مکان آن مثبت و اگر در قسمت منفی محور x (سمت چپ مبدأ) باشد، مکان آن منفی است. بنابراین در لحظه‌ای که متحرک از مبدأ مکان عبور می‌کند، بردار مکان تغییر جهت می‌دهد.
- ۴ تغییر جهت متحرک ← به‌طور کلی اگر متحرکی که روی محور x حرکت می‌کند در جهت محور x در حال حرکت باشد، سرعت آن مثبت و اگر در خلاف جهت محور x حرکت کند سرعت آن منفی می‌شود. بنابراین در لحظه‌ای که اندازه سرعت صفر شده و علامت آن تغییر می‌کند، متحرک تغییر جهت می‌دهد.
- ۵ ثانیه nام ← بازه زمانی  $t_1 = n-1$  تا  $t_2 = n$  نام دارد. به‌طور مثال منظور از ثانیه پنجم بازه زمانی  $t_1 = 4s$  تا  $t_2 = 5s$  است.
- ۶ T ثانیه nام ← بازه زمانی  $t_1 = (n-1)T$  تا  $t_2 = nT$ ، T ثانیه nام نام دارد. به‌طور مثال منظور از سه ثانیه دوم، بازه زمانی  $t_1 = 2s$  تا  $t_2 = 5s$  است.



در ادامه شما را با نمودارهای حرکت یک متحرک آشنا می‌کنیم.

### الف: نمودار مکان - زمان

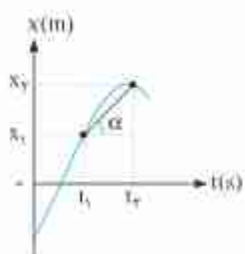
۱. نمودار مکان - زمان، مکان متحرک را در هر لحظه نشان می‌دهد. برای به دست آوردن جابه‌جایی متحرک در یک بازه زمانی مشخص کافی است تفاضل مکان ثانویه و اولیه آن را به دست آوریم و برای به دست آوردن مسافت طی شده توسط آن باید کل مسیر طی شده را محاسبه کنیم. به طور مثال داریم:



$$\text{جابه‌جایی در } 2 \text{ ثانیه اول} = 0 - \Delta = -\Delta \text{ m}$$

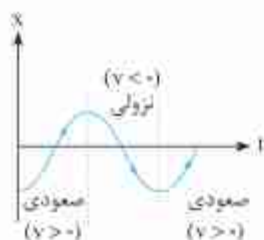
$$\text{مسافت در } 3 \text{ ثانیه اول} = \Delta + \lambda + \lambda = 2\lambda \text{ m}$$

۲. شیب خط واصل بین دو نقطه از نمودار مکان - زمان برابر سرعت متوسط متحرک در آن بازه زمانی است.

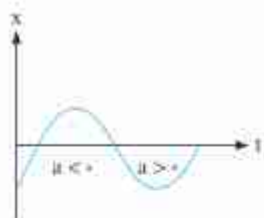


$$\text{شیب خط واصل} = \tan \alpha = \frac{\Delta x}{\Delta t} = v_{\text{av}}$$


۳. شیب خط مماس به نمودار مکان - زمان برابر سرعت لحظه‌ای متحرک در آن لحظه است. به عبارت دیگر هنگامی که نمودار مکان - زمان صعودی است، سرعت متحرک مثبت بوده و متحرک در جهت محور x ها حرکت می‌کند و هنگامی که نمودار مکان - زمان نزولی است، سرعت متحرک منفی بوده و متحرک در خلاف جهت محور x حرکت می‌کند.



۴. تقعر نمودار مکان - زمان بیانگر علامت شتاب متحرک است. به عبارت دیگر، اگر تقعر نمودار مثبت باشد (نمودار این شکلی باشد) شتاب متحرک مثبت و اگر تقعر نمودار منفی باشد (نمودار این شکلی باشد) شتاب متحرک منفی و اگر نمودار به صورت خطی باشد، شتاب متحرک صفر است.

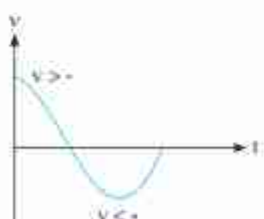


۵. و در آخر لحظات خاصی که با آنها آشنا شده‌اید در نمودار مکان - زمان به صورت رویه‌رو است:



### ب: نمودار سرعت - زمان

۱. در هر لحظه که نمودار بالای محور t است، سرعت متحرک مثبت بوده و متحرک در جهت محور x ها حرکت می‌کند و در هر لحظه که نمودار زیر محور t است، سرعت متحرک منفی بوده و متحرک در خلاف جهت محور x ها حرکت می‌کند.

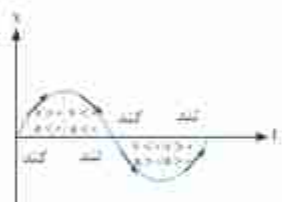




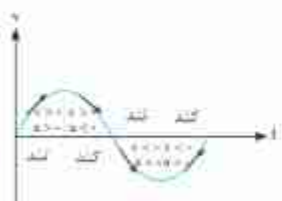
به طور خلاصه در مورد نوع حرکت متحرک می‌توانیم بگوییم:

- نوع حرکت متحرک
- سرعت ثابت:  $(a = 0)$
  - تندشونده:  $(av > 0)$
  - کندشونده:  $(av < 0)$
  - شتاب ثابت:  $(a \neq 0)$

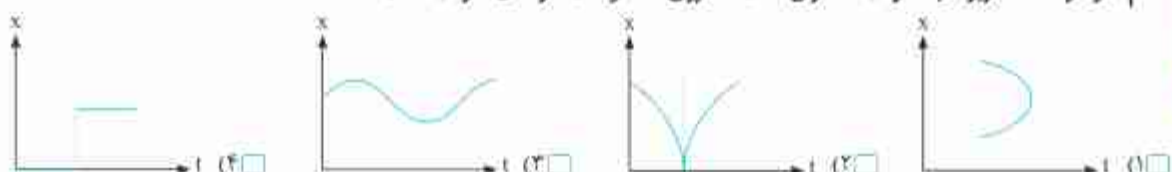
**نکات ۱** همان‌طور که در تحلیل نمودار مکان - زمان مشاهده کردید به کمک نمودار مکان - زمان می‌توان علامت سرعت و شتاب متحرک را به دست آورد و به کمک آن می‌توان نوع حرکت متحرک را تشخیص داد. به طور مثال در نمودار مقابل داریم:



**۲** در نمودار سرعت - زمان هم می‌توان به کمک بررسی علامت  $av$  نوع حرکت را تشخیص داد. اما علاوه بر این روش می‌توانیم بگوییم در نمودار سرعت - زمان هرگاه نمودار به  $(v = 0)$  نزدیک شد، حرکت کندشونده و هرگاه از آن دور شد حرکت تندشونده است. به نمودار رویه رو دقت کنید:



**۴** کدام نمودار  $x-t$  مربوط به حرکت متحرکی است که روی خط راست در حال حرکت است؟



**حل** نمودار مکان - زمان یک متحرک روی خط راست باید شرایط زیر را دارا باشد:

(۱) در یک لحظه در دو مکان نباشد. [رد گزینه «۱»]

(۲) نمودار باید پیوسته باشد. [رد گزینه «۴»]

(۳) سرعت هرگز بی‌نهایت نمی‌شود یعنی خط مماس به شکل قائم در نمی‌آید. [رد گزینه «۲»]

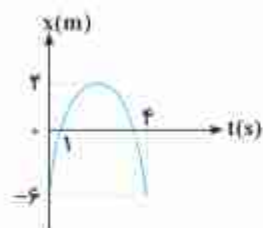
**۵** نمودار مکان - زمان متحرکی که با شتاب ثابت در مسیر مستقیم حرکت می‌کند مطابق شکل است.

سرعت متوسط در فاصله زمانی  $t = 1s$  تا  $t = 4s$  چند متر بر ثانیه است؟

۲ (۱)

۶ (۳)

**حل** سرعت متوسط - برابر جایه جایی در واحد زمان می‌باشد، داریم:



$$v_{av(1,4)} = \frac{\Delta x}{\Delta t} = \frac{x_2 - x_1}{t_2 - t_1} = \frac{-6 - 0}{4 - 0} = -\frac{6}{4} = -\frac{3}{2} \frac{m}{s}$$

$$s_{av(1,4)} = \frac{l}{\Delta t} = \frac{|\Delta x_1| + |\Delta x_2|}{\Delta t} = \frac{6 + 6}{4} = \frac{12}{4} = 3 \frac{m}{s}$$

پس، اگر همین سوال، تتری را از ما بخواسته باشد، روش حل آن چگونه است؟

**۶** شکل مقابل، نمودار مکان - زمان متحرکی است که در مسیر مستقیم حرکت کرده است. بیشینه

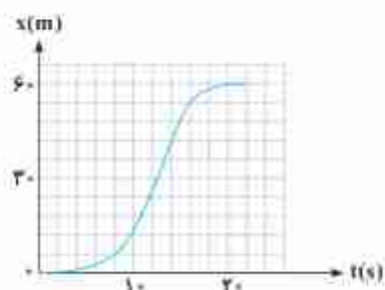
سرعت آن چند متر بر ثانیه است؟

۳ (۱)

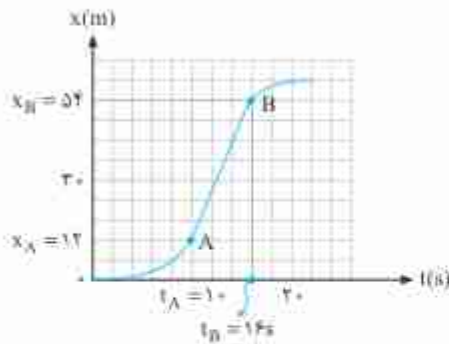
۵ (۲)

۷ (۳)

۹ (۴)







**حل:** حرکت این متحرک در ابتدا تند شونده است (شیب خط مماس با همان سرعت در حال افزایش) و سرعت در حال افزایش است.

سپس نوع حرکت یکنواخت شده و در نهایت حرکت کندشونده می‌شود. (شیب خط مماس با همان سرعت در حال کاهش) پس بیشترین مقدار سرعت مربوط به قسمتی است که حرکت یکنواخت است. برای محاسبه سرعت در این بازه توجه کنید که روی محور زمان هر خانه بیانگر 2s و روی محور مکان هر خانه معادل با 6m است. برای تعیین سرعت در قسمت حرکت یکنواخت یا توجه به ثابت بودن سرعت، مقدار سرعت متوسط را در بازه زمانی 10 تا 16 ثانیه محاسبه می‌کنیم.

$$v = v_{av(10,16)} = \frac{\Delta x}{\Delta t} = \frac{x_B - x_A}{t_B - t_A} = \frac{54 - 12}{16 - 10} = 7 \frac{m}{s}$$

متحرکی روی محور x حرکت می‌کند و نمودار سرعت - زمان آن مطابق شکل روبه‌رو است. متحرک در 14 ثانیه اول، چند ثانیه در سوی مخالف محور x حرکت کرده است؟ (پیشی درج 89)

- 1)  4  
2)  6  
3)  8  
4)  12

**حل:** مدت زمان حرکت متحرک خلاف جهت محور x، بازه زمانی است که علامت سرعت در آن منفی باشد. پس ابتدا لحظه‌ای را که سرعت صفر شده پیدا می‌کنیم.

$$\tan \alpha = \tan \alpha$$

$$\frac{4}{t_1 - 2} = \frac{8}{14 - t_1} \rightarrow t_1 = 6s$$

در سؤال مدت زمان حرکت با سرعت منفی خواسته شده که منظور طول بازه زمانی [6s, 14s] می‌باشد که برابر با 8s است.

نمودار سرعت - زمان متحرکی که روی محور x حرکت می‌کند، مطابق شکل روبه‌رو است. شتاب متوسط متحرک در بازه زمانی  $t = 0$  تا  $t = 15s$  چند متر بر مجذور ثانیه است؟ (پیشی درج 93)

- 1)  0.4  
2)  0.6  
3)  0.8  
4)  2.5

**حل:** برای تعیین شتاب متوسط، سرعت را در دو لحظه، 0 و 15 ثانیه لازم داریم. در لحظه 15 ثانیه با توجه به نمودار، سرعت برابر صفر است و سرعت لحظه  $t = 0$  را از ثابت بودن شیب در بازه 0 تا 10 ثانیه به دست می‌آوریم.

$$\tan \alpha = \tan \alpha$$

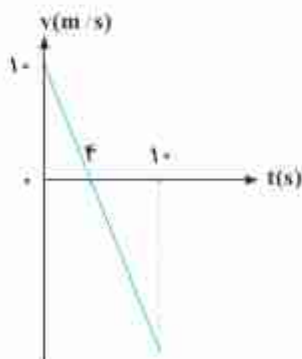
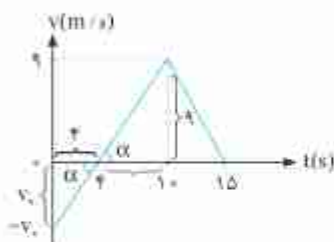
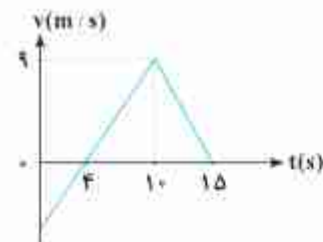

$$\frac{v_0}{4} = \frac{9}{6} \Rightarrow v_0 = 6 \frac{m}{s}$$

در ادامه برای محاسبه شتاب متوسط داریم:

$$a_{av} = \frac{\Delta v}{\Delta t} = \frac{v_2 - v_1}{t_2 - t_1} = \frac{0 - 6}{15 - 0} = -0.4 \frac{m}{s^2}$$

نمودار سرعت - زمان متحرکی که روی محور x حرکت می‌کند، مطابق شکل است. متحرک در لحظه  $t = 10s$  در چند متری مبدأ قرار دارد؟ (متحرک در لحظه  $t = 0$  در  $x = +2m$  قرار دارد. x های مثبت در سمت راست مبدأ مختصات واقع اند.) (پیشی درج 86)

- 1)  27 متری سمت راست مبدأ  
2)  23 متری سمت چپ مبدأ  
3)  25 متری سمت چپ مبدأ  
4)  227 متری سمت راست مبدأ







(1) امواج الکترومغناطیسی از E متغیر و B متغیر به وجود می‌آیند.  
 (2) متغیر B تولید می‌کند، B متغیر E تولید می‌کند.  
 (3) E و B برهم عموداند.  
 (4) E و B بر جهت انتشار عمودند و امواج الکترومغناطیسی عرضی هستند.  
 (5) نیاز به محیط مادی برای انتشار ندارند.



پرتوهای گاما X گزینشی مری آفرسوخ میکروموج امواج رادیویی

پخشش-عقلی، آبی، سبز، زرد نارنجی، قرمز

افزایش طول موج

**تندی انتشار صوت**

$$v_{\text{گاز}} > v_{\text{مایع}} > v_{\text{جامد}}$$

**ویزگی‌ها**

**شدت صوت**

$$I = \frac{\bar{P}}{A} = \frac{E}{A \cdot t} \quad \frac{I_T}{I_1} = \left(\frac{A_1}{A_T}\right)^2 \times \left(\frac{r_1}{r_T}\right)^2 = \left(\frac{r_1}{r_T}\right)^2$$

**تراز شدت صوت**

$$\beta = 10 \cdot \log \frac{I}{I_0} \quad \Delta\beta = 10 \cdot \log \frac{I_T}{I_1}$$

**نمودار صوت و امواج الکترومغناطیسی**

**چشمه ساکن**

**تأثیر متحرک**

**دوپلر**

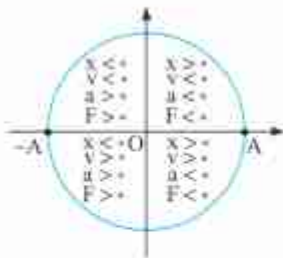
**چشمه ساکن**

**تأثیر متحرک**

**چشمه ساکن**

**تأثیر متحرک**

**چشمه ساکن**



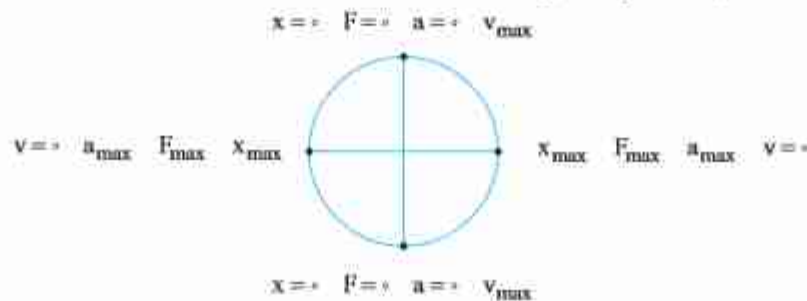
**شتاب و نیرو:** به طور کلی طبق رابطه  $F = ma$ ، شتاب و نیرو همواره هم علامت هستند. در حرکت هماهنگ ساده هنگامی که جسم در سمت راست نقطه تعادل قرار می‌گیرد فتر جسم را به سمت چپ می‌کشد و هنگامی که جسم در سمت چپ نقطه تعادل قرار می‌گیرد، فتر آن را به سمت راست هل می‌دهد. به عبارت دیگر می‌توانیم بگوییم، هنگامی که  $x > 0$  است نیروی وارد شده و به دنبال آن شتاب حرکت جسم منفی هستند و هنگامی که  $x < 0$  است، نیروی وارد شده به جسم و شتاب حرکت جسم مثبت هستند. در شکل مقابل علامت کمیت‌های مختلف در یک دایره مشخص شده است.

**تعیین مقدار کمیت‌های مختلف در حرکت هماهنگ ساده**

**مکان:** هنگامی که متحرک در نقطه تعادل است  $x = 0$  می‌باشد و هنگامی که در ابتدا و انتهای پاره خط نوسان قرار می‌گیرد، بیشترین فاصله را تا مبدأ مختصات دارد. به نقاط ابتدا و انتهای پاره خط نوسان در اصطلاح نقاط بازگشت می‌گویند.

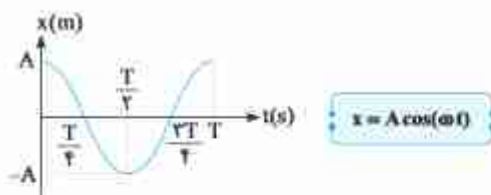
**سرعت:** در نقاط بازگشت، متحرک یک لحظه توقف می‌کند و تغییر جهت می‌دهد، بنابراین در این نقاط  $v = 0$  است و در هنگام عبور از نقطه تعادل اندازه سرعت متحرک بیشینه است.

**شتاب و نیرو:** در نقاط بازگشت، چون جسم بیشترین فاصله را از نقطه تعادل دارد، فتر بیشترین فتردگی یا بیشترین کشیدگی را دارد، نیروی وارد شده به جسم و در نتیجه شتاب حرکت جسم بیشینه است. اما در نقطه تعادل نیروی وارد شده به جسم و در نتیجه شتاب حرکت آن صفر است. در شکل زیر اندازه کمیت‌های مختلف در نقاط خاص مشخص شده‌اند.



**مثبت (۳): معادله و نمودار مکان - زمان در حرکت هماهنگ ساده**

همان‌طور که گفتیم در حرکت هماهنگ ساده نمودار مکان - زمان نموداری سینوسی است، یعنی مکان را می‌توان به صورت تابعی سینوسی یا کسینوسی از زمان نوشت که در کتاب درسی فیزیک سال دوازدهم تابع کسینوسی انتخاب شده است و داریم:



$x$  ← مکان نوسانگر بر حسب متر (m)

$A$  ← دامنه حرکت نوسانگر بر حسب متر (m)

$\omega$  ← بسامد زاویه‌ای بر حسب رادیان بر ثانیه (rad/s)

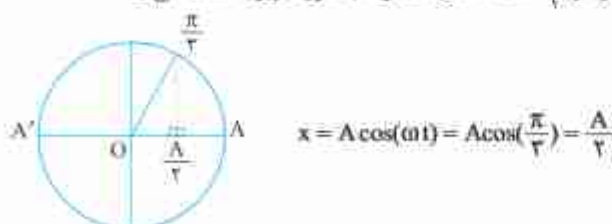
$t$  ← زمان بر حسب ثانیه (s)

$\omega = \frac{\Delta\theta}{\Delta t} = \frac{2\pi}{T} = 2\pi f$

**نکته** در رابطه بالا بسامد زاویه‌ای ( $\omega$ ) برابر تغییرات فاز حرکت در واحد زمان است که به صورت روبه‌رو به دست می‌آید.

**آشنایی با مکان‌ها و فازهای معروف کنکور**

هنگامی که جسم روی پاره خط نوسان در مکان  $x$  قرار دارد، تصویر آن روی دایره مرجع در فاز  $\theta$  قرار می‌گیرد. دقت کنید که در معادله مکان - زمان شناسه تابع کسینوسی (یعنی  $\omega t$ ) همان فاز حرکت است. به‌طور مثال هنگامی که تصویر متحرک در فاز  $\frac{\pi}{3}$  است، مکان متحرک به صورت زیر به دست می‌آید.



**۲۸** در مدت زمانی که در سطح زمین یک شبانه روز می‌گذرد، یک ساعت آونگ‌دار در ارتفاع  $3R_e$  از سطح زمین چند ساعت جلو می‌رود؟ (شعاع کره زمین را  $R_e$  در نظر بگیرید)

- ۶ (۴)       ۱۲ (۳)       ۲۴ (۲)       ۴۸ (۱)

**حل:** با استفاده از رابطه شتاب گرانش زمین و دوره حرکت نوسانی آونگ ابتدا رابطه مقایسه دوره آونگ ساعت را بر حسب فاصله و طول آونگ به دست می‌آوریم:

$$T = 2\pi\sqrt{\frac{L}{g}} \Rightarrow \frac{T_2}{T_1} = \sqrt{\frac{L_2 \times (\frac{g_1}{g_2})^2}{L_1}} \Rightarrow \frac{T_2}{T_1} = \frac{r_2}{r_1} \times \sqrt{\frac{L_2}{L_1}} \xrightarrow{L_2=L_1, r_1=R_e, r_2=3R_e, R_e=2R_e} \frac{T_2}{T_1} = \frac{3R_e}{R_e} \times \sqrt{1} \Rightarrow \frac{T_2}{T_1} = 3$$

طبق رابطه  $T = \frac{1}{n}$  در مدت زمان یکسان دوره با  $n$  رابطه عکس دارد. بنابراین داریم:

$$\frac{n_2}{n_1} = \frac{T_1}{T_2} = \frac{1}{3}$$

بنابراین تعداد نوسان‌های ساعت آونگ‌دار در ارتفاع  $3R_e$  از سطح زمین  $\frac{1}{3}$  تعداد نوسان‌های آن در سطح زمین خواهد بود و در نتیجه گذر زمان را  $\frac{1}{3}$  گذر زمان واقعی نشان می‌دهد و در مدت  $24h$ ، ساعت مورد نظر گذشت  $6h$  را نشان خواهد داد.

**۲۹** آونگ ساده‌ای از گلوله‌ای آهنی که به انتهای نخ سیکی بسته شده است، تشکیل یافته و دوره آن ۲ ثانیه می‌باشد. طول آونگ را به  $\frac{1}{4}$  طول اولیه‌اش می‌رسانیم و به وسیله یک آهن‌ریا نیروی قائمی به طرف پایین و مساوی ۳ برابر وزن گلوله بر آن وارد می‌سازیم. در این حالت دوره آونگ برابر با \_\_\_\_\_ ثانیه است؟

- ۱ (۱)        $\frac{1}{4}$  (۲)        $\frac{\sqrt{7}}{4}$  (۳)       ۲ (۴)

**حل:** دوره آونگ ساده و عادی از رابطه  $T = 2\pi\sqrt{\frac{L}{g}}$  به دست می‌آید و هنگامی که نیروی  $F$  به صورت قائم و رو به پایین وارد می‌گردد، معادله آن

$$\frac{T_2}{T_1} = \sqrt{\frac{L_2}{L_1} \times \frac{g}{g+F/m}} \Rightarrow \frac{T_2}{T_1} = \sqrt{\frac{1}{4} \times \frac{g}{g+3g}} \Rightarrow \frac{T_2}{T_1} = \frac{1}{2} \Rightarrow T_2 = \frac{1}{2} \times 2 = 1s$$

**۳۰** نوسانگر وزنه - فنری در مدت یک دقیقه پاره‌خطی به طول  $120cm$  را  $20$  بار طی می‌کند. اگر جرم وزنه متصل به آن  $20g$  باشد، معادله نیرو بر حسب مکان در SI کدام است؟

- $F = \frac{\pi^2}{4} x$  (۱)        $F = \frac{\pi^2}{40} x$  (۲)        $F = \frac{\pi^2}{90} x$  (۳)        $F = \frac{\pi^2}{4} x$  (۴)

**حل:** هنگامی که نوسانگر  $20$  بار پاره‌خط مسیر را طی می‌کند،  $10$  نوسان کامل انجام داده است.

ابتدا دوره حرکت دستگاه را محاسبه می‌کنیم:

حال که دوره حرکت را محاسبه کردیم، سرعت زاویه‌ای را به دست می‌آوریم:

معادله نیرو بر حسب مکان به شکل زیر محاسبه می‌شود:

$$F = -m\omega^2 x \Rightarrow F = -0.2 \times \frac{\pi^2}{4} x \Rightarrow F = -\frac{\pi^2}{40} x$$

**۳۱** معادله نیروی وارد بر آونگی به طول  $40cm$  در SI به صورت  $F = -100x$  است. جرم آونگ چند کیلوگرم است؟ ( $g = 10 \frac{m}{s^2}$ )

- ۰.۴ (۱)       ۴ (۲)       ۴۰ (۳)       ۰.۴ (۴)

$$\omega = \sqrt{\frac{g}{l}} = \sqrt{\frac{10}{0.4}} = 5 \frac{rad}{s}$$

با مقایسه معادله داده شده با معادله نیرو - مکان می‌توان جرم را تعیین کرد.

$$F = -100x \Rightarrow m\omega^2 = 100 \Rightarrow m(25) = 100 \Rightarrow m = 4kg$$

**۳۲** معادله نیرو - مکان نوسانگر ساده‌ای در SI به صورت  $F = -\pi^2 y$  است. اگر جرم نوسانگر  $10g$  باشد، این نوسانگر در هر دقیقه چند نوسان کامل انجام می‌دهد؟ ( $\pi^2 = 10$ )

- ۱۵۰ (۱)       ۳۰۰ (۲)       ۲۵۰ (۳)       ۲۰۰ (۴)

**حل:** بر اساس رابطه  $F = -m\omega^2 y$  سرعت زاویه‌ای را محاسبه می‌کنیم:

$$F = -m\omega^2 y \Rightarrow -\pi^2 y = -m\omega^2 y \Rightarrow \omega = 10 \frac{rad}{s}$$

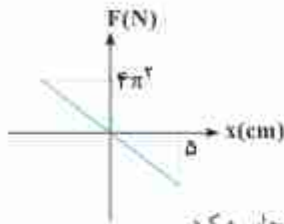
$$\omega = 2\pi f \Rightarrow 10\pi = 2\pi \times f \Rightarrow f = 5Hz$$

حال که بسامد نوسانگر را محاسبه کردیم با استفاده از رابطه  $f = \frac{n}{t}$  تعداد نوسانات را به دست می‌آوریم:

$$f = \frac{n}{t} \Rightarrow 5 = \frac{n}{60} \Rightarrow n = 300$$

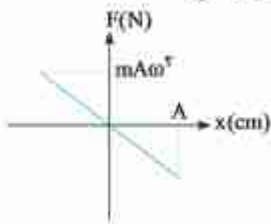


۳۳ نمودار نیرو بر حسب بعد نوسانگری به جرم  $\Delta g$  مطابق شکل مقابل است. معادله مکان - زمان این نوسانگر در SI کدام گزینه است؟



$x = \Delta \cos \omega t$  (۱)  $x = \Delta \cos \sqrt{2} \pi t$  (۲)  
 $x = \Delta \cos \omega t$  (۳)  $x = \Delta \cos \pi t$  (۴)

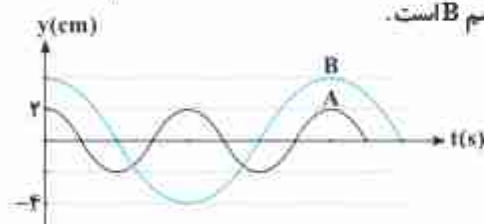
حل: نمودار  $F-x$  نوسانگر ساده مطابق روبرو است. پس می توان از روی نمودار اطلاعات لازم برای حل مسئله را محاسبه کرد.



$A = \Delta \Delta m$   
 $m \Delta \omega^2 = 4\pi^2 \Rightarrow \Delta \Delta \times \Delta \times \omega^2 = 4\pi^2$   
 $\omega^2 = \frac{4\pi^2}{(\Delta \Delta)^2} \Rightarrow \omega = \frac{2\pi}{\Delta \Delta} = 2\pi \frac{\text{rad}}{\text{s}}$   
 $x = A \cos \omega t \Rightarrow x = \Delta \cos 4\pi t$

معادله مکان - زمان خواسته شده است.

۳۴ شکل زیر مربوط به نمودار مکان - زمان دو نوسان کننده A و B است و جرم A، ۲ برابر جرم جسم B است. بیشینه نیروی وارد بر جسم A چند برابر بیشینه نیروی وارد بر جسم B است؟



۲ (۱)  $\frac{1}{2}$  (۲)  
 ۴ (۳)  $\frac{1}{4}$  (۴)

حل: با توجه به نمودار در مدتی که نوسانگر A، ۲ نوسان کامل انجام می دهد نوسانگر B یک نوسان انجام می دهد.

$T_B = 2T_A \Rightarrow \frac{\omega_A}{\omega_B} = 2$

$\frac{F_{\max A}}{F_{\max B}} = \frac{m_A}{m_B} \times \frac{A_A}{A_B} \times (\frac{\omega_A}{\omega_B})^2 \Rightarrow \frac{F_{\max A}}{F_{\max B}} = \frac{2}{1} \times \frac{1}{2} \times 4 = 4$

۳۵ معادله مکان - زمان نوسانگر وزنه - فنری به صورت  $x = 4 \times 10^{-2} \cos(1/5 \pi t)$  است. اگر ثابت فنر  $5 \times 10^3 \frac{\text{N}}{\text{m}}$  و جرم وزنه متصل به آن  $1 \text{ kg}$  باشد، اندازه شتاب حرکت متحرک در لحظه  $t = \frac{2}{9} \text{ s}$  چند متر بر مجذور ثانیه است؟

۱ (۱)  $2$  (۲)  $3$  (۳)  $6$  (۴)

حل: با برابر قرار دادن دو معادله  $F = -kx$  و  $F = ma$  معادله شتاب نوسانگر را محاسبه می کنیم:

$F = -kx = ma \Rightarrow a = -\frac{kx}{m} \Rightarrow a = -\frac{5 \times 10^3 \times 4 \times 10^{-2} \cos(1/5 \pi t)}{1} \Rightarrow a = -5 \times 4 \times 10^{-2} \cos(1/5 \pi t) \Rightarrow a = -2 \cos(1/5 \pi t)$

$t = \frac{2}{9} \text{ s}$   
 $\Rightarrow a = -2 \cos(1/5 \times \frac{2}{9} \pi) \Rightarrow a = -1 \frac{\text{m}}{\text{s}^2} \Rightarrow |a| = 1 \frac{\text{m}}{\text{s}^2}$

۳۶ وزنه ای به جرم  $g = 10$  به فنری آویزان و در حال تعادل است. اگر وزنه در راستای قائم  $1 \text{ cm}$  از وضع تعادل خارج و رها سازیم، با دوره  $0.2\pi$  ثانیه به نوسان درمی آید. اندازه شتاب نوسانگر در لحظه ای که از فاصله  $0.5 \text{ cm}$  وضع تعادل عبور می کند، چند متر بر مجذور ثانیه خواهد بود؟

۰.۵ (۱)  $2$  (۲)  $1/5$  (۳)  $2$  (۴)

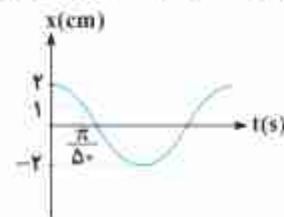
حل: هنگامی که نوسانگر در فاصله  $0.5$  سانتی متری از وضع تعادل قرار دارد، مکان آن نصف مکان بیشینه (دامنه) است.

$T = 2\pi \sqrt{\frac{m}{k}} \Rightarrow 0.2\pi = 2\pi \sqrt{\frac{10}{k}} \Rightarrow 0.1 = \sqrt{\frac{10}{k}} \Rightarrow 0.1 = \frac{\sqrt{10}}{\sqrt{k}} \Rightarrow k = \frac{10}{0.1} = 100 \frac{\text{N}}{\text{m}}$

حال با برابر قرار دادن  $F = ma$  و  $F = kx$  می توان مقدار شتاب حرکت را به دست آورد:

$F = -kx \Rightarrow -kx = ma \Rightarrow a = -\frac{10}{10} \times \frac{0.5}{100} \Rightarrow a = -0.5 \frac{\text{m}}{\text{s}^2} \Rightarrow |a| = 0.5 \frac{\text{m}}{\text{s}^2}$

۳۷ شکل مقابل نمودار مکان - زمان حرکت هماهنگ ساده ای را نشان می دهد. اگر ثابت فنر  $100 \frac{\text{N}}{\text{m}}$  باشد، اندازه بیشینه شتاب نوسانگر چند متر بر مجذور ثانیه است؟



$\frac{9}{50}$  (۱)  $\frac{50}{9}$  (۲)  
 $\frac{9}{100}$  (۳)  $\frac{100}{9}$  (۴)



**حل** ابتدا با استفاده از معادله مکان - زمان حرکت نوسانی، سرعت زاویه‌ای را محاسبه می‌کنیم:

$$x = A \cos \omega t \Rightarrow 1 \times 10^{-2} = 2 \times 10^{-2} \cos\left(\frac{\pi}{\Delta t} \omega\right) \Rightarrow \cos\left(\frac{\pi}{\Delta t} \omega\right) = \frac{1}{2} \Rightarrow \frac{\pi}{\Delta t} \omega = \frac{\pi}{3} \Rightarrow \omega = \frac{\Delta t}{3} \frac{\text{rad}}{\text{s}}$$

می‌دانیم حداکثر شتاب از رابطه  $a_{\text{max}} = A\omega^2$  به دست می‌آید:

$$|a_{\text{max}}| = A\omega^2 = 2 \times 10^{-2} \times \left(\frac{\Delta t}{3}\right)^2 = \frac{\Delta t}{9} \frac{\text{m}}{\text{s}^2}$$

**۳۸** از یک جسم و یک فنریک نوسانگر ساده ساخته ایم. در مدتی که جسم به طرف مرکز نوسان (جایی که فنر طول عادی خود را دارد) نزدیک می‌شود.

(تقریباً در نظر بگیرید)

- انرژی مکانیکی و انرژی پتانسیل آن به ترتیب چگونه تغییر می‌کنند؟  
 (۱) افزایش - ثابت     (۲) ثابت - افزایش     (۳) ثابت - کاهش     (۴) کاهش - ثابت

**حل** انرژی مکانیکی همواره ثابت است. وقتی نوسانگر به مرکز نوسان نزدیک می‌شود، سرعت و انرژی جنبشی آن افزایش یافته و در نتیجه انرژی پتانسیل آن در حال کاهش است.

**۳۹** نوسانگری به انتهای فنر سیکی با ثابت  $10 = \frac{N}{m}$  بسته شده و با دامنه  $4 \text{ cm}$  حرکت هماهنگ ساده انجام می‌دهد. انرژی جنبشی آن در لحظه‌ای که از مبدأ نوسان می‌گذرد چند ژول است؟

- (۱) ۰.۰۶     (۲) ۰.۰۸     (۳) ۰.۱۲     (۴) ۰.۱۶

**حل** انرژی جنبشی در مبدأ حرکت بیشینه و با انرژی مکانیکی برابر است، بنابراین می‌توان نوشت:

$$K_{\text{مبدأ}} = E = \frac{1}{2} k A^2 \Rightarrow E = \frac{1}{2} \times 10 \times \left(\frac{4}{100}\right)^2 \Rightarrow K_{\text{مبدأ}} = 0.08 \text{ J}$$

**۴۰** اگر بیشینه جابه‌جایی یک نوسانگر به جرم  $50 \text{ g}$  در نیم دوره برابر  $5 \text{ cm}$  و انرژی مکانیکی آن  $2/5 \times 10^{-2} \text{ J}$  ژول باشد، معادله مکان - زمان متحرک در SI کدام است؟

- (۱)  $x = 0.025 \cos 20\pi t$      (۲)  $x = 0.05 \cos 20\pi t$      (۳)  $x = 0.025 \cos 40\pi t$      (۴)  $x = 0.05 \cos 40\pi t$

**حل** بیشترین جابه‌جایی در نصف دوره تناوب، زمانی اتفاق می‌افتد که نوسانگر یک بار پاره خط مسیر را طی کند. در نتیجه بیشترین جابه‌جایی دو برابر دامنه است.

$$2A = 5 \text{ cm} \Rightarrow A = 2.5 \text{ cm}$$

$$E = \frac{1}{2} m \omega^2 A^2 \Rightarrow 2/5 \times 10^{-2} \text{ J} = \frac{1}{2} \times 50 \times 10^{-3} \times \left(\frac{2.5}{100}\right)^2 \times \omega^2$$

$$\Rightarrow \omega^2 = \frac{2/5 \times 10^{-2} \times 2 \times 10^4}{50 \times 10^{-3} \times 2.5^2} = \frac{4\pi^2 \times 10^2}{2.5} \Rightarrow \omega = 40\pi \frac{\text{rad}}{\text{s}}$$

$$x = A \cos \omega t \Rightarrow x = 0.025 \cos 40\pi t$$

**۴۱** انرژی جنبشی و پتانسیل نوسانگری ساده در یک لحظه معین به ترتیب  $0.12 \text{ J}$  و  $0.06 \text{ J}$  است. اگر جرم نوسانگر  $1 \text{ g}$  و دامنه حرکت  $4 \text{ cm}$  باشد. دوره حرکت چند ثانیه است؟

- (۱)  $30\pi$      (۲)  $\frac{4\pi}{3}$      (۳)  $\frac{\pi}{75}$      (۴)  $\frac{4\pi}{3\sqrt{10}}$

$$E = K + U \Rightarrow E = 0.12 + 0.06 = 0.18 \text{ J}$$

$$E = \frac{1}{2} m A^2 \omega^2 \Rightarrow 0.18 = \frac{1}{2} \times 10^{-2} \times 16 \times 10^{-4} \times \omega^2 \Rightarrow \omega = 150 \frac{\text{rad}}{\text{s}}$$

$$\omega = \frac{2\pi}{T} \Rightarrow 150 = \frac{2\pi}{T} \Rightarrow T = \frac{\pi}{75} \text{ s}$$

با توجه به بسامد زاویه‌ای می‌توان دوره تناوب را محاسبه کرد.

**۴۲** اگر  $E$  و  $m$  به ترتیب انرژی مکانیکی و جرم یک نوسانگر ساده باشند، سرعت نوسانگر در لحظه عبور از نقطه تعادل برابر کدام است؟ (تقریباً در نظر بگیرید)

- (۱)  $\left(\frac{2E}{m}\right)^{\frac{1}{2}}$      (۲)  $\frac{E}{2m^2}$      (۳)  $\frac{2E}{m^2}$      (۴)  $\left(\frac{E}{m}\right)^{\frac{1}{2}}$

**حل** انرژی مکانیکی یا بیشینه انرژی جنبشی و بیشینه انرژی پتانسیل برابر است. در مرکز نوسان انرژی جنبشی بیشینه است.

$$K_{\text{max}} = E = \frac{1}{2} m v_{\text{max}}^2 \Rightarrow v_{\text{max}}^2 = \frac{2E}{m} \Rightarrow v_{\text{max}} = \left(\frac{2E}{m}\right)^{\frac{1}{2}}$$

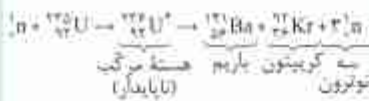
**۴۳** بیشترین سرعت یک نوسانگر ساده  $5 \frac{\text{m}}{\text{s}}$  است. در لحظه‌ای که انرژی پتانسیل نوسانگر ۳ برابر انرژی جنبشی آن است، سرعت نوسانگر چند متر بر ثانیه است؟ (تقریباً در نظر بگیرید)

- (۱)  $1/25$      (۲)  $2/5$      (۳)  $7/5$      (۴)  $10$



## جمع بندی فصل ششم در یک نگاه

تقسیم شدن یک هسته سنگین به دو هسته با جرم کمتر



ترکیب دو هسته سبک و ایجاد هسته سنگین



$$E = mc^2$$

شرط پایداری هسته انرژی بکنی هست

شکافت هسته‌ای

انرژی هسته‌ای


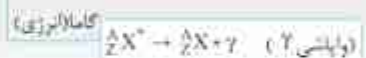
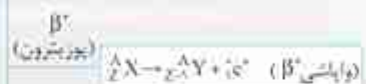

هم‌جوشی هسته‌ای

بزرگی هسته‌ای


انرژی هسته‌ای

بسیار

نیروی قوی هسته‌ای بین نوکلئون‌ها با نیروی گولنی بین پروتون‌ها موازنه باشد.



$$m = \frac{m_0}{\gamma^n} \quad N = \frac{N_0}{\gamma^n} \quad n = \frac{t}{T}$$



**نکات ۱** نیروی هسته‌ای، کوتاه‌برد است و تنها در فاصله‌های کوچک‌تر از ابعاد هسته اثر می‌کند. همان‌طور که در شکل مقابل می‌بینید هر نوکلئون فقط به نوکلئون مجاور خود نیروی هسته‌ای وارد می‌کند. دقت کنید که نیروی هسته‌ای مستقل از بار الکتریکی است، یعنی نیروی رپایشی هسته‌ای یکسانی بین دو پروتون، دو نوترون و یک پروتون و یک نوترون وجود دارد.

**۲** نیروی دافعه الکتروستاتیکی بلندبرد است. به همین دلیل یک پروتون تمام پروتون‌های دیگر درون هسته را دفع می‌کند.

**۳** هنگامی که تعداد پروتون‌های داخل هسته افزایش می‌یابد، تمام پروتون‌های هسته به یکدیگر نیروی دافعه الکتروستاتیکی وارد می‌کنند اما فقط نوکلئون‌های مجاور به یکدیگر نیروی جاذبه هسته‌ای وارد خواهند کرد و افزایش نیروی دافعه بیشتر از افزایش نیروی جاذبه می‌شود. حال اگر هسته بخواهد پایدار باقی بماند، باید تعداد نوترون‌های درون هسته نیز افزایش یابد. در شکل مقابل نمودار عدد اتمی بر حسب عدد نوترونی برای عنصرهای مختلف نشان داده شده است.

در این شکل نقاط خاکستری متعلق به هسته‌های پایدار و نقاط آبی متعلق به هسته‌های پرتوزا هستند.

**۴** در این نمودار هسته پایدار با بیشترین تعداد پروتون ( $Z=82$ ) متعلق به بیسموت ( ${}_{82}^{208}\text{Bi}$ ) است.

**۵** هسته‌هایی که عدد اتمی آن‌ها بیشتر از ۸۲ است، ناپایدار هستند و معمولاً در طبیعت یافت نمی‌شوند. از بین این هسته‌ها فقط توریم ( $Z=90$ ) و اورانیوم ( $Z=92$ ) در طبیعت یافت می‌شوند. این دو عنصر، تنها عنصرهایی هستند که واپاشی آن‌ها چنان کند است که از هنگام تشکیل منظومه شمسی تاکنون مقدار کمی از آن‌ها دچار واپاشی شده است.

**۱** برای  ${}_{79}^{197}\text{Au}$  به ترتیب از راست به چپ تعداد نوکلئون، پروتون و نوترون کدام است؟

- گزینه ۱   $39 - 79 - 118$  (۱)  
 گزینه ۲   $79 - 79 - 118$  (۲)  
 گزینه ۳   $118 - 79 - 197$  (۳)  
 گزینه ۴   $79 - 118 - 197$  (۴)

**حل** در نماد نوکلئید اتم طلا عدد ۱۹۷ عدد جرمی و برابر با تعداد نوکلئون هاست، و عدد ۷۹ عدد اتمی و برابر با تعداد پروتون (الکترون) هاست. پس داریم:

$$197 = N + Z \xrightarrow{Z=79} N = 118$$

پس  ${}_{79}^{197}\text{Au}$ ، ۱۹۷ نوکلئون، ۷۹ پروتون و ۱۱۸ نوترون دارد.

**۲** در هسته یک اتم، نیروی هسته‌ای قوی:

- گزینه ۱  (۱) نیروی جاذبه‌ای است که هر پروتون به تمام پروتون‌ها وارد می‌کند.  
 گزینه ۲  (۲) نیروی دافعه‌ای است که هر پروتون به تمام پروتون‌ها وارد می‌کند.  
 گزینه ۳  (۳) نیروی دافعه‌ای است که هر نوکلئون فقط به نوکلئون‌های مجاور خود وارد می‌کند.  
 گزینه ۴  (۴) نیروی جاذبه‌ای است که هر نوکلئون فقط به نوکلئون‌های مجاور خود وارد می‌کند.  
**حل** نیروی هسته‌ای قوی به شکل جاذبه است و هر نوکلئون تنها به نوکلئون‌های اطراف خود این نیرو را وارد می‌کند.

**۳** در واکنش نوکلئون‌ها، نیروی هسته‌ای در مقایسه با نیروی کولنی چگونه است؟

- گزینه ۱  (۱) ضعیف، بلندبرد  
 گزینه ۲  (۲) قوی، بلندبرد  
 گزینه ۳  (۳) ضعیف، کوتاه‌برد  
 گزینه ۴  (۴) قوی، کوتاه‌برد

**حل** نیروی هسته‌ای در مقایسه با نیروی کولنی قوی و کوتاه‌برد است.





گزینه ۲

۴ در ارتباط با پایداری هسته چه تعداد از عبارت‌های زیر صحیح است؟

- الف) بیشتر جرم اتم مربوط به فضای اطراف هسته آن است و هسته اتم بسیار کوچک و با جرم ناچیز است.
- ب) عامل پایداری نوکلئون‌های هسته اتم در کنار یکدیگر، نیروی جاذبه الکتروستاتیکی قوی‌تر آن‌ها نسبت به نیروی دافعه الکتروستاتیکی است.
- ج) نیروی هسته‌ای کوتاه‌برد است و اگر فاصله دو نوکلئون از حد معینی بیشتر شود این نیرو تقریباً از بین خواهد رفت.
- د) نیروی هسته‌ای قوی مستقل از بار الکتریکی نوکلئون‌هاست.

- ۱) (۱)
- ۲) (۲)
- ۳) (۳)
- ۴) (۴)

**حل** بررسی عبارت‌ها:

**عبارت «الف» نادرست:** ابعاد هسته در مقایسه با ابعاد اتم بسیار کوچک است ولی بیشتر جرم اتم در هسته متمرکز شده است.  
**عبارت «ب» نادرست:** عامل پایداری نوکلئون‌های هسته در کنار هم، نیروی هسته‌ای قوی است. به‌طور کلی بین نوکلئون‌های هسته جاذبه الکتروستاتیکی وجود ندارد.

**عبارت «ج» درست:** نیروی هسته‌ای کوتاه‌برد است و در فاصله‌های کوچک‌تر از ابعاد هسته اثر می‌کند و اگر فاصله از این حد بیشتر شود این نیرو تقریباً از بین خواهد رفت.

**عبارت «د» درست:** نیروی هسته‌ای قوی مستقل از بار نوکلئون‌هاست یعنی نیروی زیباشی یکسانی بین دو پروتون، دو نوترون و یا یک پروتون و یک نوترون وجود دارد.

۵ با توجه به شکل زیر کدام گزینه نادرست است؟

گزینه ۲

- ۱) این شکل قسمتی از هسته و نوکلئون‌های درون آن را نشان می‌دهد. فلش‌ها نشان‌دهنده نیروی هسته‌ای قوی هستند که هر نوکلئون به نوکلئون‌های اطرافش وارد می‌کند.
- ۲) فلش‌ها نشان‌دهنده نیروی هسته‌ای قوی هستند که یک نیروی کوتاه‌برد میان نوکلئون‌های هسته است.
- ۳) نیروی هسته‌ای نشان داده شده میان دو پروتون یا دو نوترون خواهد بود. اگر نوکلئون‌ها غیر هم‌جنس باشند نیروی هسته‌ای بین آن‌ها ایجاد نخواهد شد.
- ۴) نیروی نشان داده شده در شکل، برد کوتاه‌تری از نیروی الکتروستاتیکی بین دو پروتون دارد.



**حل** نیروی هسته‌ای مستقل از بار و نوع نوکلئون‌هاست، بنابراین بین دو پروتون، دو نوترون و یا یک پروتون و یک نوترون به‌وجود می‌آید.

ریاضی دوازدهم (۲۴)

۶ کدام یک از موارد زیر دربارهٔ هسته اتم‌های عناصر درست است؟

گزینه ۱

- ۱) اغلب ایزوتوپ‌های عناصر ناپایدارند و با گذشت زمان واپاشیده می‌شوند.
- ۲) برد نیروهای گولنی در مقایسه با برده نیروهای هسته‌ای بسیار کوتاه است.
- ۳) جرم یک هسته برابر مجموع جرم نوکلئون‌های تشکیل‌دهنده آن هسته است.
- ۴) نسبت تعداد نوترون‌ها به پروتون‌ها برای هسته‌های پایدار مختلف یکسان است.

**حل** بررسی گزینه‌ها:

**گزینه «۱»:** اغلب ایزوتوپ‌های عناصر ناپایدارند و با گذشت زمان واپاشیده می‌شوند.

**گزینه «۲»:** برد نیروی گولنی در مقایسه با نیروی هسته‌ای بلند است.

**گزینه «۳»:** جرم یک هسته از مجموع جرم نوکلئون‌ها کمتر است.

**گزینه «۴»:** نسبت  $\frac{N}{Z}$  در هسته‌های پایدار مختلف مقادیر متفاوتی دارد.

۷ در هسته اتم عناصر طبیعی، تعداد پروتون‌های هسته را با  $Z$  و تعداد نوترون‌ها را با  $N$  نشان می‌دهیم. اگر از سبک‌ترین اتم‌ها به سمت سنگین‌ترین

ریاضی دوازدهم (۸۸)

گزینه ۲

آن‌ها برویم، نسبت  $\frac{N}{Z}$  چگونه تغییر می‌کند؟

- ۱) ثابت می‌ماند.
- ۲) افزایش می‌یابد.
- ۳) کاهش می‌یابد.
- ۴) یا نظم معینی کم و زیاد می‌شود.

**حل** با افزایش عدد اتمی در جدول تناوبی برای هسته‌های پایدار در جدول نسبت  $\frac{N}{Z}$  در حال افزایش است.