

### خطاب به دبیران و دانش‌آموزان

انتشارات مشاوران آموزش ناشر تخصصی کتب علوم انسانی و عمومی با هدف ارتقاء سطح علم و دانش و بهبود کیفیت ارائه مطالب مرتبط با این رشته در نظر دارد از نظرات و پیشنهادات دانش‌آموزان و دانش‌پژوهان عزیز از سراسر کشور استفاده نموده و با همکاری آنان از همین حالا زمینه ارتقاء و رشد هرچه بیشتر سطح دانش آینده‌سازان کشور در رشته علوم انسانی را فراهم نماید. بدیهی است که ما در آغاز یک مسیر طولانی هستیم و با هدف‌گذاری و استفاده از ایده‌های خلاقانه دانش‌آموزان می‌توانیم رسیدن به مقصد را تسریع بخشیم. ارزشمندترین ثمره‌ای که از تلاش‌های بی‌وقفه همکاران ما طی دو دهه اخیر حاصل شده است، رضایت‌مندی فزاینده دانش‌آموزانی است که با انگیزه‌دهی و اعتماد به ما از طریق استقبال از آثار و تألیفات ما و دستیابی به موفقیت‌های چشم‌گیرتان بدست آمده است.

انتشارات مشاوران آموزش، با هدف آموزش و ارائه روش‌های کاربردی در یادگیری، اقدام به چاپ تجربیات مؤلفان خود کرده است. در تمامی آثار این مؤسسه، صرفاً درسی و آرائه تست مد نظر نبوده، بلکه «یادگیری» دانش‌آموزان از اهداف این انتشارات است. به این منظور در جای جای آثار این مؤسسه، روش یادگیری و حل ابهامات ذهنی، به چشم می‌خورد. امید است مقبول نظر شما عزیزان قرار گیرد.


### ویژگی کتاب جامع جغرافیا (۱۰ و ۱۱):

- ۱- درسی جامع و کامل دارد و به تمام مباحث مهمی که در کتاب درسی وجود دارد به طور کامل اشاره شده است.
- ۲- برای درس جغرافیا تصاویر مهم است و احتمال اینکه در کنکور از این تصاویر سوال طرح شود، زیاد است بنابراین در این کتاب این تصاویر آورده شده است. هدف دیگر از آوردن تصاویر در کتاب این است که شما دوستان عزیز به جای حفظ کردن، مطالب را درک کنید و بهتر بفهمید.
- ۳- از آنجایی که کتاب‌های درسی تغییر پیدا کرده و شما دانش‌آموزان هیچ گونه اطلاعی از بودجه‌بندی کتاب‌ها برای کنکور ندارید و همچنین نمونه تست کنکوری هم در این زمینه نیست و از همه مهمتر از نکات مهم کتاب درسی اطلاعی ندارید، این کتاب به این چالش‌ها پاسخ می‌دهد.
- ۴- پیش‌بینی می‌شود که تست‌های اولین کنکور نظام جدید به صورت مفهومی آورده شود. بنابراین تلاش شده است که در این کتاب با استفاده از ۹۶۸ تست شامل تست‌های مفهومی، چند پاره و گاه تطبیقی شما را برای این آزمون مهم و سرنوشت‌ساز آماده نماییم.
- ۵- در این کتاب جداول مقایسه‌ای برای درک بهتر مطالب آورده شده است.
- ۶- تصاویر و نقشه‌ها به تست تبدیل شده که نگرانی دانش‌آموزان در مورد نحوه مطالعه تصاویر و نقشه‌ها را برطرف می‌کند.
- ۷- همه تست‌های موجود در کتاب پاسخنامه تشریحی کامل دارد که باعث می‌شود تسلط شما بر تست‌ها و مطالب کتاب بیشتر باشد.
- ۸- در آخر کتاب جدولی با عنوان «**جدول اعداد انسانی**» وجود دارد که جایگاه حدودی خودتان را در کنکور معلوم می‌کند.

جامع  
کنکور

نظام جدید  
**جغرافیا**  
پایه (۱۰ و ۱۱)

ارغوان محرمی - سمیرا پورعبدالهی



درسنامه جامع و کامل

درسنامه تصویری

۸۶۹ پرسش‌های چهارگزینه‌ای

جدول مقایسه‌ای


چینش هدف‌دار تست‌ها

تبدیل تصویرها و نقشه‌ها به تست

پاسخ‌های تشریحی

جدول اعداد انسانی:

چه درصدی بزخم؟ چه رتبه‌ای می‌آورم؟



ناشر تخصصی درس عمومی و علوم انسانی

انسانی‌ها! تا آخر همراه شما هستیم

ختم ورق بزنید و پشت همین صفحه را بخوانید.

## تست‌های کنکور در نظام جدید چگونه طراحی خواهند شد؟

۱. کتاب‌های درسی نظام جدید به سمت مفهومی شدن پیش رفته است. در واقع آموزش و پرورش قصد دارد که دانش‌آموزان علوم انسانی به جای تکیه بر حافظه، تکیه بر مفاهیم و کاربرد آن داشته باشند.
۲. طراحان کنکور همین نگاه را در تست‌ها پیاده کرده‌اند و برای نظام جدید بی‌شک مفهومی‌تر و کاربردی‌تر نیز خواهد شد.
۳. به همین دلیل تمام سعی خود را کرده‌ایم که کتاب‌های مشاوران را در اتاق‌های علمی هر درس، به شیوه‌ای تألیف کنیم و طراحی تست داشته باشیم که این اهداف را دنبال کند.

## ویژگی‌های کتاب‌های درسی علوم انسانی

۱. یادتان باشد که «هیچ درسی حفظی نیست» و عمده‌ی درس‌های علوم انسانی را باید دروس متنی نامید که روش مطالعه‌ی خاص خود را طلب می‌کند.
۲. دروس متنی را با «خواندن و تکرار کردن مدام» نمی‌توان فهمید و به همین دلیل در سر جلسه کنکور با مشکل فراموشی روبه‌رو می‌شوید.
۳. به شیوه‌ی ارائه‌ی درسنامه‌های کتاب‌های مشاوران دقت کنید و سعی کنید با همان روش ارائه شده، درس‌ها را بخوانید چرا که در نوشتن درسنامه‌ها تمام سعی خود را کرده‌ایم که با روش مفهومی مطالب را یاد بگیرید.

## ویژگی کتاب‌های دروس عمومی مشاوران آموزش

۱. هر چهار کتاب دروس عمومی در واقع مربوط به رشته‌ی علوم انسانی است، چرا که «ادبیات، عربی، دین و زندگی و زبان انگلیسی» اساساً از رشته‌های علوم انسانی هستند.
  ۲. سبک یادگیری دروس عمومی بسیار نزدیک به سبک یادگیری دروس علوم انسانی است.
  ۳. به همین دلیل مشاوران آموزش برای دوره‌ی **نظام جدید** چند کار زیر را برای دروس عمومی انجام داده است:
    - الف) ادبیات:** عمدتاً درس ادبیات در کتاب‌های بازار به روش گزارشی نوشته شده است. به طور مثال گفته شده است که فلان موضوع، آرایه بهمان دارد و بدون ذکر دلیل و روش به دست آوردن آن آرایه، شروع به توضیح آن مبحث کرده‌اند و این نوع مولفان، در واقع دانش‌آموزان را دعوت می‌کنند که: «ادبیات را حفظ کنید.» مولفان مشاوران تمام سعی خود را کرده‌اند که ادبیات را طوری بنویسند که دانش‌آموز به جای حفظ کردن، آن مطالب را یاد بگیرد.
    - ب) اگر به زبان عربی به عنوان یک زبان کاربردی در زندگی نگاه کنید، نه تنها از آموزش آن لذت می‌برید بلکه یادگیری قواعد آن نیز برای شما آسان خواهد بود. تیم عربی مشاوران سعی کرده است با در نظر گرفتن اهداف کتاب درسی و ویژگی‌های کنکور این موضوع را لحاظ کند.**
    - پ) اگر فرض کنید درس دین و زندگی همان درس فلسفه شماسست، آن‌گاه بین عبارات گوناگون آن ارتباط منطقی پیدا خواهید کرد و در نتیجه درس دین و زندگی از یک درس حفظی به یک درس مفهومی تبدیل خواهد شد. ما چنین کاری را در کتاب‌های دین و زندگی مشاوران انجام داده‌ایم.**
    - ت) سه تیپ دانش‌آموز در درس زبان انگلیسی داریم: ۱. ضعیف، ۲. مسلط به کتاب درسی ۳. آموزشگاه زبان انگلیسی رفته.**
- آنچه مهم است این است که نوشتن کتاب کمک آموزشی، با در نظر گرفتن هر سه تیپ دانش‌آموز، کار دشواری است. خوشحالییم که توانسته‌ایم این کار را در کتاب مشاوران انجام دهیم.



انتشارات مشاوران آموزش

ناشر تخصصی کتابهای علوم انسانی

# جغرافیا پایه ۱۰ و ۱۱

نظام جدید

درسنامه جامع و کامل

درسنامه تصویری

۸۶۹ پرسش‌های چهارگزینه‌ای

جدول مقایسه‌ای

چینش هدفدار تست‌ها

تبدیل تصویرها و نقشه‌ها به تست

پاسخ‌های تشریحی

جدول اعداد انسانی: چه درصدی بزنم؟ چه رتبه‌ای می‌آورم؟

**مؤلفان:**

ارغوان محرمی

سمیرا پور عبدالهی

# فهرست

## کتاب دهم

### فصل اول: جغرافیا چیست؟

- درس اول: جغرافیا، علمی برای زندگی بهتر ..... ۶
- درس دوم: روش مطالعه در جغرافیا ..... ۱۴

### فصل دوم: جغرافیای طبیعی در ایران

- درس سوم: موقعیت جغرافیایی ایران ..... ۲۲
- درس چهارم: ناهمواری‌های ایران ..... ۲۹
- درس پنجم: آب و هوای ایران ..... ۴۱
- درس ششم: منابع آب ایران ..... ۵۳

### فصل سوم: جغرافیای انسانی ایران

- درس هفتم: ویژگی‌های جمعیت ایران ..... ۶۳
- درس هشتم: تقسیمات کشوری ایران ..... ۷۰
- درس نهم: سکونت‌گاه‌های شهری و روستایی ..... ۷۵
- درس دهم: توان‌های اقتصادی ایران ..... ۸۳

## کتاب یازدهم

### فصل ۱: ناحیه چیست

- درس ۱: معنا و مفهوم ناحیه ..... ۹۳
- درس ۲: انسان و ناحیه ..... ۹۹

### فصل ۲: نواحی طبیعی

- درس ۳: نواحی آب و هوایی ..... ۱۰۸
- درس ۴: ناهمواری‌ها و اشکال زمین ..... ۱۱۹
- درس ۵: نواحی زیستی ..... ۱۳۱

### فصل ۳: نواحی انسانی

- درس ۶: نواحی فرهنگی ..... ۱۴۰
- درس ۷: نواحی اقتصادی (کشاورزی و صنعتی) ..... ۱۴۹
- درس ۸: نواحی اقتصادی (تجارت و اقتصاد جهانی) ..... ۱۵۶

### فصل ۴: نواحی سیاسی

- درس ۹: معنا و مفهوم ناحیه سیاسی ..... ۱۶۵
- درس ۱۰: کشور، یک ناحیه سیاسی ..... ۱۷۰
- درس ۱۱: ژئوپلیتیک ..... ۱۷۷
- پاسخنامه ..... ۱۸۷

۱۲۹. شکل زیر مربوط به ناحیه رشته کوه ایران است؟ به ترتیب کدام جهت درست می‌باشد؟ ..... تالیفی



- ۱ البرز و آذربایجان - شاه‌کوه، شاهرود تنگه منجیل، شمالی - جنوبی، غربی - شرقی
- ۲ البرز و تالش - شاه‌کوه، شاهرود تنگه منجیل، غربی - شرقی، شمالی - جنوبی
- ۳ تالش و شمال خراسان - هراز، علم‌کوه تنگه منجیل، شمالی - جنوبی، شرقی - غربی
- ۴ شمال خراسان و البرز - تنگه منجیل، علم‌کوه، هراز، غربی - شرقی، شمالی جنوبی

۱۳۰. هریک از گزاره‌های زیر مربوط به کدام مناطق کوهستانی است؟ ..... تالیفی

الف: شیب عمومی این کوه‌ها به سمت خزر بیش از منطقه آذربایجان است و آب‌های جاری از آن‌ها با سرعت به دریای خزر، وارد می‌شود.  
ب: از تنگه منجیل شروع شده و در امتداد غربی شرقی تا کوه‌های شاه‌کوه در نزدیکی شاهرود و گردنه خوش ییلاق ادامه دارند.  
ج: قله‌هایی چون علم‌کوه، تخت سلیمان و توچال در این رشته‌کوه توجه علاقه‌مندان به کوه‌نوردی را به خود جلب کرده است.

- ۱ البرز، شمال خراسان، تالش ۲ تالش، البرز، البرز ۳ شمال خراسان، البرز، تالش ۴ تالش، تالش، البرز

۱۳۱. فعالیت‌های آتشفشانی در کدام دوره سبب شکل‌گیری قله دماوند شده و کدام کوه‌ها توجه علاقه‌مندان به کوه‌نوردی را به خود جلب کرده است؟ ..... تالیفی

- ۱ ترشباری - قره‌داغ، تخت‌سلیمان و توچال ۲ کوآترنری - علم‌کوه، تخت‌سلیمان، البرز
- ۳ کوآترنری - علم‌کوه، تخت‌سلیمان، البرز ۴ کوآترنری - علم‌کوه، تخت‌سلیمان و توچال

۱۳۲. چه چیزی منطقه کوهستانی البرز را به صورت ناپایدار در آورده است؟ ..... تالیفی

- ۱ فعالیت‌های آتشفشانی، کوه‌زایی مواد رسوبی طی میلیون‌ها سال، فعالیت‌های کوه‌نوردی
- ۲ احداث سد، فعالیت‌های آتشفشانی، بهره‌برداری فراوان از معادن
- ۳ گسترش فعالیت‌های کشاورزی گوناگون و بهره‌برداری از معادن فراوان کوه‌های البرز، ناهمواری‌های این منطقه، گسترش شهرهای پرونوق اقتصادی مثل تهران، کرج، احداث جاده‌های ارتباطی (شوسه و راه آهن)، احداث سد
- ۴ فرسایش خاک، شهرنشینی، فعالیت‌های آتشفشانی، شکل‌گیری مراکز جمعیتی و کوه‌نوردی

۱۳۳. این کوه‌ها به شکل ..... در ..... ایران قرار دارند. از رشته‌کوه‌های مهم این کوه‌ها می‌توان ..... و ..... در اطراف نیشاور و بینالود نام برد. .... تالیفی

- ۱ موازی و منظم - شمال غربی - الاداغ و هزار مسجد ۲ چین‌خورده - شمال شرقی - هزارمسجد و ارسباران
- ۳ موازی و منظم - شمال شرقی - الاداغ و هزار مسجد ۴ چین‌خورده - شمال غربی - هزارمسجد و ارسباران

۱۳۴. تصویر زیر مربوط به کدام یک از اشکال پدیده‌های زاگرس است؟ ..... تالیفی



- کدام تعریف درست می‌باشد؟ در کجا واقع شده است؟
- ۱ دشت نمک - توده‌ای از نمک به شکل تقریباً گنبدی که بر اثر عوامل بیرونی و وزن مخصوص کم‌تر نمک نسبت به رسوبات اطراف خود بالا می‌آید. خورموج استان بوشهر
  - ۲ گنبد نمکی - توده‌ای از نمک به شکل تقریباً گنبدی که بر اثر عوامل بیرونی و وزن مخصوص بیشتر نمک نسبت به رسوبات اطراف خود بالا می‌آید. استان خوزستان
  - ۳ گند نمکی - توده‌ای از نمک به شکل تقریباً گنبدی که بر اثر عوامل درونی و وزن مخصوص کم‌تر نمک نسبت به رسوبات اطراف خود بالا می‌آید. خورموج استان بوشهر
  - ۴ دشت نمک - توده‌ای از نمک به شکل تقریباً گنبدی که بر اثر عوامل درونی و وزن مخصوص کم‌تر نمک نسبت به رسوبات اطراف خود بالا می‌آید. استان خوزستان

و بلوچستان بارشی کم‌تر از ۵۰ میلی‌متر دارند. این گوناگونی آب و هوایی، سبب تنوع در چشم‌اندازهای طبیعی و فرهنگی ایران شده است که در کم‌تر کشوری از جهان دیده می‌شود؛ به گونه‌ای که ایران ما به کشور چهار فصل معروف است.

**۱) موقعیت جغرافیایی**

● **عرض جغرافیایی، پرفشار جنب حاره‌ای و دوری و نزدیکی به دریاها؛ مهم‌ترین عوامل ناشی از موقعیت جغرافیایی است که بر آب و هوای کشور اثر دارد.**

مثال	توضیحات	مهم‌ترین عوامل ناشی از موقعیت جغرافیایی موثر بر آب و هوای ایران
 <p>شکل ۶- رابطه عرض جغرافیایی و دما در کشور</p>	<p>در مناطق جنوبی کشور، که در عرض‌های پایین جغرافیایی قرار دارند (به خط استوا نزدیک‌ترند)، زاویه تابش خورشید هنگام ظهر، نزدیک به عمود است و به همین دلیل در این نواحی، مقدار تابش خورشید بیش‌تر و هوا گرم‌تر است.</p> <p>مانند استان‌های هرمزگان و جنوب سیستان و بلوچستان که در عرض‌های بالای جغرافیایی قرار دارند و زاویه تابش خورشید مایل‌تر است، مقدار تابش کم‌تر و هوا سردتر است؛ ولی در مناطق شمالی کشور مانند استان‌های آذربایجان غربی و شرقی، در کشور ما به طور میانگین، میزان دما از شمال به جنوب بیش‌تر می‌شود.</p>	<p><b>عرض جغرافیایی</b></p>
 <p>شکل ۷- گردش عمومی هوا و مراکز فشار در کره زمین</p>	<p>در اطراف خط استوا به دلیل گرم بودن و صعود هوا، کمربند کم‌فشار حاره‌ای تشکیل می‌شود و دارای آب و هوای گرم و مرطوب است.</p> <p>در اطراف مدار رأس السرطان و رأس الجدی، به دلیل سنگینی و فرونشینی هوا، کمربند پرفشار جنب حاره‌ای تشکیل می‌شود و دارای آب و هوای گرم و خشک است که مانع از صعود هوا و تشکیل ابر و بارندگی می‌شود.</p> <p>مهم‌ترین کمربندهای خشک و بیابانی کره زمین در اثر عامل پرفشار جنب حاره‌ای به وجود آمده است که کشور ما هم در داخل این کمربند خشک قرار دارد. عامل پرفشار جنب حاره‌ای در تابستان به داخل کشور پیشروی می‌کند و مانع ریزش بارش در دوره گرم سال در کشور می‌شود.</p>	<p><b>قرار گرفتن ایران در پرفشار جنبه حاره‌ای</b></p>
	<p>نزدیکی به دریاها و دوری از آن در آب و هوای کشور دو اثر متفاوت دارد.</p> <p>۱- در سواحل شمالی کشور، دریای خزر در افزایش بارش، نقش مهمی دارد ولی خلیج فارس و دریای عمان به دلیل عدم امکان صعود هوای مرطوب، در بارش سواحل جنوبی کشور، نقش چندانی ندارند و موجب شرجی شدن هوا می‌شوند.</p> <p>۲- در نواحی داخلی کشور به دلیل دور بودن از دریاها و کمبود رطوبت، اختلاف دما زیاد است ولی در نواحی ساحلی شمال و جنوب کشور اختلاف دما کم‌تر است.</p>	<p><b>نزدیکی به دریاها و دوری از آن از منابع رطوبتی</b></p>

**۲) میزان ارتفاع و جهت کوهستان‌ها**


شکل ۸- تفاوت دامنه‌های شرقی و غربی زاگرس از نظر میزان بارش

- با افزایش هر ۱۰۰۰ متر ارتفاع، در لایه تروپوسفر جو زمین دمای هوا به طور میانگین حدود ۶ درجه سانتی‌گراد کاهش می‌یابد.
- در نواحی کوهستانی کشور، آب و هوا سردتر و در دشت‌های داخلی کشور، که ارتفاع کم‌تری دارند آب و هوا گرم‌تر است.
- جهت رشته‌کوه‌های بلند مانند البرز و زاگرس نیز در پراکندگی جغرافیایی بارش کشور اثر دارد.
- این عامل موجب بارش‌های بیش‌تر در دامنه‌های شمالی البرز و دامنه‌های غربی زاگرس شده است.

**۳) ورود توده‌های هوا به کشور**

- **تعریف توده هوا: توده هوا، حجم بزرگی از هوا است که ویژگی فیزیکی آن به خصوص از نظر دما و رطوبت، در سطح افقی در صدها کیلومتر تقریباً همسان باشد**
- در طول سال، انواع توده‌های هوا وارد کشور ما می‌شوند و آب و هوای ایران راتحت تأثیر قرار می‌دهند. این توده‌ها شامل **توده هوای غربی، توده هوای سیبری، توده هوای سودانی، توده هوای گرم و خشک و توده هوای مرطوب موسمی** است.
- مهم‌ترین سامانه بارشی در ایران، توده هوای مرطوب غربی است که در دوره سرد سال وارد شده و موجب ریزش برف و باران و تأمین آب می‌شود.
- لازم به ذکر است که عوامل مذکور به صورت ترکیبی آب و هوای کشور را تحت تأثیر خود قرار می‌دهند.

## سوال های کنکور و تکمیلی

۷۲۹. چه تعداد از موارد زیر نادرست است؟..... تالیفی

- الف) اقتصاد جهانی یعنی تجارت بین المللی بر مبنای پول واحد.  
ب) کشور هلند سالها کنگو را به عنوان مستعمره در دست داشت.  
ج) ثروت کشورهای مستعمره عامل پیشرفت سریع کشورهای اروپایی بود.  
د) اسعمار نو یا جنگ جهانی اول پایان یافت.  
ه) عامل مهم اقتصاد جهانی واردات و صادرات است.

- ۱ دو ۲ سه ۳ چهار ۴ پنج

۷۳۰. کدام گزینه از جهت واردات کالا با باقی گزینه ها متفاوت است؟..... تالیفی

- ۱ لیبی ۲ ژاپن ۳ اکوادور ۴ ایران

۷۳۱. کدام گزینه به علل ایجاد نابرابری اقتصادی در جهان اشاره ندارد؟..... تالیفی

- ۱ استعمارگری کشورهای اروپایی ۲ جنگ های جهانی اول و دوم  
۳ گسترش کمونیسم ۴ صدور سرمایه و کالا توسط ایالات متحده

۷۳۲. کدام عامل پس از جنگ جهانی دوم روند نابرابری اقتصادی در جهان را تشدید کرد؟..... تالیفی

- ۱ مبارزه با کمونیسم. ۲ صدور سرمایه از کشورهای صنعتی و قدرتمند.  
۳ توسعه فناوری های ارتباطی. ۴ خسارت های بسیاری که به برخی کشورها وارد شده بود.

۷۳۳. مهم ترین ویژگی دوران جنگ سرد چه بود؟..... تالیفی

- ۱ گسترش شرکت های چندملیتی ۲ مبارزه با گسترش کمونیسم  
۳ برتری اقتصادی آمریکا ۴ گسترش ناگهانی فناوری های ارتباطی و اطلاعاتی

۷۳۴. کدام گزینه جزو عوامل علاقه شرکت های چندملیتی به سرمایه گذاری خارجی نیست؟..... تالیفی

- ۱ استفاده از منابع طبیعی کشورهای دیگر ۲ نیروی کار ارزان  
۳ عدم وجود نظام حقوقی کارآمد ۴ نبود قوانین سخت محیط زیستی

۷۳۵. کدام گزینه از کشورها از نظر نوع مبادلات اقتصادی در یک گروه هستند؟..... تالیفی

- ۱ فرانسه، ژاپن، ایران ۲ ایران، عربستان، کره جنوبی ۳ ایران، فرانسه، کره جنوبی ۴ ایران، عربستان، ترکیه

۷۳۶. کدام گزینه نادرست است؟..... تالیفی

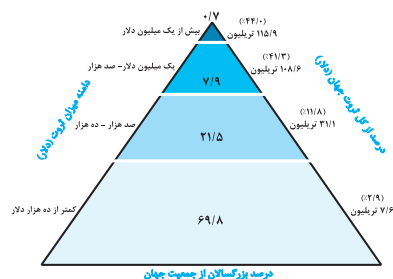
- ۱ شعبه اصلی شرکت های چندملیتی مادر نام دارد.  
۲ اقتصاد کشورهای تولیدکننده صنعتی در برابر نوسانات بازار جهانی آسیب پذیر است.  
۳ کشور بلژیک سالها کشور کنگو را مستعمره خود داشت.  
۴ بلوک شرق شامل شوروی سابق و چین و اروپای شرقی بود.

۷۳۷. کدام گزینه از عوامل شاخص توسعه انسانی نیست؟..... تالیفی

- ۱ آموزش ۲ امید به زندگی ۳ درآمد و رفاه ۴ بهداشت

۷۳۸. تصویر روبه رو چگونه باعث پدید آمدن ناحیه می شود؟..... تالیفی

- ۱ نابرابری اقتصادی  
۲ ایجاد تفاوت در امکانات  
۳ تفاوت در چشم اندازهای جغرافیایی  
۴ عدم توزیع عادلانه خدمات





<p>موقعیت جغرافیایی (ریاضی و نسبی) چگونگی قرار گرفتن یک مکان در سطح کره زمین است. این موقعیت جغرافیایی تاثیر زیادی بر افزایش یا کاهش قدرت یک کشور دارد. قرار گرفتن بین همسایگان قدرتمند یا ضعیف در سیاست خارجی کشور تاثیر گذار است.</p> <p><b>مثال:</b> کشور لهستان بین دو کشور قدرتمند روسیه و آلمان قرار گرفته است و به همین دلیل در دوره‌هایی موجودیت خود را از دست داده است. موقعیت دریایی (دسترسی به آب‌های آزاد) نقش مهمی در قدرت یا ضعف ملی دارد.</p> <p><b>مثال:</b> ژاپن و انگلستان با دسترسی به آب‌های آزاد به قدرت‌های بزرگ دریایی تبدیل شده‌اند.</p>	<p>۱- موقعیت جغرافیایی کشور</p>			
<p>وسعت زیاد سرزمین امری مطلوب است و بین دو کشور با شرایط یکسان، کشوری که وسعت بیش‌تری دارد قدرتمندتر است. در کشورهای وسیع می‌توان در زمان جنگ نیروهای نظامی پشتیبان را به بخش دیگری منتقل کرد. مثال: در جنگ ژاپن و چین، چین بخشی از نیروهای خود را به غرب کشور انتقال داد.</p> <p><b>وسعت زیاد با جمعیت و ناهمواری ارتباط دارد. اگر جمعیت کشور کم باشد در امر دفاعی مشکل ایجاد می‌شود. سرزمین‌های هموار برای کشاورزی و توسعه شبکه‌ها راه‌ها مناسب‌اند در حالی که کشورهای کوهستانی یا بیابانی برای این نوع فعالیت‌ها باید هزینه بسیاری انجام دهند.</b></p> <p><b>شکل کشورها هم در قدرت ملی موثر است.</b></p> <p>بهترین شکل کشور فشرده است که پایتخت در مرکز آن قرار گیرد. در چنین وضعیتی در کم‌ترین زمان می‌توان به تمام نقاط دسترسی داشت و قابلیت دفاعی این کشورها زیاد است. در کشورهای طویل و چند تکه نظارت حکومت بر همه قسمت‌های کشور و ایجاد خطوط ارتباطی مشکل است.</p>	<p>۲- وسعت، شکل و ناهمواری کشور</p>			
<p>کشورهای چندپاره یا چند تکه که کشورهای جزیره‌ای هستند</p>  <p>اندونزی</p>	<p>کشورهای دنباله‌دار یک بخش شبه جزیره‌ای یا دالان مانند دارند که از سرزمین اصلی جدا افتاده است</p>  <p>تایلند</p>	<p>کشورهای طویل که طول آن‌ها حداقل شش برابر عرضشان باشد</p>  <p>نروژ</p>	<p>کشورهای فشرده شکلی شبیه به مربع یا دایره دارند</p>  <p>لهستان</p>	
<p>کشورهای محاطی کشورهایی هستند که درون یک کشور دیگر محصور شده‌اند.</p>  <p>سوازیلند لهسو افریقای جنوبی</p>				
<p>بنیادهای زیستی عواملی مانند: آب و هوا، خاک و پوشش گیاهی هستند. به دلیل افزایش جمعیت و تغییر الگوهای زندگی مصرف آب افزایش یافته است و در آینده کشورهایی که با کمبود آب مواجه‌اند با پدیده فرسایش خاک و آلودگی خاک مواجه خواهند شد. همچنین توانمندی این کشورها از نظر تغذیه جمعیت و تولیدات کشاورزی کاهش می‌یابد و وابستگی به وارداتشان زیاد می‌شود. معمولا کشورهایی که در منطقه معتدله واقع شده‌اند به قدرت‌های سیاسی منطقه‌ای یا جهانی تبدیل شده‌اند نه کشورهایی که در مناطق سرد و یخبندان یا بیابان‌های سوزان واقع شده‌اند.</p>				<p>۳- بنیادهای زیستی کشور</p>
<p>منابع انرژی مانند نفت و گاز و معدنی مانند مس، آهن و... که در صنعت و امور نظامی کاربرد دارد. این منابع در صورتی که در جهت توسعه صنایع قرار گیرند مانند کشورهای برزیل و چین در قدرت یافتن کشور موثر هستند. اگر اقتصاد کشور وابسته به صادرات آن‌ها باشد یک ویژگی منفی و عامل کاهش قدرت ملی است.</p>				<p>۴- منابع انرژی و معدنی کشور</p>
<p>از جمعیت زیاد یکی از عوامل قدرت است. زیرا منبع کار و تولید ثروت و هم نیروی نظامی و دفاعی و هم سرچشمه روحیه ملی محسوب می‌شود. کیفیت و ترکیب جمعیت نیز اهمیت دارد. داشتن جمعیت جوان و فعال و با سواد و دارای مهارت از عوامل قدرت ملی است. همگونی جمعیت از نظر قومی، دینی، زبانی هم موثر است.</p>				<p>۵- جمعیت کشور</p>

# جدول اعداد انسانی ها

ناشر تخصصی  
رشته علوم انسانی  
و دروس عمومی

همواره با این  
جدول خودتان  
را ارزیابی کنید.

در صد های فوق به دو کار می آید:

۱- قبل از هر چیزی آخر فصل را می دانید و خودتان را برای آخر فصل آماده می کنید.  
۲- پس از هر آزمون آزمایشی که شرکت می کنید، به این در صد ها مراجعه کنید و جایگاه خودی خودتان را معلوم کنید.

توجه: اگر می خواهید بدانید در هر بازای چه رشته و چه شهری قبول می شوید به سایت تخصصی انسانی ها به آدرس زیر مراجعه نمایید.  
برای پیشرفت در صد های تان توصیه می گردد:  
۱- کتاب های عمومی و اختصاصی انتشارات مشاوران آموزش تهیه نمایید.  
۲- از مشاوران تخصصی علوم انسانی در سایت بهره بگیرید.

**WWW.ENSANIHA.COM**

گروه A: ادبیات + الهیات + حقوق + فلسفه  
گروه B: علوم اجتماعی  
گروه C: مدیریت + علوم اقتصادی + حسابداری  
گروه D: علوم سیاسی  
گروه E: روان شناسی + کتابداری + علوم تربیتی + تربیت بدنی

نام درس	رتبه ۱ ۱۰۰ تا ۱۰۰۰	رتبه ۲ ۵۰۰ تا ۱۰۰۰	رتبه ۳ ۱۰۰ تا ۵۰۰	رتبه ۴ ۲۰۰ تا ۱۰۰	رتبه ۵ ۲۰۰ تا ۳۰۰	ضرایب هر درس A B C D E	بودجه بندی سوال های تکمیلی	بودجه بندی سوال های تکمیلی	بودجه بندی سوال های تکمیلی
ادبیات	۶۵-۷۵٪	۵۰-۶۵٪	۴۰-۵۰٪	۳۰-۴۰٪	۲۰-۳۰٪	۴ ۴ ۴ ۴ ۴	۲۵	آرایه ۲ لفظ ۲ دیکته ۲ تاریخ ادبیات ۲ زبان فارسی ۵ قرابت ۹	مفهوم ۱ تعبیر ۲ درک مطلب ۴ حرکت گذاری ۲ تجزیه و ترکیب ۳ قواعد ۸
عربی	۷۰-۸۰٪	۵۰-۷۰٪	۴۰-۵۰٪	۳۰-۴۰٪	۲۰-۳۰٪	۲ ۲ ۲ ۲ ۲	۲۵	ترجمه ۵ سوال دهم آیات ۶ سوال دهم متون ۳ سوال یازدهم آیات ۴ سوال دوازدهم متون ۵ سوال دوازدهم آیات ۶ سوال دوازدهم متون ۱	گرامر ۴ واژگان ۶ Cloze ۵ Reading ۲×۵
دین و زندگی	۷۰-۸۰٪	۶۰-۷۰٪	۵۵-۶۰٪	۴۵-۵۵٪	۳۵-۴۵٪	۳ ۳ ۳ ۳ ۳	۲۵	سوال دهم آیات ۶ سوال دهم متون ۳ سوال یازدهم آیات ۴ سوال دوازدهم متون ۵ سوال دوازدهم آیات ۶ سوال دوازدهم متون ۱	گرامر ۴ واژگان ۶ Cloze ۵ Reading ۲×۵
زبان انگلیسی	۵۰-۶۰٪	۴۰-۵۰٪	۲۵-۳۰٪	۱۵-۲۵٪	۱۰-۲۰٪	۲ ۲ ۲ ۲ ۲	۲۵	گرامر ۴ واژگان ۶ Cloze ۵ Reading ۲×۵	گرامر ۴ واژگان ۶ Cloze ۵ Reading ۲×۵
ریاضیات	۴۰-۵۰٪	۳۰-۴۰٪	۲۵-۳۰٪	۲۰-۲۵٪	۱۵-۲۰٪	۲ ۲ ۲ ۲ ۲	۲۰	سوال دهم ۶ سوال یازدهم ۶ سوال دوازدهم ۸	مسائل ۶ متون ۸ نمودار ۱
اقتصاد	۸۵-۹۰٪	۸۰-۸۵٪	۷۰-۸۰٪	۵۵-۷۰٪	۴۵-۵۵٪	۱ ۲ ۳ ۲ ۲	۱۵	مسائل ۶ متون ۸ نمودار ۱	مسائل ۶ متون ۸ نمودار ۱
ادبیات اختصاصی	۸۰-۸۵٪	۵۵-۷۰٪	۴۵-۵۵٪	۳۵-۴۵٪	۲۵-۳۵٪	۴ ۲ ۲ ۲ ۲	۳۰	تاریخ ادبیات و سبک شناسی ۸ آرایه ۷ قابلیه ۲ عروض ۵ قلمروهای ادبی ۸	تاریخ ادبیات و سبک شناسی ۸ آرایه ۷ قابلیه ۲ عروض ۵ قلمروهای ادبی ۸
تاریخ و جغرافیا	۶۵-۷۵٪	۵۰-۶۵٪	۴۰-۵۰٪	۳۰-۴۰٪	۲۰-۳۰٪	۱ ۱ ۱ ۱ ۱	۳۰	تاریخ دهم ۵ تاریخ یازدهم ۵ تاریخ دوازدهم ۵ جغرافی دهم ۵ جغرافی یازدهم ۵ جغرافی دوازدهم ۵	تاریخ دهم ۵ تاریخ یازدهم ۵ تاریخ دوازدهم ۵ جغرافی دهم ۵ جغرافی یازدهم ۵ جغرافی دوازدهم ۵
جامعه شناسی و علوم اجتماعی	۸۰-۹۰٪	۶۰-۷۰٪	۵۰-۶۰٪	۴۰-۵۰٪	۳۰-۴۰٪	۱ ۲ ۳ ۲ ۳	۲۰	سوال دهم ۴ سوال یازدهم ۴ سوال دوازدهم ۵ تربیتی ۷	سوال دهم ۴ سوال یازدهم ۴ سوال دوازدهم ۵ تربیتی ۷
منطق و فلسفه	۶۰-۷۰٪	۵۰-۶۰٪	۴۰-۵۰٪	۳۵-۴۰٪	۲۰-۳۵٪	۳ ۱ ۱ ۲ ۲	۲۵	منطق دهم ۹ فلسفه دهم ۶ فلسفه یازدهم ۱۰	منطق دهم ۹ فلسفه دهم ۶ فلسفه یازدهم ۱۰
روان شناسی	۸۰-۹۰٪	۷۰-۸۰٪	۵۵-۷۰٪	۴۵-۵۵٪	۳۵-۴۵٪	۱ ۲ ۳ ۱ ۲	۲۰	تعبیر و روش ۲ روانشناسی رشد ۴ احساسات، توجه، ادراک ۲ حافظه و عمل فراموشی ۳ تفکر و انگیزه ۴ روانشناسی سلامت ۲	تعبیر و روش ۲ روانشناسی رشد ۴ احساسات، توجه، ادراک ۲ حافظه و عمل فراموشی ۳ تفکر و انگیزه ۴ روانشناسی سلامت ۲

## درسنامه تصویب‌شده

جغرافیا علمی مبتنی بر تصویر و نقشه است. استفاده از تصویر در درسنامه قدرت فهم را بالا می‌برد. درسنامه‌ها مبتنی بر تصاویر مناسب کتاب درسی عنوان شده است.

## تبدیل تصویرها و نقشه‌ها به تست

تست‌های چند سال اخیر کنکور نشان داده است که استفاده از تصویر و نقشه در سوالات کنکور افزایش پیدا کرده است، بر این اساس مولفین تست‌هایی با این هدف طراحی کرده‌اند.

## درسنامه جامع و کامل

ما برای شما در این کتاب تلاش کرده‌ایم درسنامه‌های طبقه‌بندی شده و در عین حال کوتاه، ارائه دهیم. یا به زبان ساده؛ جامع و کامل.

## چینش هدفدار تست‌ها

هدفدار بودن تست‌ها به چه معنایی است؟ دو معنی دارد: ۱. با یادگیری تست اول آماده می‌شوید که تست دوم را بهتر یاد بگیرید. ۲. هر تستی یک هدف آموزشی مشخص را دنبال می‌کند.

## ۸۶۹ پرسش چهارگزینه‌ای

با ۸۶۹ تست سعی کرده‌ایم تمام مطالبی که قابلیت طراحی تست در کنکور دارد را به صورت تست برای شما ارائه دهیم.

## پاسخ‌های تشریحی

با استفاده از پاسخ تشریحی، درک بهتری از تست‌ها به دست می‌آورید.

## جداول مقایسه‌ای

حفظ نکنید! بلکه آن را بفهمید به همین دلیل جدول مقایسه‌ای را برای شما آماده کرده‌ایم.

						
						
				<h1>علوم انسانی تخصص ماست.</h1> <p>یادتان باشد که تست‌های کنکور در دروس عمومی برای رشته انسانی متفاوت است.</p> <p>کتاب‌های عمومی خود را از مشاوران آموزش تهیه کنید.</p>		
						



کانال تلگرام دبیران علوم انسانی  
@ensanidabir



کانال تلگرام مشاورها  
@moshaveraneirann



عضو کانال انسانی‌ها شوید  
@ensaniha



(۰۲۱-۶۶۹۷۵۷۲۷)

راه‌های ارتباطی  
دانش‌آموزان،  
دبیران،  
مشاورها:

WWW.Moshaveranpub.com  
www.ensaniha.com

به این شماره پیامک کنید:  
۰۲۱۶۶۹۵۳۲۰۵




تهران، خیابان انقلاب، خیابان ۱۲ فروردین،  
نیش کوچه مهر، پلاک ۱۸، واحد دوم

ISBN 978-600-218-080-3



9 786002 180803

# نحوه ارتباط با ما:

-  تلفن تماس ..... ۰۲۱-۶۶۹۷۵۷۲۲
-  کانال انسانی‌ها ..... @ensaniha
-  کانال دبیران انسانی ..... @ensanidabir
-  کانال سروش ..... @moshaveran\_amoozesh
-  اینستاگرام ..... moshaveraneamozesh
-  آدرس انتشارات ..... تهران، میدان انقلاب، خیابان ۱۲ فروردین، بعد از لبافی‌نژاد، کوچه مهر، پلاک ۱۸
-  وبسایت انتشارات مشاوران آموزش ..... [www.moshaveranpub.com](http://www.moshaveranpub.com)