

سؤال‌های نسبتاً دشوار؟

انتظار داریم دانش‌آموزان ترازهای ۵۰۰۰ تا ۵۵۰۰ از هر ۱۰ سوال به ۳ سوال پاسخ دهند.
انتظار داریم دانش‌آموزان ترازهای ۵۵۰۰ تا ۶۲۵۰ از هر ۱۰ سوال به ۴ (یا ۵) سوال پاسخ دهند.
انتظار داریم دانش‌آموزان ترازهای ۶۲۵۰ به بالا از هر ۱۰ سوال به بیش از ۶ سوال پاسخ دهند.

۱- «شخصی با ۲۰ میلیون تومان پولی که پس‌انداز کرده، یک خودرو و یک دوچرخه خریداری می‌کند.» در این رابطه، کدام یک از گزینه‌های زیر درست است؟

۱۴۴۵۴ ۹۲/۷ ۵۵٪ ۷۸٪

۱) هزینه‌ی فرصت خرید خودرو، دوچرخه است.

۲) هزینه‌ی فرصت خرید دوچرخه، خودرو است.

۳) در این مثال هزینه‌ی فرصت وجود ندارد؛ چون هر دو کالا خریداری شده‌اند.

۴) هزینه‌ی فرصت خرید خودرو و دوچرخه، موتورسیکلت است.

۲- پاسخ درست و کامل پرسش‌های زیر در کدام گزینه مطرح شده است؟

الف) «...» نشان‌دهنده‌ی «قدرت اقتصادی و مادی» و هم‌چنین «سطح زندگی» مردم یک جامعه است.

ب) آن چه که دربرگیرنده‌ی اقلام مختلف «درآمدی» است و در طول یک سال نصیب اعضای جامعه می‌شود، چه نام دارد؟ و دو نمونه‌ی شاخص از آن کدام است؟

ج) کالاهایی را که «تولیدکنندگان» تولید و به بازار، عرضه می‌کنند یا «مصرف‌کنندگان» می‌خرند و به مصرف می‌رسانند «...» می‌گویند. کالاهایی را که «تولیدکنندگان» آن‌ها را خریداری می‌کنند و برای تولید کالاهای دیگر مورد استفاده قرار می‌دهند «...» می‌نامند.

د) چنان چه هدف، محاسبه‌ی «...» باشد باید ارزش همه‌ی خدمات و کالاهایی که مردم یک کشور در طول یک سال چه در داخل و چه خارج از کشور تولید کرده‌اند محاسبه شود.

ه) از «کل» تولید جامعه» در طول یک سال باید قسمتی را به «هزینه‌های جایگزینی» سرمایه‌های فرسوده شده اختصاص دهیم. در «اصطلاح اقتصادی» به آن چه می‌گویند؟

و) در کدام یک از روش‌های «محاسبه‌ی تولید کل» جامعه» ارزش افزوده‌ی هر مرحله از تولید را با هم جمع می‌کنند و این رقم برابر با «ارزش نهایی محصول تولیدشده» است؟

۱۳۵۱۹ ۹۳/۷ ۵۹٪ ۷۲٪

۱) الف) میزان تولید کالا و خدمات، ب) درآمد ملی - درآمد حقوق‌بگیران - درآمد صاحبان مشاغل آزاد، ج) نهایی - واسطه‌ای، د) تولید ملی، ه) هزینه‌ی استهلاک، و) روش تولید

۲) الف) تفاوت صادرات بر واردات، ب) تولید ناخالص ملی - درآمد صاحبان سرمایه - سودی که به «سرمایه» تعلق می‌گیرد، ج) واسطه‌ای - نهایی، د) تولید داخلی، ه) هزینه‌ی نهایی، و) روش هزینه‌ای

۳) الف) غنا و فراوانی منابع طبیعی و اقتصادی، ب) تولید ناخالص داخلی - اجاره‌بها یا مال‌الاجاره - درآمد صاحبان املاک و مستغلات، ج) سرمایه‌ای - واسطه‌ای، د) تولید ناخالص داخلی، ه) هزینه‌ی ثابت، و) روش درآمدی

۴) الف) استفاده از تکنولوژی مدرن در تمام بخش‌های اقتصادی، ب) درآمد سرانه - دستمزدها - سودی که نصیب شرکت‌ها و مؤسسات می‌شود، ج) تکمیلی - واسطه‌ای، د) تولید سرانه‌ی ملی، ه) هزینه‌ی متغیر، و) روش استفاده از سال پایه و قیمت ثابت



۳- برای ساخت و بهره‌برداری از یک سد، به حدود ۱۰۰ میلیارد ریال سرمایه‌گذاری احتیاج است. کدام گزینه می‌تواند هزینه‌ی فرصت بهره‌برداری از این سد باشد؟

۱۵۶۹۷ ۹۲/۸ ۲۹٪ ۷۱٪

(۱) ارزان شدن هزینه‌ی برق در نتیجه‌ی استفاده‌ی نیروگاه از منافع سد تأسیس شده

(۲) تأسیس دو مدرسه با امکانات آموزشی مناسب

(۳) ۱۰۰ میلیارد ریال به‌علاوه‌ی هزینه‌های نگهداری از سد

(۴) قدرت کنترل و استفاده از نیروی جریان آب

۴- کدام مورد در حسابداری ملی صدق می‌کند؟

۱۵۶۹۷ ۹۲/۸ ۲۹٪ ۷۰٪

(۱) تعمیر بخاری منزل توسط صاحب‌خانه، یک فعالیت تولیدی محسوب می‌شود.

(۲) ارزش کالاهای نهایی در بطن کالاهای واسطه‌ای است.

(۳) «تولید داخلی» و «تولید ملی» وجه اشتراک و افتراق دارند.

(۴) تولید داخلی شامل تولید خارجی‌های مقیم آن کشور نمی‌شود.

۵- ارزش کدام مورد در محاسبه‌ی تولید ملی ایران، منظور می‌شود؟

۱۰۵۲۶ ۹۵/۵ ۳۴٪ ۶۹٪

(۱) خودروی مستعمل خریداری شده توسط خانوار

(۲) خدمات مهندسان خارجی در ایران

(۳) بهره‌ی سرمایه‌ی خارجی‌ان در ایران

(۴) خدمات پزشکان ایرانی در خارج از ایران

۶- کدام یک از گزینه‌ها بیانگر «بازیگران خرد اقتصاد» و کدام یک بیانگر «بازیگران کلان اقتصاد» هستند؟

۱۵۸۹۳ ۹۵/۷ ۳۲٪ ۶۸٪

(۱) خیریه‌ها - دولت

(۲) مؤسسات انتفاعی یا غیرانتفاعی - خانواده‌ها یا شرکت‌ها

(۳) دولت - خیریه‌ها

(۴) مؤسسات انتفاعی یا غیرانتفاعی - دولت

۷- انسان محصول آماده‌ی طبیعت را مستقیماً برداشت می‌کند بدون اینکه کاری روی آن انجام دهد. این اقدام را، که موجب مالکیت فرد می‌شود، ... می‌نامند.

۱۵۸۹۳ ۹۵/۷ ۴۰٪ ۶۷٪

(۲) احیا

(۱) صنعت

(۴) خدمات

(۳) حیازت

۸- کدام گزینه در رابطه با سرمایه‌های فیزیکی درست نیست؟

۱۰۵۲۶ ۹۵/۵ ۳۰٪ ۶۶٪

(۱) کالاهای بادوامی که در جریان تولید به کار گرفته می‌شوند.

(۲) تراکتور برای کشاورز و کامیون برای شرکت‌های حمل‌ونقل، سرمایه‌ی فیزیکی است.

(۳) سرمایه‌ی فیزیکی مستقیماً در تولید نقش ندارد بلکه با تبدیل به عوامل تولید دیگر به تولید کمک می‌کند.

(۴) یکی از انواع سرمایه، سرمایه‌ی فیزیکی (ابزار، تجهیزات و ماشین‌آلات تولید) است.

۹- کدام‌یک از کالاهای زیر جزء کالاهای واسطه‌ای به حساب نمی‌آید؟

۱۰۵۲۶ ۹۵/۵ ۴۰٪ ۶۵٪

(۱) قیچی خریداری شده توسط یک خیاط

(۲) نان خریداری شده توسط خانوار

(۳) آرد خریداری شده توسط نانوايان

(۴) بذر خریداری شده توسط کشاورزان

۱۰- به ترتیب هریک از مطالب زیر بیانگر چه مفهومی می‌باشند؟

الف) «برای گروهی از انسان‌ها که از ابتدایی‌ترین امکانات زندگی محروم‌اند، اساسی‌ترین نیاز این است که سرپناهی داشته باشند تا در آن از گزند سرما، گرما و درندگان مصون بمانند و نیز غذای مختصری داشته باشند که با آن رفع گرسنگی کنند، اما وقتی این نیازها تا حد مقبول برطرف می‌شود، همین افراد احساس می‌کنند که به امکانات رفاهی بیش‌تری نیاز دارند.»

ب) «منابعی که باید در خدمت آبادانی و افزایش سطح رفاه انسان قرار گیرد ممکن است صرف کشتار و جنگ افروزی شود.»

ج) بخشی از نیروی کار موجود در یک جامعه، هم می‌تواند در فعالیت‌های تولیدی شرکت کند و هم به شکل نیروی نظامی در خدمت تأمین امنیت کشور باشد.

۱۵۳۷۳ ۹۴/۸ ۴۱٪ ۶۵٪

۱) الف) انسان موجودی سیری‌ناپذیر است. ب) قابلیت مصارف متعدد منابع، ج) منابع و امکانات نامحدود، قادر به رفع نیازهای محدود انسان نیستند.

۲) الف) انسان از منابع و امکانات موجود در جهان برای رفع نیازهای خود استفاده می‌کند. ب) محدودیت منابع به سبب «استفاده‌ی نادرست»، ج) منابع و امکانات نامحدود، قادر به رفع نیازهای محدود انسان نیستند.

۳) الف) انسان موجودی سیری‌ناپذیر است. ب) محدودیت منابع به سبب «استفاده‌ی نادرست»، ج) قابلیت مصارف متعدد منابع

۴) الف) انسان از منابع و امکانات موجود در جهان برای رفع نیازهای خود استفاده می‌کند. ب) قابلیت مصارف متعدد منابع، ج) قابلیت مصارف متعدد منابع

۱۱- چند مورد از موارد زیر، هنگام محاسبه‌ی تولید ناخالص داخلی ایران، در حسابداری ملی محاسبه می‌شوند؟

«فروش سیستم پخش ماشین سرقتی به مال‌خر، تولید یک دوچرخه توسط دو فرد چینی در ایران، تعمیر کولر همسایه در ازای دریافت پول، فروش لامپ تصویر به کارخانه‌ی تولید تلویزیون، تولید پوشاک توسط یک ایرانی در هند»

۱۴۹۵۶ ۹۳/۸ ۲۱٪ ۶۴٪

۱) یک ۲) سه ۳) دو ۴) چهار

۱۲- کدام گزینه پاسخ درست و کامل سؤالات زیر است؟

الف) کالاهایی که نیازهای اولیه را برطرف می‌کنند ... نام دارند.

ب) ... شاخه‌ای از مطالعات اقتصادی است که با ارائه‌ی شاخص‌های متنوع به بررسی و اندازه‌گیری میزان فعالیت‌های اقتصادی در سطح ملی می‌پردازد.

ج) عامل دربرگیرنده‌ی مجموعه‌ی امکاناتی که به عنوان حاصل کار گذشته‌ی انسان در جریان «تولید» قرار می‌گیرند، چیست؟

۱۵۱۷۶ ۹۴/۳ ۳۰٪ ۶۳٪

۱) الف) کالاهای ضروری، ب) حسابداری ملی، ج) سرمایه

۲) الف) کالاهای ضروری، ب) مالیه‌ی ملی، ج) تکنولوژی

۳) الف) کالاهای لوکس، ب) حسابداری ملی، ج) سرمایه

۴) الف) کالاهای لوکس، ب) مالیه‌ی ملی، ج) تکنولوژی



۱۳- پاسخ درست و کامل پرسش‌های زیر در کدام «گزینه» مطرح شده است؟

- الف) بنگاه‌های اقتصادی، سهم عوامل تولید را متناسب با قیمت آن‌ها به صورت ... به خانوارها می‌پردازند.
 ب) برای این‌که اثر تغییرات قیمت را در محاسبه‌ی تولید کل از بین ببریم باید از شاخص ... استفاده کنیم.
 ج) در کدام‌یک از روش‌های «محاسبه‌ی تولید کل جامعه»، ارزش افزوده‌ی هر مرحله از تولید را با هم جمع می‌کنند و این رقم برابر با «ارزش نهایی محصول تولید» شده است؟
 د) نحوه‌ی تصمیم‌گیری و اقدام تولیدکنندگان و نیز واکنش آن‌ها نسبت به تغییرات وضعیت اقتصادی با عنوان ... شناخته می‌شود.

۱۵۱۷۶ ۹۴/۳ ۳۵% ۶۲%

- ۱) الف) مزد، سود و اجاره، ب) تولید کل به قیمت ثابت، ج) روش هزینه‌ای، د) بازار
 ۲) الف) مزد، سود و اجاره، ب) تولید کل به قیمت ثابت، ج) روش تولید، د) رفتار اقتصادی
 ۳) الف) سرمایه، سود و مزد، ب) تولید کل به قیمت جاری، ج) روش هزینه‌ای، د) بازار
 ۴) الف) سرمایه، سود و مزد، ب) تولید کل به قیمت جاری، ج) روش تولید، د) رفتار اقتصادی

۱۴- شخصی می‌خواهد بین کارکردن و رفتن به دانشگاه یکی را انتخاب کند. هزینه‌های یک سال تحصیل در دانشگاه شامل هزینه‌ی ثبت‌نام به میزان ۱,۰۰۰,۰۰۰ ریال، هزینه‌ی خرید کتاب و ملزومات به میزان ۲,۰۰۰,۰۰۰ ریال و هزینه‌ی رفت و آمد برابر ۳,۰۰۰,۰۰۰ ریال است. اما اگر این شخص یک سال کار کند، درآمد خالصی معادل ۵,۰۰۰,۰۰۰ ریال خواهد داشت. هزینه‌ی فرصت یک‌سال تحصیل در دانشگاه برای شخص مذکور کدام است؟

۱۵۶۹۷ ۹۲/۸ ۳۸% ۶۲%

- ۱) هزینه‌های اضافی که در طی یک‌سال تحصیل، برای فرد به‌وجود می‌آید.
 ۲) مجموع هزینه‌هایی که در طول یک‌سال تحصیل در دانشگاه باید بپردازد.
 ۳) ۵,۰۰۰,۰۰۰ ریال درآمد خالصی که از آن صرف‌نظر کرده‌است.
 ۴) دانشی که در طی یک‌سال تحصیل در دانشگاه می‌تواند کسب کند.

۱۵- کدام یک از موارد زیر منجر به افزایش تولید خالص داخلی می‌شود؟

۱۴۹۵۶ ۹۳/۸ ۳۶% ۶۱%

- ۱) محاسبه‌ی ارزش کالاهایی که یک کارخانه‌ی داخلی در دو سال گذشته تولید کرده است.
 ۲) مهاجرت افراد شاغل در کشور به خارج برای ادامه‌ی تحصیل
 ۳) تربیت فرزندان توسط مادران به‌جای سپردن بچه‌ها به مهدکودک
 ۴) کاهش هزینه‌های استهلاک

۱۶- کدام گزینه مبین پاسخ درست و کامل پرسش‌های زیر است؟

- الف) به چه دلیل امروزه اقتصاددانان می‌توانند در عرصه‌ی اقتصاد برای رسیدن به هدفی خاص، سیاست‌هایی را طراحی و اجرا کرده و نتایج اجرای آن‌ها را از قبل پیش‌بینی کنند و هم‌چنین با پیش‌بینی برخی مشکلاتی که ممکن است در عرصه‌ی اقتصاد بروز کند، روش‌هایی را برای جلوگیری از بروز آن‌ها طراحی کنند؟
 ب) برخی کالاهای مصرفی خودشان مصرف نمی‌شوند، بلکه در طول زمان خدمات ارائه شده از سوی آن‌ها مورد مصرف قرار می‌گیرد؛ به این کالاها در اقتصاد ... می‌گویند.

۱۵۳۷۳ ۹۴/۸ ۲۹% ۶۱%

- ۱) الف) کشف ماهیت روابط علت و معلولی بین پدیده‌های اقتصادی با تکیه بر مطالعات علمی خود، ب) کالاهای بادوام
 ۲) الف) فراهم آمدن امکان استفاده از ابزارهای خاص علوم دیگر، ب) کالاهای بادوام
 ۳) الف) کشف ماهیت روابط علت و معلولی بین پدیده‌های اقتصادی با تکیه بر مطالعات علمی خود، ب) کالاهای سرمایه‌ای
 ۴) الف) فراهم آمدن امکان استفاده از ابزارهای خاص علوم دیگر، ب) کالاهای لوکس

۱۷- با توجه به اطلاعاتی که از جامعه‌ی A در دست است، ارزش تولید خارجیان مقیم کشور، چند میلیارد ریال است؟

ارزش تولید خالص ملی: ۳۵۵,۰۰۰ میلیارد ریال

ارزش تولید ناخالص داخلی: ۳۶۵,۰۰۰ میلیارد ریال

هزینه‌ی استهلاک سالانه: ۲۰,۰۰۰ میلیارد ریال

ارزش تولید افراد کشور که در خارج ساکن هستند: ۴۰,۰۰۰ میلیارد ریال

۱۳۵۱۹ ۹۳/۷ ۲۹% ۶۰%

۲۰,۰۰۰ (۴)

۱۵,۰۰۰ (۳)

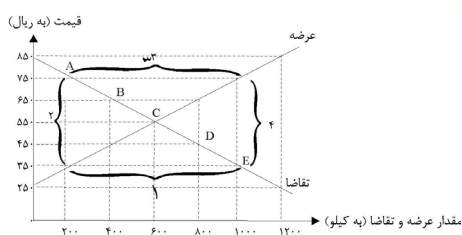
۳۰,۰۰۰ (۲)

۱۰,۰۰۰ (۱)

۱۸- با توجه به جدول و نمودار زیر، به ترتیب (از راست به چپ)، «کمبود عرضه»، «نقطه‌ی تعادلی قیمت و مقدار» و «مازاد

عرضه» کدام است؟

۱۱۲۲۹ ۹۵/۶ ۳۳% ۵۹%



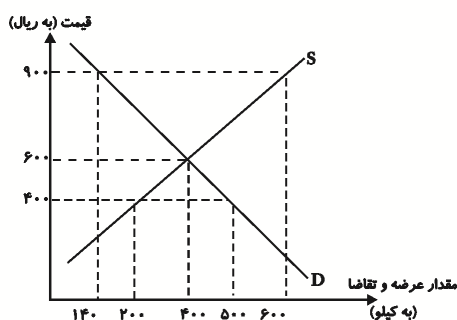
قیمت (به ریال)	مقدار تقاضا (به کیلو)	مقدار عرضه (به کیلو)
۲۵۰	۱۲۰۰	۰
۳۵۰	۱۰۰۰	۲۰۰
۴۵۰	۸۰۰	۴۰۰
۵۵۰	۶۰۰	۶۰۰
۶۵۰	۴۰۰	۸۰۰

۱-C-۱ (۱)

۴-B-۲ (۲)

۱-C-۳ (۳)

۲-B-۱ (۴)



۱۹- با توجه به نمودار زیر به سؤالات پاسخ دهید.

الف) در قیمت ۴۰۰ ریال، گرایش قیمت چگونه است؟

ب) در قیمت ۹۰۰ ریال، چه وضعیتی در بازار به وجود

می‌آید؟

ج) در قیمت ۴۰۰ ریال، حداکثر درآمد تولیدکنندگان چند

ریال است؟

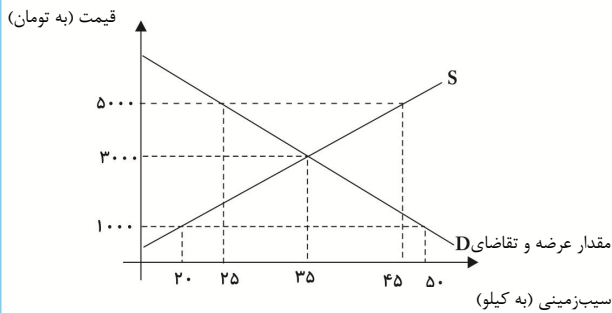
۱۰۵۲۶ ۹۵/۵ ۲۱% ۵۹%

(۱) الف) رو به افزایش، ب) ۴۶۰ کیلو مازاد عرضه، ج) ۸۰,۰۰۰

(۲) الف) رو به کاهش، ب) ۴۰۰ کیلو مازاد تقاضا، ج) ۲۰۰,۰۰۰

(۳) الف) رو به افزایش، ب) ۴۶۰ کیلو مازاد تقاضا، ج) ۲۰۰,۰۰۰

(۴) الف) رو به کاهش، ب) ۴۰۰ کیلو مازاد عرضه، ج) ۸۰,۰۰۰



۲۰- منحنی عرضه و تقاضای سیب‌زمینی مصرفی خانوارهای جامعه در دستگاه مختصات زیر رسم شده است: الف) اگر مشاهده کنیم که قیمت سیب‌زمینی در حال کاهش است، چه نوع مازاد یا کمبودی در بازار می‌تواند وجود داشته باشد؟ ب) اگر قیمت هر کیلو سیب‌زمینی در بازار ۱۰۰۰ تومان باشد، چه نوع مازاد یا کمبودی وجود خواهد داشت و مقدار آن، چند کیلو است؟ پ) به ترتیب، قیمت تعادلی چند تومان و مقدار تعادلی چند کیلو سیب‌زمینی است؟ (از راست به چپ) ت) اگر قیمت سیب‌زمینی ۵۰۰۰ تومان باشد، با چه وضعیتی در بازار روبه‌رو می‌شویم و قیمت هر کیلو سیب‌زمینی چقدر باید کاهش یا افزایش یابد تا بازار به حالت تعادل برسد؟

۵۹% ۱۶% ۹۳/۱۱ ۱۵۹۴۷

- ۱) الف) مازاد تقاضا، ب) مازاد تقاضا، ۳۰، پ) ۳۰۰۰، ۳۵، ت) مازاد عرضه، قیمت باید ۲۰۰۰ تومان کاهش یابد.
- ۲) الف) کمبود تقاضا، ب) کمبود عرضه، ۳۰، پ) ۳۵، ۳۰۰۰، ت) مازاد تقاضا، قیمت باید ۲۰۰۰ تومان افزایش یابد.
- ۳) الف) مازاد عرضه، ب) مازاد تقاضا، ۳۰، پ) ۳۰۰۰، ۳۵، ت) مازاد عرضه، قیمت باید ۲۰۰۰ تومان کاهش یابد.
- ۴) الف) کمبود عرضه، ب) کمبود عرضه، ۲۰، پ) ۳۵، ۳۰۰۰، ت) مازاد عرضه، قیمت باید ۱۰۰۰ تومان افزایش یابد.

۲۱- کدام گزینه مبین پاسخ صحیح است؟

الف) سود اقتصادی (ویژه) کدام یک از گزینه‌های زیر است؟ ب) نام دیگر خدمات چیست؟ ج) تولیدکنندگان و مؤسسات اقتصادی بر اساس انگیزه‌های خود به چند دسته تقسیم می‌شوند؟ آن‌ها کدام است؟

۵۸% ۴۲% ۹۵/۶ ۱۱۲۲۹

- ۱) الف) هزینه‌های مستقیم و غیر مستقیم - درآمد ب) محصولات نرم ج) دو دسته - انتفاعی و غیرانتفاعی
- ۲) الف) هزینه‌های مستقیم - درآمد ب) محصولات نرم ج) سه دسته - انتفاعی و غیرانتفاعی و دولتی
- ۳) الف) هزینه‌های مستقیم و غیرمستقیم - درآمد ب) صنعت ج) دو دسته - انتفاعی و غیرانتفاعی
- ۴) الف) هزینه‌های مستقیم - درآمد ب) صنعت ج) سه دسته - انتفاعی و غیرانتفاعی و دولتی

۲۲- در رابطه با سازمان تولید مشارکتی کدام مورد نادرست است؟

۵۷% ۲۸% ۹۵/۸ ۱۵۳۱۳

- ۱) همه با هم در فرایند تولید مشارکت می‌کنند.
- ۲) محصول یا ارزش محصول به طور مساوی و یا با نسبتی تقسیم می‌شود که به توافق رسیده‌اند.
- ۳) همه‌ی عوامل تولید صاحب محصول هستند.
- ۴) تمام منافع، خطر (ریسک) و هزینه‌های تولید بر عهده‌ی صاحب تولید است و سایر عوامل تولید، دستمزد یا اجاره می‌گیرند.

۲۳- در کدام گزینه پاسخ صحیح پرسش‌های زیر آمده است؟

الف) تولیدکنندگان در تکمیل فرم اظهارنامه‌ی مالیاتی، ... را درج می‌کنند. ب) اگر تولیدکننده‌ای برای فعالیت‌های تولیدی خود ده میلیون ریال هزینه کرده باشد و کالاهای تولید شده را دوازده میلیون ریال بفروشد، می‌گوییم دو میلیون ریال ... کسب کرده است. ج) فروشندگان آثار هنری در نمایشگاه‌ها و حراجی‌ها ... برگزار می‌کنند.

۵۶% ۳۲% ۹۵/۷ ۱۵۸۹۳

- ۱) الف) سود حسابداری ب) درآمد ج) مزایده
- ۲) الف) سود ویژه ب) سود ج) مزایده
- ۳) الف) سود حسابداری ب) سود ج) مناقصه
- ۴) الف) سود ویژه ب) درآمد ج) مناقصه

۲۴- کدام گزینه بیانگر پاسخ درست و کامل پرسش‌های زیر است؟

- الف) انگیزه‌ی مصرف‌کنندگان از خرید کالاها، ... و انگیزه‌ی تولیدکنندگان از تولید یک کالا ... است.
 ب) نزولی بودن منحنی تقاضا به این معنی است که با ... قیمت، مقدار تقاضا ... یافته و در مقابل با ... قیمت، مقدار تقاضا ... می‌یابد.
 ج) اگر در بازار قیمت کالایی در حال افزایش باشد می‌گوییم به دلیل ... قیمت ...

۱۵۱۷۶ ۹۴/۳ ۲۸٪ ۵۵٪

- ۱) الف) رفع نیاز، کسب سود، ب) افزایش، کاهش، کاهش، افزایش، ج) کمبود عرضه - به سمت قیمت تعادلی پیش می‌رود.
 ۲) الف) کسب سود، رفع نیاز، ب) افزایش، کاهش، کاهش، افزایش، ج) مازاد عرضه - به سمت قیمت تعادلی پیش می‌رود.
 ۳) الف) کسب سود، رفع نیاز، ب) کاهش، کاهش، افزایش، افزایش، ج) مازاد عرضه - از قیمت تعادلی فاصله می‌گیرد.
 ۴) الف) رفع نیاز، کسب سود، ب) کاهش، کاهش، افزایش، افزایش، ج) کمبود عرضه - از قیمت تعادلی فاصله می‌گیرد.

۲۵- به ترتیب عبارات کدام گزینه، با موارد زیر، مطابقت دارد؟

«خدمات واسطه‌ای - کالای سرمایه‌ای - کالای مصرفی ضروری - کالای واسطه‌ای»

۱۵۳۷۳ ۹۴/۸ ۴۰٪ ۵۵٪

- ۱) دندان پزشکی - بولدوزر - آرد - نان
 ۲) مشاور حقوقی - ساختمان تجاری - پوشاک - چرم
 ۳) ورق آهن - تراکتور - میوه - لاستیک خودرو
 ۴) مشاور مالی - ساختمان مسکونی - خوراک - آرد
 ۲۶- اگر قیمت کالایی در بازار در حال کاهش باشد، می‌توان گفت به دلیل وجود ... یعنی ... قیمت به سمت قیمت تعادلی پیش می‌رود.

۱۷۹۱۰ ۹۲/۱۰ ۱۸٪ ۵۴٪

- ۱) مازاد - فزونی عرضه بر تقاضا
 ۲) کمبود - فزونی تقاضا بر عرضه
 ۳) کمبود - فزونی عرضه بر تقاضا
 ۴) مازاد - فزونی تقاضا بر عرضه
 ۲۷- با فرض این که نقاط B و C به ترتیب از چپ به راست بر روی منحنی تقاضا قرار داشته باشند، وضع نقطه‌ی B در مقایسه با نقطه‌ی C به چه صورت است؟

۱۸۲۰۴ ۹۲/۹ ۱۹٪ ۵۳٪

- ۱) قیمت: کم‌تر و مقدار تقاضا: بیش‌تر
 ۲) قیمت و مقدار تقاضا: کم‌تر
 ۳) قیمت: بیش‌تر و مقدار تقاضا: کم‌تر
 ۴) قیمت و مقدار تقاضا: بیش‌تر
 ۲۸- با توجه به جدول زیر که تقسیم‌بندی بازارها را بر اساس تعداد عرضه‌کننده و تقاضاکننده نشان می‌دهد، ساختار بازار در کدام حالت، رقابتی در خرید و فروش است؟

۱۸۲۰۴ ۹۲/۹ ۳۳٪ ۵۳٪

تعداد عرضه‌کنندگان \ تعداد تقاضاکنندگان	یک	چند
	A	B
یک	A	B
چند	C	D

A (۱)

B (۲)

C (۳)

D (۴)



۲۹- کدام گزینه مبین پاسخ صحیح است؟

- الف) خریداران در بازار انحصاری ...
 ب) انحصارگر غیرقانونی معمولاً با ... به مشتریان و رفاه جامعه ضرر می‌زند.
 ج) در کشور لبنان نیروی کار و سرمایه‌های زیادی از آن‌ها در ... کار می‌کنند.
 د) معمولاً برای مقایسه‌ی عملکرد دو کشور (مثلاً میزان صادرات آن‌ها) متغیرهای مورد مقایسه را بر ... تقسیم می‌کنند.

۱۵۸۹۳ ۹۵/۷ ۲۴٪ ۵۲٪

۱) الف) قیمت‌گذارند ب) ثبات قیمت ج) کشورشان د) تولید داخلی

۲) الف) قیمت‌گذارند ب) افزایش قیمت ج) کشورشان د) تولید ملی

۳) الف) قیمت‌پذیرند ب) ثبات قیمت ج) خارج از مرزهایشان د) تولید داخلی

۴) الف) قیمت‌پذیرند ب) افزایش قیمت ج) خارج از مرزهایشان د) تولید ملی

۳۰- در کدام گزینه پاسخ درست پرسش‌های زیر مطرح شده است؟

- الف) در هر کسب‌وکاری نوآوری ضرب در خطرپذیری، ... را نشان می‌دهد. ب) صنعت از ترکیب و تبدیل مواد ... و یا محصولات به دست آمده از ... منابع طبیعی و ایجاد ارزش مصرفی یا مبادلاتی در آن‌ها به دست می‌آید.

۱۱۲۲۹ ۹۵/۶ ۳۷٪ ۵۲٪

۱) الف) ریسک ب) احیا - حیازت

۲) الف) کارآفرینی ب) احیا - حیازت

۳) الف) کارآفرینی ب) حیازت شده - احیا

۴) الف) ریسک ب) حیازت شده - احیا

۳۱- کدام حالت مربوط به «مازاد عرضه» در بازار نیست؟

۱۶۳۷۳ ۹۳/۹ ۳۴٪ ۵۱٪

۱) این اتفاق موقعی پدید می‌آید که در بازار، قیمت از سطح «قیمت تعادلی» پایین‌تر باشد.

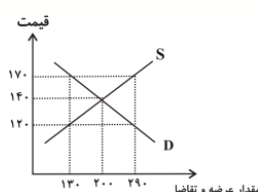
۲) در این حالت، «قیمت» کاهش می‌یابد و فاصله بین «میزان عرضه و تقاضا» کم‌تر می‌شود.

۳) با پایین آمدن قیمت، از یک سو «مصرف‌کنندگان» مقدار خرید خود را افزایش می‌دهند و از سوی دیگر، «تولیدکنندگان» از مقدار تولید خود می‌کاهند.

۴) در چنین حالتی چون گروهی از «تولیدکنندگان» موفق نمی‌شوند کالایشان را بفروشند، حاضر خواهند بود آن را با قیمتی پایین‌تر به فروش برسانند.

۳۲- با توجه به نمودار زیر، مقدار ۱۶۰ واحد مازاد عرضه، به ازای چه قیمتی ایجاد می‌شود؟

۱۲۳۸۷ ۹۳/۱ ۲۳٪ ۵۱٪



۱۲۰ (۱)

۱۷۰ (۲)

۱۴۰ (۳)

۱۵۰ (۴)

۳۳- جدول زیر عرضه و تقاضای کالایی خاص را در یک بازار معین نشان می‌دهد، در قیمت ۳۰۰ ریال به ترتیب:

عرضه (به کیلو)	۴	۱۸	۴۰	۷۴	۱۰۰
قیمت (به ریال)	۲۰۰	۳۰۰	۷۰۰	۱۲۰۰	۱۶۰۰
تقاضا (به کیلو)	۱۰۰	۷۴	۴۰	۱۸	۴

الف) قیمت به چه میزان باید تغییر کند، تا بازار به تعادل برسد؟

ب) سطح تولید به چه میزانی باید تغییر کند تا بازار به تعادل برسد؟

ج) حداکثر پرداختی مصرف‌کننده چند ریال است؟

د) میزان مازاد تقاضا نسبت به عرضه چند کیلو است؟

۱۰۵۲۶ ۹۵/۵ ۳۱٪ ۵۱٪

۱) الف) ۷۰۰ ریال افزایش، ب) ۵۶ کیلو کاهش، ج) ۱۱۱۰۰، د) ۳۴

۲) الف) ۴۰۰ ریال افزایش، ب) ۵۶ کیلو افزایش، ج) ۵۴۰۰، د) ۳۴

۳) الف) ۷۰۰ ریال کاهش، ب) ۲۲ کیلو کاهش، ج) ۱۱۱۰۰، د) ۵۶

۴) الف) ۴۰۰ ریال افزایش، ب) ۲۲ کیلو افزایش، ج) ۵۴۰۰، د) ۵۶

۳۴- جامعه‌ای را در نظر بگیرید که در آن خانمی خانه‌دار دو کیلو شکر به ارزش هر کیلو ۲۰۰ ریال خریداری کرده و با یک

کیلو از آن مربا درست می‌کند. مربا را به ارزش ۳۴۰ ریال می‌فروشد و یک کیلو شکر دیگر را برای مصارف خانگی

نگه می‌دارد. در این مثال، مجموعاً چند ریال در محاسبه‌ی تولید کل کشور منظور می‌شود؟

۱۵۳۷۳ ۹۴/۸ ۱۷٪ ۵۰٪

۳۴۰ (۴)

۲۰۰ (۳)

۵۴۰ (۲)

۵۰۰ (۱)

۳۵- کدام ویژگی در خصوص بازار انحصاری در فروش، صدق نمی‌کند؟

۱۰۵۲۶ ۹۵/۵ ۴۳٪ ۵۰٪

۲) شرایط فروشندگان به بازار تحمیل می‌شود.

۱) تعداد فروشندگان در این بازار، کم است.

۴) قیمت کالا در این بازار، بالاست.

۳) تلاش برای بهبود کیفیت کالا بسیار ضروری است.



سؤال‌های دشوار??

انتظار داریم دانش‌آموزان ترازهای ۵۰۰۰ تا ۵۵۰۰ از هر ۱۰ سوال به ۳ سوال پاسخ دهند.
انتظار داریم دانش‌آموزان ترازهای ۵۵۰۰ تا ۶۲۵۰ از هر ۱۰ سوال به ۴ (یا ۵) سوال پاسخ دهند.
انتظار داریم دانش‌آموزان ترازهای ۶۲۵۰ به بالا از هر ۱۰ سوال به بیش از ۶ سوال پاسخ دهند.

۳۶- به کدام دلیل، امروزه می‌توان در عرصه‌ی اقتصاد برای رسیدن به هدفی خاص، سیاست‌هایی را طراحی و اجرا کرد و نتایج اجرای آن‌ها را از قبل پیش‌بینی نمود؛ هم‌چنین، می‌توان با پیش‌بینی برخی مشکلاتی که ممکن است در عرصه‌ی اقتصاد بروز کند، روش‌هایی را برای جلوگیری از بروز آن‌ها طراحی کرد؟

۴۹% ۲۸% ۹۳/۷ ۱۳۵۱۹

(۱) تکیه‌ی دانشمندان اقتصاد بر مطالعات علمی

(۲) شکل‌گیری و تکامل «علم اقتصاد» و طی مراحل تکمیلی آن

(۳) کشف «ماهیت روابط علت و معلولی» بین پدیده‌های اقتصادی

(۴) استفاده از روش‌های علمی همانند سایر علوم از جمله «علوم تجربی»

۳۷- به ترتیب، در چه صورت تولید داخلی ایران برابر تولید ملی آن می‌شود و کدام فعالیت باعث افزایش تولید ناخالص داخلی ایران می‌شود؟

۴۷% ۲۳% ۹۳/۸ ۱۴۹۵۶

(۱) در صورتی که تولید ایرانیان مقیم خارج معادل تولید ایرانیان در داخل کشور باشد. / تربیت فرزندان توسط مادرشان در ایران به‌جای سپردن آن‌ها به مهدکودک

(۲) در صورتی که تولید خارجی‌های مقیم ایران معادل تولید ایرانیان مقیم خارج باشد. / افزایش فعالیت تولیدی زنان در مزرعه‌های ایران

(۳) در صورتی که تولید ایرانیان در داخل کشور معادل صفر باشد. / افزایش تولید ایرانیان مقیم خارج از کشور

(۴) در صورتی که تولید ایرانیان مقیم خارج معادل صفر باشد. / افزایش فعالیت‌های اقتصاد زیرزمینی در ایران

۳۸- کدام مورد حاصل استفاده از روش‌های علمی در مطالعات اقتصادی، شکل‌گیری و تکامل علم اقتصاد نیست؟

۴۶% ۱۷% ۹۳/۷ ۱۳۵۱۹

(۱) طراحی و اجرای سیاست‌های خاص جهت وصول به هدفی خاص

(۲) ارائه‌ی روش‌هایی برای جلوگیری از مشکلات اقتصادی

(۳) کشف ماهیت روابط علت و معلولی بین پدیده‌های اقتصادی

(۴) مطابقت نتایج حاصله با پیش‌بینی‌های اقتصادی

۳۹- کدام گزینه مبین پاسخ کامل و درست پرسش‌های زیر است؟





- الف) کالاهایی که توسط مصرف‌کنندگان نهایی خریداری می‌شوند و به مصرف می‌رسند، کالای ... نام دارند.
- ب) کالاهای تولیدی که برای تأمین نیازهای اولیه مصرف‌کنندگان مصرف می‌شوند، کالای ... نام دارند.
- ج) کالاهایی که توسط تولیدکنندگان دیگر برای ادامه‌ی فرآیند تولید و تبدیل آن‌ها به کالاهای مختلف دیگر، خریداری می‌شوند، کالای ... نام دارند.
- د) کالاهای مصرفی که خودشان مصرف نمی‌شوند بلکه در طول زمان خدمات ارائه‌شده از سوی آن‌ها در فرآیند تولید و توسط بنگاه‌های تولیدی مورد مصرف قرار می‌گیرد، کالای ... نام دارند.
- ه) کالاهای تولیدی که برای تأمین نیازهای کم‌اهمیت‌تر مصرف‌کنندگان مصرف می‌شوند، کالای ... نام دارند.
- و) کالاهای مصرفی که خودشان مصرف نمی‌شوند بلکه در طول زمان خدمات ارائه‌شده از سوی آن‌ها توسط مصرف‌کنندگان مورد مصرف قرار می‌گیرد، کالای ... نام دارند.

 ۴۴%  ۲۱%  ۹۴/۹  ۱۶۶۲۹

- ۱) الف) ضروری، ب) لوکس، ج) بادوام، د) سرمایه‌ای، ه) لوکس، و) سرمایه‌ای
- ۲) الف) ضروری، ب) لوکس، ج) بادوام، د) بادوام، ه) ضروری، و) لوکس
- ۳) الف) مصرفی، ب) ضروری، ج) واسطه‌ای، د) بادوام، ه) ضروری، و) ضروری
- ۴) الف) مصرفی، ب) ضروری، ج) واسطه‌ای، د) سرمایه‌ای، ه) لوکس، و) بادوام

۴۰- کدام گزینه مبین پاسخ صحیح پرسش‌های زیر است؟

- الف) تراکتور برای کشاورز و کامیون برای شرکت‌های حمل‌ونقل، سرمایه‌های ... است.
- ب) انسان محصول آماده‌ی طبیعت را مستقیماً برداشت می‌کند بدون اینکه کاری روی آن انجام دهد که به این کار ... می‌گویند.
- ج) محصولاتی که نوع سوم تولید هستند ... به شمار می‌روند که به آن‌ها ... هم می‌گویند.
- د) هر مؤسسه‌ای بر روی محصول مؤسسه‌ی قبلی کار، و ... ایجاد می‌کند.

 ۴۴%  ۱۸%  ۹۵/۸  ۱۵۲۱۳

- ۱) الف) مالی ب) حیازت ج) صنعت - خدمات د) سرمایه
- ۲) الف) فیزیکی ب) حیازت ج) محصولات نرم - خدمات د) ارزش افزوده
- ۳) الف) فیزیکی ب) احیا ج) محصولات نرم - خدمات د) سرمایه
- ۴) الف) مالی ب) احیا ج) صنعت - محصولات نرم د) ارزش افزوده

۴۱- پاسخ درست و کامل پرسش‌های زیر در کدام «گزینه» مطرح شده است؟

- الف) اگر اثر تغییرات قیمت را در محاسبه‌ی تولید کل از بین نبریم شاخص ... به دست می‌آید.
- ب) در کدام یک از روش‌های «محاسبه تولید کل جامعه»، ارزش پولی تولیدات نهایی فروخته شده به خانوار را جمع می‌زنیم؟
- ج) نحوه‌ی تصمیم‌گیری و اقدام تولیدکنندگان و نیز واکنش آن‌ها نسبت به تغییرات وضعیت اقتصادی با عنوان ... شناخته می‌شود.

 ۴۴%  ۱۹%  ۹۴/۳  ۱۵۱۷۶

- ۱) الف) تولید کل به قیمت جاری، ج) روش ارزش‌افزوده، د) بازار
- ۲) الف) تولید کل به قیمت جاری، ج) روش هزینه، د) رفتار اقتصادی
- ۳) الف) تولید کل به قیمت ثابت، ج) روش ارزش‌افزوده، د) بازار
- ۴) الف) تولید کل به قیمت ثابت، ج) روش هزینه، د) رفتار اقتصادی



۴۲- در چهار کشور فرضی A، B، C و D، به ترتیب، میزان درآمد ملی در سال جاری برابر با ۵۰۰۰، ۴۰۰۰، ۲۰۰۰ و ۱۲۰۰۰ میلیون ریال است. اگر جمعیت این کشورها در همان سال، به ترتیب، برابر با ۱۰، ۲۰، ۵ و ۴۰۰ میلیون نفر باشد، به ترتیب از راست به چپ، سطح زندگی و رفاه مردم در کدام کشورها در سال جاری بدترین و بهترین وضعیت را داشته است؟

۱۴۸۸۹ ۹۳/۲ ۲۱٪ ۴۲٪

D - C (۴)

D - A (۳)

A - D (۲)

C - D (۱)

۴۳- کدام یک از موارد زیر G.N.P محاسباتی را افزایش نمی‌دهد؟

۱۵۶۹۷ ۹۲/۸ ۲۸٪ ۴۱٪

(۱) افزایش تمایل زنان خانه‌دار به سپردن نوزاد به مهدکودک

(۲) افزایش تمایل والدین برای فرستادن فرزندان خود به کلاس‌های تقویتی به جای مطالعه در خانه

(۳) کاهش تمایل به خوردن غذا در خارج از خانه

(۴) افزایش تمایل به شرکت در کلاس‌های موسیقی نزد مردم

۴۴- در صورتی که در یک کارگاه اقتصادی درآمد برابر با ۷۰۰,۰۰۰ ریال باشد و سود حسابداری برابر با ۲۹۵,۰۰۰ ریال شود، هزینه‌های مستقیم تولید را به دست آورید؟ همچنین پیدا کنید در صورتی که هزینه‌ی فرصت برابر ۵۲,۰۰۰ ریال شود، سود اقتصادی یا سود ویژه کدام است؟

۱۵۶۶۴ ۹۵/۹ ۱۵٪ ۴۱٪

(۱) هزینه‌های مستقیم تولید : ۴۰۵,۰۰۰ - سود اقتصادی : ۳۶۳,۰۰۰

(۲) هزینه‌های مستقیم تولید : ۳۹۵,۰۰۰ - سود اقتصادی : ۳۵۳,۰۰۰

(۳) هزینه‌های مستقیم تولید : ۴۰۵,۰۰۰ - سود اقتصادی : ۳۵۳,۰۰۰

(۴) هزینه‌های مستقیم تولید : ۳۹۵,۰۰۰ - سود اقتصادی : ۳۶۳,۰۰۰

۴۵- اگر فردی به جای کاشت جو در زمینی که در اختیار دارد به کاشت گندم بپردازد، یا به جای رفتن سرکلاس‌های آموزشی و دانشی که می‌توانست کسب کند به کار بر روی زمین مشغول شود، کدام گزینه در مورد هزینه‌ی فرصت این فرد درست است؟

۱۰۵۲۶ ۹۵/۵ ۱۷٪ ۴۰٪

(۱) هزینه‌ی فرصت کاشت جو، دانشی است که فرد از رفتن به کلاس‌های آموزشی می‌توانست کسب کند.

(۲) هزینه‌ی فرصت کاشت جو، میزانی از محصول گندم است که فرد از آن صرف‌نظر کرده است.

(۳) هزینه‌ی فرصت کار بر روی زمین، میزان دانشی است که فرد از آن صرف‌نظر کرده است.

(۴) هزینه‌ی فرصت کاشت گندم، میزان درآمدی است که فرد با کار کردن بر روی زمین از آن صرف‌نظر کرده است.

۴۶- در کدام دسته از کشورها عملاً شاخص تولید ناخالص داخلی از شاخص تولید ناخالص ملی بیش‌تر است؟

۱۵۳۲۳ ۹۴/۸ ۲۱٪ ۳۶٪

(۱) کشورهای سرمایه‌گذار و سرمایه‌پذیر خارجی

(۲) کشورهایی که نیروی کار و سرمایه‌های زیادی از آن‌ها در خارج از مرزهایشان کار می‌کنند.

(۳) کشورهایی که مهاجرت‌پذیری بسیار و ورود سرمایه‌ی بالایی به کشور دارند.

(۴) کشورهای سرمایه‌پذیر با نیروی کار بالای مهاجر به خارج از مرزهای کشور

۴۷- با توجه به اطلاعات داده‌شده مربوط به یک بنگاه اقتصادی در سال ۱۳۹۲، وضعیت بنگاه در این سال چگونه بوده است؟

الف) خرید ماشین‌آلات: ۵۰۰ میلیون ریال




ب) اجاره‌ی کارگاه: ۲۸ میلیون ریال

ج) پرداخت حقوق: ۱۳۶ میلیون ریال

د) خرید مواد اولیه: ۷۲ میلیون ریال

ه) درآمد ناشی از فروش محصول: ۷۴۵ میلیون ریال

و) هزینه‌ی تحصیل فرزندان مدیر بنگاه: ۲۱ میلیون ریال

۱۵۹۴۷  ۹۳/۱۱  ۱۳٪  ۳۶٪ 

۲) ۹ میلیون ریال ضرر کرده است.

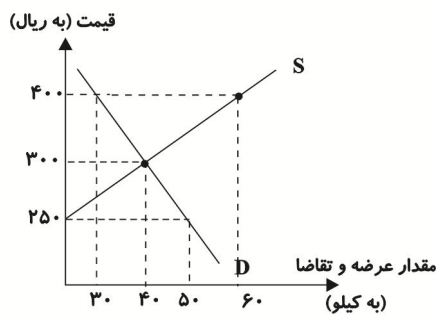
۱) ۱۲ میلیون ریال سود برده است.

۴) ۹ میلیون ریال سود برده است.

۳) ۱۲ میلیون ریال ضرر کرده است.

۴۸- میزان عرضه و تقاضای کالای X در دستگاه محورهای مختصات

زیر آورده شده است:







الف) در قیمت ۴۰۰ ریال، چه نوع مازاد یا کمبودی در بازار وجود دارد، میزان آن چه قدر است و چه فشاری را در بازار به وجود می‌آورد؟

ب) در قیمت ۲۵۰ ریال، چه نوع مازاد یا کمبودی در بازار وجود دارد، میزان آن چه قدر است و قیمت چه تغییری باید پیدا کند تا بازار به تعادل برسد؟

ج) با فرض ثابت ماندن سایر عوامل مؤثر بر خرید کالا، اگر درآمد مصرف‌کنندگان افزایش یابد، در قیمت ۴۰۰ ریال چه میزان تقاضا خواهند داشت؟

د) با فرض ثابت ماندن سایر عوامل مؤثر در تصمیم تولیدکنندگان در مورد میزان تولید یک کالا، اگر هزینه‌ی تولید کاهش یابد، تولیدکنندگان در قیمت ۴۰۰ ریال چه میزان کالا تولید خواهند کرد؟

۱۴۵۵۶  ۹۴/۱۰  ۱۹٪  ۳۴٪ 

۱) الف) مازاد عرضه، ۳۰ کیلو، فشار برای کاهش قیمت، ب) کمبود عرضه، ۵۰ کیلو، ۵۰ ریال افزایش، ج) کم‌تر از ۳۰ کیلو، د) کم‌تر از ۶۰ کیلو

۲) الف) کمبود تقاضا، ۳۰ کیلو، فشار برای کاهش قیمت، ب) مازاد عرضه، ۲۰ کیلو، ۳۰۰ ریال افزایش، ج) ۳۰ کیلو، د) ۶۰ کیلو

۳) الف) کمبود عرضه، ۵۰ کیلو، فشار برای افزایش قیمت، ب) مازاد تقاضا، ۲۰ کیلو، ۳۰۰ ریال کاهش، ج) ۳۰ کیلو، د) ۶۰ کیلو

۴) الف) مازاد عرضه، ۳۰ کیلو، فشار برای کاهش قیمت، ب) مازاد تقاضا، ۵۰ کیلو، ۵۰ ریال افزایش، ج) بیش از ۳۰ کیلو، د) بیش از ۶۰ کیلو



۴۹- میزان تولید ناخالص افراد تابع کشور A در سال ۲۰۱۶ حدود $\frac{3}{5}$ بوده است. میزان تولیدات ناخالص افرادی که در تمامیت ارضی این کشور فعالیت داشتند نیز حدود $\frac{2}{9}$ دلار بوده است. میزان تولید ناخالص افرادی که تابع این کشور هستند و در خارج از محدوده‌ی مرزهای آن زندگی می‌کنند، در کدام گزینه بیان شده است؟ (GNP) این کشور بیش‌تر است یا (GDP) آن؟

۱۲۵۷۱ ۹۴/۶ ۱۹٪ ۳۲٪

(۲) GDP - دلار ۶۰۰/۰۰۰/۰۰۰

(۱) GDP - دلار ۷۰۰/۰۰۰/۰۰۰

(۴) GNP - دلار ۷۰۰/۰۰۰/۰۰۰

(۳) GNP - دلار ۶۰۰/۰۰۰/۰۰۰

۵۰- تولیدکننده‌ای طی یک سال فعالیت خود، مخارج زیر را متحمل شده و در نهایت ۵۰۰ واحد کالا با قیمت هر واحد ۱,۷۰۰,۰۰۰ ریال تولید کرده و به بازار عرضه داشته است؛ کدام‌یک از موارد زیر بیانگر وضعیت این تولیدکننده در سال گذشته می‌باشد؟

مواد اولیه: ۱۵۰,۰۰۰,۰۰۰ ریال

هزینه‌ی آب و برق و گاز: ۵۰,۰۰۰,۰۰۰ ریال

دستمزد کارگران ۲۰۰,۰۰۰,۰۰۰ ریال

هزینه‌ی خرید ماشین‌آلات: ۵۰۰,۰۰۰,۰۰۰ ریال

۱۵۶۹۷ ۹۲/۸ ۱۶٪ ۳۱٪

(۲) ۱۵۰ میلیون ریال سود برده است.

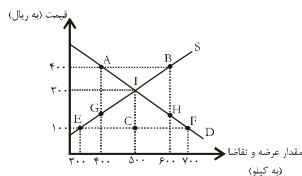
(۱) ۵۰ میلیون ریال سود برده است.

(۴) ۵۰ میلیون ریال ضرر کرده است.

(۳) ۱۵۰ میلیون ریال ضرر کرده است.

۵۱- در شکل زیر در قیمت‌های ۴۰۰ و ۱۰۰ ریال، به ترتیب ... و ... داریم و قیمت تعادلی در نقطه‌ی ... است.

۱۶۳۷۲ ۹۳/۹ ۱۸٪ ۳۱٪



(۱) مازاد عرضه (AG) - مازاد تقاضا (EG) - I

(۲) مازاد عرضه (EF) - کمبود تقاضا (AB) - C

(۳) مازاد عرضه (AB) - مازاد تقاضا (EF) - I

(۴) کمبود عرضه (FH) - کمبود عرضه (EF) - I

۵۲- در کشوری کالاهای زیر در مدت یک‌سال تولید شده است. با توجه به ارزش کالاهای مذکور و داده‌های دیگر، به ترتیب (از راست به چپ): الف) تولید خالص داخلی چند میلیارد ریال، ب) تولید ناخالص داخلی چند میلیارد ریال و ج) تولید خالص داخلی سرانه در این کشور چند ریال است؟ (جمعیت کل کشور: ۵۰ میلیون نفر)

A	ارزش ماشین‌آلات	۹۶ میلیارد ریال
B	ارزش مواد غذایی	۶۰ میلیارد ریال
C	خدمات ارائه‌شده	$\frac{1}{4}$ ارزش ماشین‌آلات
D	هزینه‌ی استهلاک	$\frac{1}{3}$ ارزش مواد غذایی
E	ارزش کالاهای واسطه‌ای به‌کار رفته در تولید ماشین‌آلات	۲۵ میلیارد ریال

۱۳۵۱۹ ۹۲/۷ ۱۴٪ ۳۱٪

(۲) ۲۰۵ - ۱۸۵ - ۴,۱۰۰




(۱) ۱۸۵ - ۲۰۵ - ۴,۱۰۰

(۴) ۱۸۰ - ۱۶۰ - ۳,۲۰۰

(۳) ۱۶۰ - ۱۸۰ - ۳,۲۰۰

۵۳- در یک جامعه‌ی فرضی «میزان تولیدکل» در طی سال‌های متوالی، به‌ترتیب در سال اول ۵۰۰۰، سال دوم ۵۳۰۰ و سال سوم ۵۷۵۰ هزار میلیارد ریال بوده است. با انتخاب سال اول به عنوان «سال پایه»، میزان تولید کل این جامعه در سه سال مورد نظر برحسب قیمت‌های سال اول (سال پایه) به‌ترتیب به ۵۰۰۰، ۵۲۱۰ و ۵۴۲۰ هزار میلیارد ریال تغییر یافته است. بر اساس این اطلاعات:





الف) افزایش مقدار تولید در سال سوم نسبت به سال اول (ب) افزایش قیمت‌ها در سال سوم نسبت به سال اول و (ج) عدد نشان‌دهنده‌ی پدیده‌ی تورم در سال دوم به‌ترتیب (از راست به چپ) چند هزار میلیارد ریال است؟

۱۴۴۵۴  ۹۲/۷  ۲۱٪  ۳۰٪ 

(۱) ۳۰۰-۹۰-۴۲۰ (۲) ۳۳۰-۴۲۰-۳۰۰ (۳) ۹۰-۳۳۰-۴۲۰ (۴) ۴۲۰-۳۳۰-۹۰

۵۴- به‌فرض چنان‌چه، کشاورزان هر کیلوگرم «پنبه‌ی تولیدی» خود را به ارزش ۵,۵۰۰ ریال به کارگاه‌های ریسندگی بفروشند، «کارگاه‌های ریسندگی» این مقدار پنبه را به مقداری «نخ» تبدیل کرده و به ارزش ۷,۵۰۰ ریال به کارگاه‌های «پارچه‌بافی» می‌فروشند. در کارگاه‌های پارچه‌بافی «نخ» به «پارچه» تبدیل شده و به مبلغ ۸,۲۰۰ ریال به کارگاه‌های «تولید پوشاک» فروخته می‌شود. در این کارگاه‌ها پارچه به «پوشاک» تبدیل می‌شود و به مبلغ ۱۶,۰۰۰ ریال به دست مصرف‌کنندگان می‌رسد. با توجه به این «داده‌ها و ستاده‌ها»:

الف) به‌ترتیب از راست به چپ ارزش افزوده‌ی مرحله‌ی دوم و مرحله‌ی چهارم کدام است؟ (ب) عنوان دیگر این روش محاسبه‌ی «ارزش کل کالاها و خدمات» چیست؟ (ج) محاسبه‌ی آن مقدار پول که نشان دهنده‌ی «ارزش کل کالاها و خدماتی» است که «خانوارها» خریداری و مصرف کرده‌اند و همچنین محاسبه‌ی «کل پولی» که از طرف «خانوارها» به سمت «بنگاه‌های اقتصادی» جریان پیدا می‌کند، مربوط به چه روش‌های محاسبه‌ی «تولید کل جامعه» است؟ (د) برای اجتناب از اشتباه در محاسبه‌ی «ارزش کل کالاها و خدمات نهایی» از دید کارشناسان اقتصادی، توسل به چه اقدامی ضروری است؟

۱۵۳۲۳  ۹۴/۸  ۱۷٪  ۲۹٪ 

(۱) الف) ۵,۵۰۰ و ۷۰۰ (ب) روش «هزینه‌ای»، (ج) روش درآمدی - روش هزینه‌ای، (د) از دو روش «درآمدی» و «روش تولید» توأم استفاده می‌کنند.

(۲) الف) ۲,۰۰۰ و ۷,۸۰۰ (ب) روش «تولید»، (ج) روش هزینه‌ای - روش درآمدی، (د) از دو روش «ارزش افزوده و هزینه‌ای» توأم استفاده می‌کنند.

(۳) الف) ۵,۵۰۰ و ۷۰۰ (ب) روش «هزینه‌ای»، (ج) روش درآمدی - روش درآمدی، (د) حداقل دو روش را برای محاسبه به‌کار می‌گیرند و جواب‌ها را مقایسه می‌کنند.

(۴) الف) ۲,۰۰۰ و ۷,۸۰۰ (ب) روش «تولید»، (ج) روش هزینه‌ای - روش هزینه‌ای، (د) حداقل دو روش را برای محاسبه به‌کار می‌گیرند و جواب‌ها را مقایسه می‌کنند.