

راهنمای استفاده از کتاب

برای کسب بهترین نتیجه در امتحانات مدرسه و کنکور گام‌های زیر را به ترتیب برای هر فصل طی کنید.

فیلم آموزشی

گام

اول

۱. هر فصل به تعدادی جلسه تقسیم شده است.
۲. برای استفاده از فیلم‌های آموزشی هر جلسه QR-Code های صفحه بعد را اسکن کنید.
۳. در هر جلسه مطالب کتاب درسی درس به درس تدریس شده است.
۴. تمرین‌ها و فعالیت‌های کتاب درسی به صورت کامل تدریس شده است.

درسنامه آموزشی

گام

دوم

۱. هر فصل به تعدادی قسمت تقسیم شده است.
۲. در هر قسمت آموزش کاملی به همراه مثال و تست ارائه شده است.
۳. سطح تست‌ها عموماً کمی بالاتر از مثال‌ها است. اگر دانش آموز وقت کافی ندارد یا می‌خواهد فقط در سطح امتحانات مدرسه درسی بخواند، می‌تواند بدون این‌که مطلبی را از دست دهد از تست‌ها عبور کند.
۴. قسمت‌هایی تحت عنوان ویژه علاقمندان آورده شده است که ویژه آمادگی برای آزمون‌های تستی و کنکور است و مطالعه آن‌ها برای امتحانات مدارس ضروری نیست.

پرسش‌های تشریحی

گام

سوم

۱. هر فصل به تعدادی قسمت (دقیقاً منطبق بر قسمت‌بندی گام دوم) تقسیم شده است.
۲. سوالات از ساده به دشوار و موضوعی مرتب شده‌اند.
۳. سوالات دارای پاسخ تشریحی هستند.

پرسش‌های چهارگزینه‌ای

گام

چهارم

۱. هر فصل به تعدادی قسمت (دقیقاً منطبق بر قسمت‌بندی گام دوم و سوم) تقسیم شده است.
۲. هر قسمت نیز دارای ریز طبقه‌بندی است.
۳. تست‌ها از ساده به دشوار و موضوعی مرتب شده‌اند.
۴. تمامی تست‌های کنکور داخل و خارج از کشور قابل استفاده و منطبق بر کتاب درسی جدید آورده شده است.
۵. تست‌های واجب‌باعتبار شماره **❖** و **❖** مشخص شده‌اند که از میان آن‌ها تست‌های دارای علامت **❖** برای مرور و جمع‌بندی هستند.
۶. تست‌ها دارای پاسخ تشریحی هستند.

به جای آن‌که چندین کتاب بخوانید، کتاب‌های گاج را چندین بار بخوانید

درسنامه آموزشی

فصل اول: آشنایی با مبانی ریاضیات

- قسمت اول: آشنایی با منطق ریاضی و گزاره‌ها ۱۰
- قسمت دوم: ترکیب شرطی، ترکیب دو شرطی و سورها ۱۶
- قسمت سوم: مجموعه و زیرمجموعه ۲۴
- قسمت چهارم: قوانین و اعمال بین مجموعه‌ها (جبر مجموعه‌ها) ۳۳
- قسمت پنجم: ضرب دکارتی ۴۱

فصل دوم: احتمال

- قسمت اول: مبانی احتمال ۴۸
- قسمت دوم: احتمال غیر هم‌شانس ۵۹
- قسمت سوم: احتمال شرطی ۶۲
- قسمت چهارم: پیشامدهای مستقل و وابسته ۷۰

فصل سوم: آمار توصیفی

- قسمت اول: توصیف و نمایش داده‌ها ۷۸
- قسمت دوم: معیارهای گرایش به مرکز ۸۳
- قسمت سوم: معیارهای پراکندگی ۸۹

فصل چهارم: آمار استنباطی

- قسمت اول: جامعه آماری و نمونه ۹۶
- قسمت دوم: برآورد ۱۰۴

FILM

فصل اول: آشنایی با مبانی ریاضیات (۷ ساعت و ۵۱ دقیقه)

- جلسه اول: آشنایی با منطق ریاضی و گزاره‌ها، ترکیب شرطی و دوشرطی 120 min
- جلسه دوم: سورها 77 min
- جلسه سوم: مجموعه و زیرمجموعه 91 min
- جلسه چهارم: قوانین و اعمال بین مجموعه‌ها (جبر مجموعه‌ها) 91 min
- جلسه پنجم: ضرب دکارتی 92 min

فصل دوم: احتمال (۸ ساعت و ۵۶ دقیقه)

- جلسه ششم: مبانی احتمال 120 min
- جلسه هفتم: احتمال غیر هم‌شانس 44 min
- جلسه هشتم و نهم: احتمال شرطی 295 min
- جلسه دهم: پیشامدهای مستقل و وابسته 77 min

فصل سوم: آمار توصیفی (۳ ساعت)

- جلسه یازدهم: توصیف و نمایش داده‌ها 67 min
- جلسه دوازدهم: معیارهای گرایش به مرکز 58 min
- جلسه سیزدهم: معیارهای پراکندگی 55 min

فصل چهارم: آمار استنباطی (۴ ساعت و ۳۶ دقیقه)

- جلسه چهاردهم: جامعه آماری و نمونه 132 min
- جلسه پانزدهم و شانزدهم: برآورد 144 min

پرسش‌های چهارگزینه‌ای

فصل اول: آشنایی با مبانی ریاضیات

- قسمت اول: آشنایی با منطق ریاضی و گزاره‌ها ۱۱۳
- قسمت دوم: ترکیب شرطی، ترکیب دو شرطی و سورها ۱۱۴
- قسمت سوم: مجموعه و زیرمجموعه ۱۱۸
- قسمت چهارم: قوانین و اعمال بین مجموعه‌ها (جبر مجموعه‌ها) ۱۲۰
- قسمت پنجم: ضرب دکارتی ۱۲۴

فصل دوم: احتمال

- قسمت اول: مبانی احتمال ۱۴۳
- قسمت دوم: احتمال غیر هم‌شانس ۱۴۸
- قسمت سوم: احتمال شرطی ۱۴۹
- قسمت چهارم: پیشامدهای مستقل و وابسته ۱۵۶

فصل سوم: آمار توصیفی

- قسمت اول: توصیف و نمایش داده‌ها ۱۸۸
- قسمت دوم: معیارهای گرایش به مرکز ۱۹۲
- قسمت سوم: معیارهای پراکندگی ۱۹۵

فصل چهارم: آمار استنباطی

- قسمت اول: جامعه آماری و نمونه ۲۱۳
- قسمت دوم: برآورد ۲۱۵

پرسش‌های تشریحی

فصل اول: آشنایی با مبانی ریاضیات

- قسمت اول: آشنایی با منطق ریاضی و گزاره‌ها ۲۲۵
- قسمت دوم: ترکیب شرطی، ترکیب دو شرطی و سورها ۲۲۷
- قسمت سوم: مجموعه و زیرمجموعه ۲۲۸
- قسمت چهارم: قوانین و اعمال بین مجموعه‌ها (جبر مجموعه‌ها) ۲۲۹
- قسمت پنجم: ضرب دکارتی ۲۳۰

فصل دوم: احتمال

- قسمت اول: مبانی احتمال ۲۴۳
- قسمت دوم: احتمال غیر هم‌شانس ۲۴۴
- قسمت سوم: احتمال شرطی ۲۴۵
- قسمت چهارم: پیشامدهای مستقل و وابسته ۲۴۸

فصل سوم: آمار توصیفی

- قسمت اول: توصیف و نمایش داده‌ها ۲۶۱
- قسمت دوم: معیارهای گرایش به مرکز ۲۶۳
- قسمت سوم: معیارهای پراکندگی ۲۶۴

فصل چهارم: آمار استنباطی

- قسمت اول: جامعه آماری و نمونه ۲۷۲
- قسمت دوم: برآورد ۲۷۳

فصل ۲

قسمت سوم

احتمال شرطی

احتمال شرطی (کاهش فضای نمونه)

در بعضی مواقع ممکن است به ما اطلاعاتی بدهند که این اطلاعات در احتمال وقوع پشامد مورد نظر ما مؤثر باشد. به عنوان مثال، در پرتاب یک تاس احتمال وقوع عدد ۲ برابر $\frac{1}{6}$ است. اما اگر بدانیم عدد رو شده عددی اول است، در واقع عدد ظاهر شده یکی از اعداد ۲ یا ۳ یا ۵ (۳ حالت) می‌باشد، در این صورت احتمال وقوع عدد ۲ برابر $\frac{1}{3}$ خواهد بود. پس گاهی اوقات وقوع یک پشامد بر احتمال وقوع پشامد دیگر تأثیر می‌گذارد.

احتمال شرطی: کاهش فضای نمونه

در حالتی که فضای احتمال، هم‌پاس است شرطی کردن یک پشامد نسبت به پشامد B مثل این است که فضای نمونه، یعنی S را کنار گذاشته و B را فضای نمونه در نظر بگیریم. احتمال روی این فضای نمونه نیز هم‌پاس است. به این رویکرد «کاهش فضای نمونه» گفته می‌شود.

محاسبه احتمال شرطی در فضاهای نمونه‌ای هم‌پاس

در محاسبه احتمال شرطی، همه حالت‌های ممکن برابر همه حالت‌هایی است که در آن‌ها B رخ داده است. در واقع B فضای نمونه‌ای جدید ما خواهد بود و تمام حالت‌های مطلوب، همه حالت‌هایی از B است که در A باشند.

در فضای نمونه‌ای هم‌پاس داریم:

$$P(A|B) = \frac{n(A \cap B)}{n(B)}$$

در حل مسائل احتمال شرطی، پشامد B (پشامدی که می‌دانیم رخ داده است) را به عنوان فضای نمونه‌ای جدید در نظر می‌گیریم و اعضای پشامد A را در فضای نمونه‌ای جدید مشخص می‌کنیم (در واقع $A \cap B$) و سپس احتمال را در فضای نمونه‌ای جدید به دست می‌آوریم.

مثال ۱: در پرتاب دو تاس با هم، اگر مجموع دو عدد رو شده کمتر از ۶ باشد، احتمال آن‌که هر دو عدد رو شده زوج باشد را به دست آورید.

پاسخ: فضای نمونه‌ای پرتاب دو تاس (بدون هیچ شرطی)، $6 \times 6 = 36$ عضو به صورت زیر دارد:

$$S = \{(1,1), (1,2), \dots, (1,6), (2,1), \dots, (2,6), \dots, (6,1), \dots, (6,6)\}$$

طبق فرض، مجموع دو عدد رو شده کمتر از ۶ است، پس همه حالت‌های ممکن، تمام زوج‌مرتبه‌هایی از S است که مجموع آن‌ها کمتر از ۶ باشد.

$$B = \{(1,1), (1,2), (1,3), (1,4), (2,1), (2,2), (2,3), (3,1), (3,2), (4,1)\} \Rightarrow n(B) = 10$$

حالت‌های مطلوب، همه حالت‌هایی از B (فضای نمونه‌ای جدید) است که هر دو عدد رو شده زوج باشند. اگر A پشامد مطلوب باشد، آن‌گاه:

$$A \cap B = \{(2,2)\} \Rightarrow n(A \cap B) = 1 \Rightarrow P(A|B) = \frac{n(A \cap B)}{n(B)} = \frac{1}{10}$$

تکراهی: در حل مثال قبل، نیازی به نوشتن فضای نمونه‌ای S نداریم، اما باید از روی S، پشامد B را مشخص کنیم.

مثال ۲: یک تاس را سه بار پرتاب می‌کنیم، اگر هر سه عدد رو شده زوج باشند، احتمال آن‌که هیچ‌یک از اعداد رو شده ۶ نباشند، کدام است؟

$$\frac{4}{9} \quad (1)$$

$$\frac{10}{27} \quad (2)$$

$$\frac{1}{3} \quad (3)$$

$$\frac{8}{27} \quad (4)$$

پاسخ: اگر B پشامد زوج بودن عدد رو شده در هر سه پرتاب تاس باشد، آن‌گاه عدد رو شده در هر پرتاب یکی از سه عدد زوج است و در نتیجه:

$$n(B) = 3 \times 3 \times 3 = 27$$

اگر A پشامدی باشد که هیچ‌یک از سه عدد رو شده ۶ نباشد، آن‌گاه در هر حالت یکی از دو عدد ۲ یا ۴ رو شده است (می‌دانیم عدد رو شده زوج است).

$$\Rightarrow n(A \cap B) = 2 \times 2 \times 2 = 8 \Rightarrow P(A|B) = \frac{n(A \cap B)}{n(B)} = \frac{8}{27} \Rightarrow \text{گزینه (4) صحیح است.}$$

مسئله

در پرتاب دو تاس، اگر حداقل یکی از اعداد رو شده ۵ باشد، با چه احتمالی عدد ۲ ظاهر می‌شود؟

پاسخ: اگر B پیشامد رو شدن حداقل یکی از اعداد ۵ در پرتاب دو تاس باشد، آن‌گاه:

$$B = \{(1,5), (2,5), (3,5), (4,5), (5,5), (6,5), (5,1), (5,2), (5,3), (5,4), (5,6)\} \Rightarrow n(B) = 11$$

$$A \cap B = \{(2,5), (5,2)\} \Rightarrow n(A \cap B) = 2 \Rightarrow P(A|B) = \frac{n(A \cap B)}{n(B)} = \frac{2}{11}$$

اگر A پیشامد ظاهر شدن عدد ۲ باشد، آن‌گاه:

در یک خانواده با سه فرزند، اگر فرزند اول پسر باشد، با چه احتمالی این خانواده دقیقاً ۲ فرزند پسر دارد؟ (مشاهده کنید: اصفه ۱۳۴ کتاب نسیان)

پاسخ: فضای نمونه‌ای جنسیت فرزندان یک خانواده با سه فرزند، A عضو دارد. اگر B پیشامدی باشد که در آن، فرزند اول پسر باشد، آن‌گاه:

$$B = \{(پ, پ, پ), (پ, پ, د), (پ, د, پ), (د, پ, پ), (د, پ, د), (د, د, پ), (د, د, د)\} \Rightarrow n(B) = 4$$

اگر A پیشامدی باشد که در آن، خانواده دقیقاً ۲ فرزند پسر داشته باشد، آن‌گاه:

$$A \cap B = \{(پ, د, پ), (د, پ, پ)\} \Rightarrow n(A \cap B) = 2 \Rightarrow P(A|B) = \frac{n(A \cap B)}{n(B)} = \frac{2}{4} = \frac{1}{2}$$

مسئله

از بین ۵ دانش‌آموز رشته تجربی و ۳ دانش‌آموز رشته ریاضی، سه نفر به تصادف انتخاب شده‌اند. اگر حداقل دو دانش‌آموز رشته تجربی در بین انتخاب‌شدگان باشند، با کدام احتمال دقیقاً دو نفر از انتخاب‌شدگان از رشته تجربی می‌باشند؟

پاسخ: می‌دانیم از بین ۳ نفر انتخاب‌شده، حداقل ۲ نفر آنان از رشته تجربی هستند، بنابراین اگر B پیشامدی باشد که رخ داده باشد (حداقل دو دانش‌آموز رشته تجربی، بین انتخاب‌شدگان وجود دارند)، آن‌گاه:

$$n(B) = \binom{5}{2} \binom{3}{1} + \binom{5}{3} = 10 \times 3 + 10 = 40$$

اگر A پیشامدی باشد که در آن دقیقاً دو نفر از انتخاب‌شدگان از رشته تجربی باشند، آن‌گاه:

$$A \cap B = \{(پ, پ, ر), (پ, ر, پ), (ر, پ, پ)\} \Rightarrow n(A \cap B) = 3 \Rightarrow P(A|B) = \frac{n(A \cap B)}{n(B)} = \frac{3}{40} = \frac{3}{4}$$

مسئله

اعداد ۱ تا ۸ را روی هشت کارت نوشته و سه کارت را به تصادف انتخاب می‌کنیم. مطلوب است احتمال این‌که دقیقاً ۲ کارت با شماره زوج باشد به شرط این‌که مجموع آن‌ها فرد باشد.

پاسخ: اگر B (شرط) پیشامد آن باشد که مجموع ۳ عدد انتخاب‌شده فرد و A (پیشامد مطلوب) پیشامد آن باشد که دقیقاً ۲ کارت با شماره زوج انتخاب‌شده باشد، آن‌گاه داریم:

انتخاب ۳ عدد فرد از ۴ عدد فرد

$$n(B) = \binom{4}{3} + \binom{4}{2} \binom{4}{1} = 4 + 6 \times 4 = 28$$

(اگر هر سه عدد فرد یا دو عدد زوج و دیگری فرد باشد، آن‌گاه جمع سه عدد فرد است.)

انتخاب ۲ عدد زوج و یک عدد فرد

در این صورت $A \cap B$ پیشامدی است که باید دو عدد زوج و یک عدد فرد انتخاب شود، داریم:

$$n(A \cap B) = \binom{4}{2} \binom{4}{1} = 24 \Rightarrow P(A|B) = \frac{n(A \cap B)}{n(B)} = \frac{24}{28} = \frac{6}{7}$$

مسئله

از ۹ کلید درون کیسه‌ای، ۴ تای آن‌ها طلایی‌رنگ است، قفل داریم که فقط با کلیدهای طلایی‌رنگ باز می‌شود. اگر به تصادف دو کلید از این کیسه خارج کنیم و بتوان قفل را باز کرد، با چه احتمالی با هر دو کلید می‌توان قفل را باز کرد؟

$$\frac{3}{13} \quad (۴)$$

$$\frac{5}{13} \quad (۳)$$

$$\frac{3}{10} \quad (۲)$$

$$\frac{7}{26} \quad (۱)$$

پاسخ: اگر حداقل یکی از دو کلید طلایی‌رنگ باشد، آن‌گاه می‌توان قفل را باز کرد. پس اگر B پیشامد آن باشد که حداقل یکی از دو کلید

$$n(B) = \binom{4}{1} \binom{5}{1} + \binom{4}{2} = 4 \times 5 + 6 = 26$$

انتخاب‌شده، طلایی‌رنگ باشد، آن‌گاه داریم:

اگر A پیشامدی باشد که بتوان با هر دو کلید قفل را باز کرد، آن‌گاه A پیشامدی است که در آن هر دو کلید انتخاب‌شده طلایی‌رنگ می‌باشند، بنابراین داریم:

$$n(A \cap B) = \binom{4}{2} = 6 \Rightarrow P(A|B) = \frac{n(A \cap B)}{n(B)} = \frac{6}{26} = \frac{3}{13}$$

گزینه (۴) صحیح است.

تعریف کلی احتمال شرطی (برای فضاهای هم‌شانسی و فضاهای غیرهم‌شانسی) به‌صورت زیر است:

مثبت: فرض کنید A و B دو پیشامد باشند. به قسمی که $P(B) > 0$. در این صورت اگر B رخ داده باشد، احتمال وقوع A را با نماد $P(A|B)$ نشان می‌دهیم. و آن را احتمال شرطی A به شرط وقوع B می‌گوئیم و از دستور مقابل محاسبه می‌شود:

$$P(A|B) = \frac{P(A \cap B)}{P(B)}$$

تذکره: در حالتی که $P(B) = 0$ ، احتمال هیچ پیشامدی به شرط B تعریف نمی‌شود.

مثال: اگر A و B دو پیشامد از فضای نمونه‌ای S باشند به طوری که $P(A) = 2P(B) = 1/4$ و $P(A \cup B) = 1/5$. مقدار $P(A|B)$ را به‌دست آورید.

پاسخ: با توجه به فرمول $P(A|B) = \frac{P(A \cap B)}{P(B)}$ و مقدار $P(B) = 1/8$ ، باید مقدار $P(A \cap B)$ را به‌دست آوریم. داریم:

$$P(A \cup B) = P(A) + P(B) - P(A \cap B) \rightarrow 1/5 = 1/4 + 1/8 - P(A \cap B)$$

$$\Rightarrow P(A \cap B) = 1/4 + 1/8 - 1/5 = 1/10 \Rightarrow P(A|B) = \frac{P(A \cap B)}{P(B)} = \frac{1/10}{1/8} = \frac{4}{5} = 0.8$$

مثال: یک فضای نمونه‌ای متشکل از ۴ برآمد a, b, c, d است. اگر $P(a) = P(b) = 1/3$ و $P(c) = P(d) = 1/6$ ، مطلوب است:

(الف) محاسبه $P(\{a \cdot b \cdot c\})$ (ب) محاسبه $P(\{a \cdot b \cdot c\} | \{b \cdot c \cdot d\})$

پاسخ: فضای نمونه‌ای به‌صورت $S = \{a \cdot b \cdot c \cdot d\}$ است. S یک فضای نمونه‌ای غیرهم‌شانسی است. (الف) طبق محاسبه احتمال در فضای نمونه‌ای غیرهم‌شانسی، داریم:

$$P(\{a \cdot b \cdot c\}) = P(a) + P(b) + P(c) = \frac{1}{3} + \frac{1}{3} + \frac{1}{6} = \frac{2}{3} + \frac{1}{6} = \frac{4+1}{6} = \frac{5}{6}$$

(ب) برای محاسبه احتمال شرطی داده‌شده، با فرض $A = \{a \cdot b \cdot c\}$ و $B = \{b \cdot c \cdot d\}$ ، باید مقدار $P(A|B)$ را به‌دست آوریم. داریم:

$$P(A|B) = \frac{P(A \cap B)}{P(B)} = \frac{P(\{b \cdot c\})}{P(\{b \cdot c \cdot d\})} \quad (1)$$

طبق تعریف احتمال در فضای نمونه‌ای غیرهم‌شانسی، داریم:

$$P(\{b \cdot c\}) = P(b) + P(c) = \frac{1}{3} + \frac{1}{6} = \frac{2+1}{6} = \frac{1}{2} \quad (2)$$

$$P(\{b \cdot c \cdot d\}) = P(b) + P(c) + P(d) = \frac{1}{3} + \frac{1}{6} + \frac{1}{6} = \frac{1}{2} + \frac{1}{6} = \frac{2}{3} \quad (3)$$

$$(1), (2), (3) \Rightarrow P(A|B) = \frac{1/2}{2/3} = \frac{3}{4}$$

مثال: کارخانه‌ای به هنگام نصب دستگاه‌های جدید به احتمال $1/25$ به متخصصین جدید و به احتمال $1/4$ به کارگران جدید و به احتمال $1/15$ هم به متخصصین جدید و هم به کارگران جدید نیاز دارد. اگر این کارخانه به متخصصین جدید نیاز داشته باشد، با کدام احتمال به کارگران جدید نیاز دارد؟

$$\frac{2}{5} \quad (4)$$

$$\frac{5}{8} \quad (3)$$

$$\frac{2}{5} \quad (2)$$

$$\frac{3}{8} \quad (1)$$

پاسخ: احتمال مورد نظر، احتمال شرطی است. پیشامدهای A و B را به‌صورت زیر در نظر می‌گیریم:

A : کارخانه به هنگام نصب دستگاه‌های جدید به متخصصین جدید نیاز داشته باشد.

B : کارخانه به هنگام نصب دستگاه‌های جدید به کارگران جدید نیاز داشته باشد.

طبق فرض $P(A) = 1/25$ ، $P(B) = 1/4$ و $P(A \cap B) = 1/5$ می‌باشد. احتمال مطلوب، $P(B|A)$ است. طبق فرمول احتمال شرطی داریم:

$$P(B|A) = \frac{P(B \cap A)}{P(A)} = \frac{1/5}{1/25} = \frac{15}{25} = \frac{3}{5}$$

گزینه (۲) صحیح است.

مسئله

در پخشال یک شیرینی فروشی ۱۴ کیک تولد وجود دارد که وزن هیچ دوتایی برابر نیستند. اگر یکی از این کیکها را به تصادف انتخاب کنیم:

(آ) احتمال این که وزن آن کیک از همه بیشتر باشد، چقدر است؟
 (ب) کیک دیگری را به تصادف انتخاب می‌کنیم و مشاهده می‌کنیم که از کیک اول سبک‌تر است. احتمال آن که وزن کیک اول از همه بیشتر باشد چقدر است؟

پاسخ: (ا) با توجه به این که یکی از ۱۴ کیک، سنگین‌تر از بقیه است، احتمال آن که کیک را که انتخاب کرده‌ایم، سنگین‌ترین باشد برابر $\frac{1}{14}$ است.

(ب) احتمال خواسته شده یک احتمال شرطی است. با معرفی پیشامدهای A و B به صورت زیر، مقدار $P(A|B)$ را از فرمول $\frac{P(A \cap B)}{P(B)}$ به دست می‌آوریم.
 A: کیک اول، سنگین‌ترین کیک باشد.
 B: کیک دوم سبک‌تر از کیک اول باشد.

$$A \subseteq B \Rightarrow A \cap B = A \Rightarrow P(A \cap B) = P(A) = \frac{1}{14}$$

در نیمی از حالات، کیک اول سنگین‌تر از کیک دوم است و در نیمی از حالات دیگر، کیک دوم سنگین‌تر از کیک اول است، بنابراین:

$$P(B) = \frac{1}{7} \Rightarrow P(A|B) = \frac{P(A \cap B)}{P(B)} = \frac{\frac{1}{14}}{\frac{1}{7}} = \frac{1}{2}$$

قانون ضرب احتمالات

از رابطه $P(A|B) = \frac{P(A \cap B)}{P(B)}$ تساوی $P(A \cap B) = P(B)P(A|B)$ به دست می‌آید که به آن قانون ضرب احتمالات می‌گوییم و از این قانون برای به دست آوردن احتمال هم‌زمان وقوع دو پیشامد استفاده می‌کنیم.

مسئله

درون جعبه‌ای ۴ لامپ سالم و ۱ لامپ معیوب وجود دارد. ۲ لامپ به تصادف و بدون جایگذاری خارج می‌کنیم. احتمال آن که لامپ اول سالم و لامپ دوم معیوب باشد را به دست آورید.

پاسخ: فرض کنیم A پیشامد سالم بودن لامپ اول و B پیشامد معیوب بودن لامپ دوم باشد. می‌خواهیم $P(A \cap B)$ را به دست آوریم. داریم:

$$P(A \cap B) = P(A)P(B|A)$$

$$P(A) = \frac{4}{5} \quad P(B|A) = P(\text{لامپ اول سالم} | \text{لامپ دوم معیوب}) = \frac{1}{4} \Rightarrow P(A \cap B) = P(A)P(B|A) = \frac{4}{5} \times \frac{1}{4} = \frac{1}{5}$$

مسئله

۵۵ درصد جمعیت جامعه‌ای را که ۶۰ درصد این جامعه باسواد هستند، زنان تشکیل می‌دهند. اگر نیمی از زنان این جامعه باسواد باشند و یک نفر را به تصادف انتخاب کنیم، با چه احتمالی این شخص، زن یا باسواد می‌باشد؟

پاسخ: فرض کنیم A پیشامد زن بودن شخص انتخاب شده و B پیشامد باسواد بودن وی باشد. طبق فرض $P(A) = 0.55$ و $P(B|A) = 0.5$ (نیمی از زنان جامعه باسواد هستند) می‌باشد. داریم:

$$P(B|A) = \frac{P(B \cap A)}{P(A)} \Rightarrow 0.5 = \frac{P(B \cap A)}{0.55} \Rightarrow P(B \cap A) = 0.5 \times 0.55 = 0.275$$

می‌خواهیم $P(A \cup B)$ را به دست آوریم. داریم:

$$P(A \cup B) = P(A) + P(B) - P(A \cap B) = 0.55 + 0.6 - 0.275 = 0.875$$

مسئله

۶۰ درصد کارکنان یک سازمان، مرد هستند. ۲۵ درصد کل کارکنان این سازمان و ۳۰ درصد کارکنان مرد این سازمان، چاق هستند. اگر یک نفر از بین آن‌ها به تصادف انتخاب کنیم، با کدام احتمال مرد یا چاق می‌باشد؟

$$(1) 0.82 \quad (2) 0.78 \quad (3) 0.73 \quad (4) 0.7$$

پاسخ: $P(B) = 0.25$: پیشامد چاق بودن فرد انتخاب شده. $P(A) = 0.6$: پیشامد مرد بودن شخص انتخاب شده.

$$P(\text{مرد بودن} | \text{چاق بودن}) = P(B|A) = 0.2 \Rightarrow \frac{P(B \cap A)}{P(A)} = 0.2 \Rightarrow \frac{P(B \cap A)}{0.6} = 0.2 \Rightarrow P(B \cap A) = 0.6 \times 0.2 = 0.12$$

گزینه (۳) صحیح است. $\Rightarrow P(A \cup B) = P(A) + P(B) - P(A \cap B) = 0.6 + 0.25 - 0.12 = 0.73$

نکته قانون ضرب احتمال را می‌توان برای سه پیشامد نیز نوشت:

$$P(A_1 \cap A_2 \cap A_3) = P(A_1)P(A_2 | A_1)P(A_3 | A_1 \cap A_2)$$

اگر A_1, A_2, A_3 پیشامدهایی با احتمال مثبت باشند، آن‌گاه:

و می‌توان این قانون را برای هر n پیشامد A_1, A_2, \dots, A_n با احتمال مثبت تعمیم داد:

$$P(A_1 \cap A_2 \cap \dots \cap A_n) = P(A_1)P(A_2 | A_1) \dots P(A_n | A_1 \cap \dots \cap A_{n-1})$$

در کیسه‌ای ۲ گوی سفید، ۳ گوی سیاه و ۳ گوی سبز وجود دارد. از کیسه سه گوی به ترتیب و بدون جایگذاری خارج می‌کنیم. احتمال این‌که گوی اول سبز، گوی دوم سفید و گوی سوم سیاه باشد را به دست آورید.

(مشابه کار و کتاب صفحه ۵۷ کتاب ریاضی)

پاسخ: پیشامدهای A_1, A_2, A_3 را به صورت زیر در نظر می‌گیریم:

A_1 : گوی اول سبز A_2 : گوی دوم سفید A_3 : گوی سوم سیاه

مقدار $P(A_1 \cap A_2 \cap A_3)$ مطلوب است. طبق قانون ضرب احتمالات برای سه پیشامد داریم:

$$P(A_1 \cap A_2 \cap A_3) = P(A_1)P(A_2 | A_1)P(A_3 | A_1 \cap A_2)$$

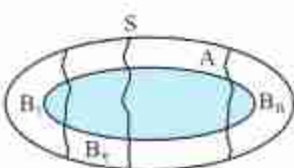
در ابتدا ۸ گوی درون کیسه قرار دارد که ۳ تای آن‌ها سبز می‌باشند، بنابراین احتمال آن‌که گوی اول خارج شده سبز باشد برابر $P(A_1) = \frac{3}{8}$ می‌باشد. با خارج شدن یک گوی سبز، ۷ گوی درون کیسه باقی می‌ماند که ۲ تای آن‌ها سفید هستند، بنابراین اگر گوی دوم را خارج کنیم، آن‌گاه احتمال سفید بودن آن برابر $P(A_2 | A_1) = \frac{2}{7}$ است و در نهایت با خارج کردن این گوی از کیسه، ۶ گوی درون کیسه باقی می‌ماند که ۳ تای آن‌ها سیاه هستند پس با خارج کردن گوی سوم، احتمال سیاه بودن آن برابر $P(A_3 | A_1 \cap A_2) = \frac{3}{6} = \frac{1}{2}$ است پس داریم:

$$P(A_1 \cap A_2 \cap A_3) = \frac{3}{8} \times \frac{2}{7} \times \frac{1}{2} = \frac{3}{56}$$

قانون احتمال کل (احتمال‌های چندشاخه‌ای)

فرض کنید B_1, B_2, \dots, B_n پیشامدهایی با احتمال مثبت باشند که فضای نمونه را افرز می‌کنند با این شرایط برای هر پیشامد دلخواه A داریم:

$$P(A) = P(B_1)P(A | B_1) + \dots + P(B_n)P(A | B_n) = \sum_{j=1}^n P(B_j)P(A | B_j)$$



فرض کنید انتقال نوعی بیماری ارثی از والدین به فرزند پسر 0.12 و به فرزند دختر 0.09 باشد. والدینی که حاصل این نوع بیماری هستند، انتظار فرزند را دارند. مطلوب است احتمال آن‌که این فرزند سالم باشد.



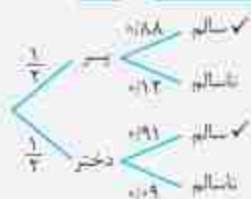
پاسخ: فرزندی که به دنیا خواهد آمد یا پسر است یا دختر. پس اگر پسر بودن فرزند را با B_1 و دختر بودن آن را با B_2 نشان دهیم، آن‌گاه B_1 و B_2 ناسازگارند و حتماً یکی از آن‌ها رخ خواهد داد. سالم بودن فرزند را با A نشان می‌دهیم. می‌خواهیم $P(A)$ را حساب کنیم.

$$P(A) = P(B_1)P(A | B_1) + P(B_2)P(A | B_2) = \frac{1}{2} \times (1 - 0.12) + \frac{1}{2} \times (1 - 0.09) = 0.44 + 0.455 = 0.895$$

برای این مسئله اگر سعی می‌کردیم فهرستی از حالات ممکن تشکیل دهیم به نموداری به صورت مقابل دست می‌یافتیم:



اگر روی هر یک از پاره‌خط‌های نمودار بالا احتمال پیشامد نظیر آن خط را بنویسیم، خواهیم نوشت:



حال اگر شاخه‌هایی را که به وضعیت سالم ختم می‌شوند، مشخص کنیم و احتمال‌های روی آن شاخه را در هم ضرب و با نتیجه حاصل از شاخه‌های

$$\frac{1}{2} \times 0.88 + \frac{1}{2} \times 0.91 = 0.895$$

شاخه دوم شاخه اول

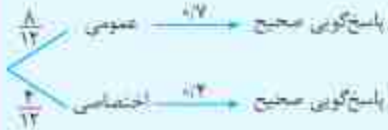
دیگر جمع کنیم، خواهیم داشت:

احتمال پاسخ‌گویی صحیح به سؤالات اختصاصی و عمومی در یک آزمون به ترتیب $\frac{1}{4}$ و $\frac{1}{7}$ است. اگر از بین ۴ سؤال اختصاصی و ۸ سؤال عمومی یک سؤال به تصادف انتخاب شود، احتمال پاسخ‌گویی صحیح به این سؤال چقدر است؟

(۱) $\frac{3}{5}$ (۲) $\frac{2}{5}$ (۳) $\frac{4}{15}$ (۴) $\frac{1}{15}$

سؤالات انتخابی

پاسخ: اطلاعات مسئله را در نمودار درختی روبه‌رو، خلاصه می‌کنیم:



$$P(\text{پاسخ‌گویی صحیح}) = \frac{8}{14} \times \frac{1}{7} + \frac{4}{14} \times \frac{1}{4} = \frac{56 + 14}{196} = \frac{70}{196} = \frac{5}{14}$$

بنابر احتمال کل داریم:

بنابراین گزینه (۱) صحیح است.

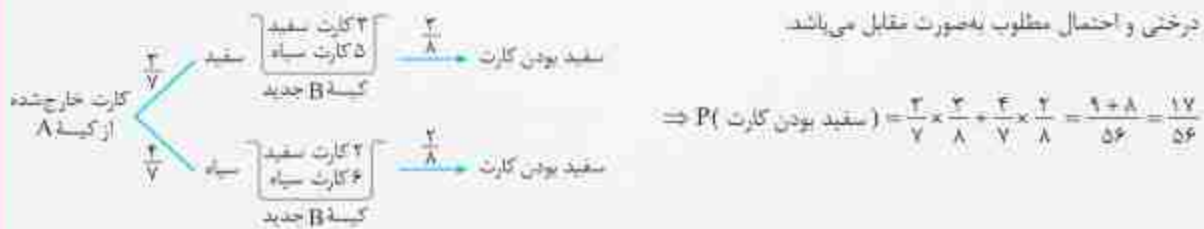
درون کیسه A، ۳ کارت سفید و ۴ کارت سیاه و درون کیسه B، ۲ کارت سفید و ۵ کارت سیاه وجود دارد. گارتی به تصادف از درون کیسه A انتخاب کرده و بدون نگاه کردن آن را درون کیسه B قرار می‌دهیم. سپس از کیسه B گارتی به تصادف بیرون می‌آوریم. احتمال سفید بودن کارت خارج شده از کیسه B کدام است؟

پاسخ: دو حالت برای گارتی که از کیسه A خارج می‌کنیم وجود دارد:

حالت اول: کارت خارج شده سفید است. احتمال خارج کردن کارت سفید از کیسه A برابر $\frac{3}{7}$ است. با قرار دادن این کارت سفید درون کیسه B، تعداد کارت‌های سفید کیسه B، $3+1=4$ خواهد شد. احتمال انتخاب یک کارت سفید از این کیسه جدید برابر $\frac{4}{8}$ است.

حالت دوم: کارت خارج شده سیاه است. احتمال خارج کردن کارت سیاه از کیسه A برابر $\frac{4}{7}$ است. با قرار دادن این کارت سیاه درون کیسه B، تعداد کارت‌های سفید کیسه A تغییر نمی‌کند ولی تعداد کارت‌های سیاه برابر $5+1=6$ می‌شود و در نتیجه احتمال انتخاب یک کارت سفید از این کیسه جدید برابر $\frac{3}{8}$ می‌شود.

نمودار درختی و احتمال مطلوب به صورت مقابل می‌باشد.



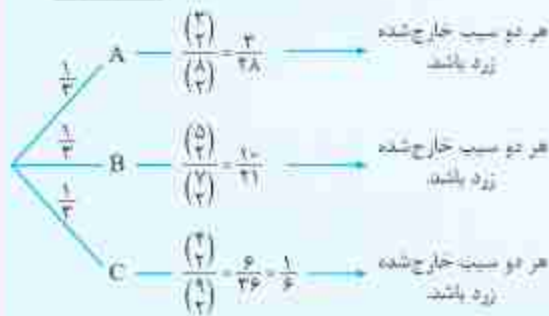
$$\Rightarrow P(\text{سفید بودن کارت}) = \frac{3}{7} \times \frac{4}{8} + \frac{4}{7} \times \frac{3}{8} = \frac{12}{56} + \frac{12}{56} = \frac{24}{56} = \frac{3}{7}$$

درون ظرف A، ۳ سیب زرد و ۵ سیب قرمز، درون ظرف B، ۵ سیب زرد و ۲ سیب قرمز و در ظرف C، ۴ سیب زرد و ۵ سیب قرمز وجود دارد. یکی از ظرف‌ها را به تصادف انتخاب کرده و سپس ۲ سیب از آن خارج می‌کنیم. احتمال آن که هر دو سیب خارج شده زرد باشند، کدام است؟

(۱) $\frac{1}{4}$ (۲) $\frac{1}{8}$ (۳) $\frac{1}{14}$ (۴) $\frac{1}{6}$

انتخاب ظرف

پاسخ: نمودار درختی به صورت مقابل درمی‌آید:



$$P(\text{گزینه (۱) صحیح است}) = \frac{1}{3} \left(\frac{3}{28} + \frac{10}{21} + \frac{1}{6} \right) = \frac{1}{3} \times \frac{9 + 40 + 14}{28 \times 3} = \frac{1}{3} \times \frac{63}{84} = \frac{1}{4}$$

درون جعبه‌ای ۵ مهره سفید و ۴ مهره سیاه قرار دارد. یک مهره بدون رؤیت از جعبه خارج می‌کنیم و سپس مهره دیگری از بین ۸ مهره باقی‌مانده خارج می‌کنیم. با کدام احتمال این مهره سفید است؟

پاسخ: مهره اولی که از جعبه خارج می‌کنیم، یا سفید است یا سیاه. پیشامدهای B_1 و B_2 که فضای نمونه‌ای S را به دو مجموعه مجزا می‌کنند، به صورت زیر در نظر می‌گیریم:

B_1 : مهره اول خارج شده سفید است. B_2 : مهره اول خارج شده سیاه است.

$$P(B_1) = \frac{5}{9}, \quad P(B_2) = \frac{4}{9}$$

ثابت:

اگر A پیشامد سفید بودن مهره دوم باشد، آن‌گاه با خارج کردن یک مهره سفید، ۴ مهره سفید و ۴ مهره سیاه در جعبه باقی می‌مانند، بنابراین داریم:

$$P(A | B_1) = \frac{4}{8}$$

$$P(A | B_2) = \frac{5}{8}$$

با خارج کردن یک مهره سیاه، ۵ مهره سفید و ۳ مهره سیاه در جعبه باقی می‌مانند، بنابراین داریم:

$$P(A) = P(B_1)P(A | B_1) + P(B_2)P(A | B_2) = \frac{5}{9} \times \frac{4}{8} + \frac{4}{9} \times \frac{5}{8} = \frac{5}{9} \times \frac{4+4}{8} = \frac{40}{72} = \frac{5}{9}$$

بنابر قانون احتمال کل داریم:

در مثال قبل، عدد بدست‌آمده با حالتی که از ابتدا یک مهره برداریم و احتمال سفید بودن آن را بدست آوریم، برابر است. می‌توان این مطلب را به صورت نکته زیر نوشت:

نکته: اگر از درون جعبه‌ای، تعدادی مهره بدون رؤیت خارج کنیم و سپس مهره دیگری از این جعبه خارج کنیم، آن‌گاه برای بدست آوردن احتمال مطلوب، احتمال حالتی را بدست می‌آوریم که اصلاً مهره‌ای از جعبه خارج نکرده‌ایم و این مهره اولین مهره خارج شده از جعبه است.

نکته: می‌دانیم که دو پیشامد B و B' ، فضای نمونه‌ای S را افراز می‌کنند. بنابراین ساده‌ترین شکل قانون احتمال کل در حالت $n=2$ است که به صورت زیر بیان می‌شود:

$$P(A) = P(B)P(A | B) + P(B')P(A | B')$$

در این صورت برای هر پیشامد A خواهیم داشت:

قانون بیز

مدیر شرکتی که تولیدکننده پوشاک گرم است، فکر می‌کند به احتمال ۶۰ درصد دمای زمستان اسال بین ۸ تا ۱۰- درجه سانتی‌گراد است و عددی را به عنوان تعداد تولیدی پوشاک گرم در نظر می‌گیرد. حال اگر این مدیر به واسطه اخبار هواشناسی مطلع شود که دمای زمستان اسال خیلی پایین‌تر از سال‌های قبل خواهد بود، ممکن است به احتمالی بیفزاید و آن را مثلاً به عدد ۸۰ درصد برساند و در نتیجه به مقدار تولیدش بیفزاید. قانون بیز که از قوانین مهم در علم احتمال است، این موضوع را به زبان ریاضی فرمول‌بندی می‌کند.

قانون بیز مشخص می‌کند که «احتمال‌های پیش از مشاهده» چگونه به «احتمال‌های پس از مشاهده» تبدیل می‌شوند. فرضیات قانون بیز کاملاً مشابه فرضیات قانون احتمال کل است. در واقع قانون بیز، نوعی محاسبه احتمال شرطی با فرضیات قانون احتمال کل است.

فرض کنید B_1, B_2, \dots, B_n پیشامدهایی با احتمال ناسفر باشند که فضای نمونه را افراز می‌کنند. در این صورت برای هر پیشامد

$$P(B_i | A) = \frac{P(B_i)P(A | B_i)}{P(A)}$$

دلخواه A و هر $1 \leq i \leq n$ داریم:

این قانون توضیح می‌دهد که چگونه $P(B_i)$ ‌ها بعد از مشاهده رخ دادن پیشامد A ، به $P(B_i | A)$ ‌ها تبدیل می‌شوند.

$$P(B_i | A) = \frac{P(B_i)P(A | B_i)}{\sum_{k=1}^n P(B_k)P(A | B_k)}$$

گاهی قانون بیز را به شکل مقابل می‌نویسند:

هدف از این نوع نوشتن قانون بیز این است که تصریح شود در یک مسئله مربوط به قانون بیز معمولاً داده‌های موجود $P(B_k)$ ‌ها و $P(A | B_k)$ ‌ها هستند. توجه کنید که آن‌چه در مخرج عبارت سمت راست آمده است، طبق قانون احتمال کل، همان $P(A)$ است.

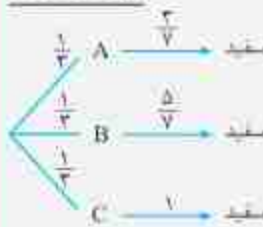
در جعبه‌ای سه ظرف وجود دارد. ظرف A شامل ۳ مهره سفید و ۴ مهره سیاه، ظرف B شامل ۵ مهره سفید و ۲ مهره سیاه و ظرف C شامل تنها تعدادی مهره سفید است. یکی از ظرف‌ها را به تصادف انتخاب می‌کنیم و سپس مهره‌ای از آن و به تصادف خارج می‌کنیم. اگر مشاهده کنیم مهره خارج شده سفید است، با چه احتمالی این مهره از ظرف C خارج شده است؟

پاسخ: مسئله نوعی احتمال شرطی با فرضیات قانون احتمال کل است. این احتمال را باید از قانون بیز بدست آوریم. اگر D پیشامد سفید بودن مهره خارج شده و E پیشامد خارج شدن مهره از ظرف C باشد، آن‌گاه $P(E | D)$ ، احتمال مطلوب است.

$$P(E | D) = \frac{P(E \cap D)}{P(D)}$$

طبق فرمول احتمال شرطی، داریم:

طرف انتخاب شده

مقدار $P(D)$ را باید از قانون احتمال کل به دست آوریم. اطلاعات در نمودار درختی زیر خلاصه شده است:

$$\Rightarrow P(D) = \frac{1}{3} \times \frac{2}{5} + \frac{1}{3} \times \frac{5}{7} + \frac{1}{3} \times 1 = \frac{2}{15} + \frac{5}{21} + \frac{1}{3} = \frac{2+5+7}{21} = \frac{14}{21} = \frac{2}{3}$$

از قانون ضرب احتمالات، داریم:

$$P(E \cap D) = P(E)P(D|E) = \frac{1}{3} \times 1 = \frac{1}{3} \Rightarrow P(E|D) = \frac{P(E \cap D)}{P(D)} = \frac{\frac{1}{3}}{\frac{2}{3}} = \frac{1}{2}$$

در دو جعبه به ترتیب ۳۰ و ۲۰ عدد لامپ همانند وجود دارد. در جعبه اول ۵ عدد لامپ معیوب و در جعبه دوم ۳ عدد لامپ معیوب موجود است. از اولی ۱۰ لامپ و از دومی ۸ لامپ به تصادف انتخاب می‌کنیم و آن‌ها را به صورت درهم در جعبه‌ای جدید قرار می‌دهیم. از این جعبه به تصادف لامپی برمی‌داریم:

(آ) احتمال آن‌که لامپ انتخاب‌شده از جعبه جدید سالم باشد چقدر است؟

(ب) اگر بدانیم لامپ انتخاب‌شده از جعبه جدید سالم است، با کدام احتمال این لامپ از جعبه اول خارج شده است؟

پاسخ: (آ) جعبه جدید را می‌توان به صورت دو دسته لامپ که یک دسته آن لامپ‌های جعبه اول و دسته دیگر لامپ‌های جعبه دوم است، در نظر گرفت. پس برای لامپی که از جعبه جدید خارج می‌کنیم، دو حالت به وجود می‌آید. در نمودار درختی زیر، اطلاعات نوشته شده است:



$$\Rightarrow P(\text{سالم بودن لامپ}) = P(A) = \frac{10}{18} \times \frac{25}{30} + \frac{8}{18} \times \frac{17}{30} = \frac{125 + 102}{18 \times 30} = \frac{227}{270}$$

(ب) احتمال خواسته‌شده، احتمال شرطی اما با فرضیات قانون احتمال کل می‌باشد.

اگر A : پیشامد سالم بودن لامپ انتخاب‌شده و B : پیشامد خارج شدن لامپ از جعبه اول باشد، باید $P(B|A)$ را با قانون بیز به دست آوریم:

$$P(B|A) = \frac{P(B \cap A)}{P(A)} = \frac{\frac{10}{18} \times \frac{25}{30}}{\frac{227}{270}} = \frac{1 \times 5}{9 \times 227} = \frac{5}{2043}$$

۵۵ درصد جمعیت کشوری را زنان و ۴۵ درصد بقیه را مردان تشکیل می‌دهند. ۶۰ درصد زنان و ۷۰ درصد مردان باسواد می‌باشند.

شخصی به تصادف از بین آنان انتخاب می‌کنیم، اگر شخصی انتخاب‌شده باسواد باشد، آن‌گاه احتمال آن‌که مرد باشد، چقدر است؟

$$\frac{27}{86} \quad (۲)$$

$$\frac{41}{86} \quad (۳)$$

$$\frac{21}{22} \quad (۴)$$

$$\frac{27}{22} \quad (۱)$$

پاسخ: اطلاعات مسئله را در نمودار درختی روبه‌رو خلاصه می‌کنیم:



$$P(\text{باسواد بودن}) = 0.45 \times 0.7 + 0.55 \times 0.6 = 0.645$$

بنابراین احتمال باسواد بودن برابر است با:

احتمال خواسته‌شده یک احتمال شرطی است. می‌دانیم که شخص انتخاب‌شده باسواد است (B)، می‌خواهیم احتمال مرد بودن وی (A) را به دست

$$P(A|B) = \frac{P(A \cap B)}{P(B)} \quad P(B) = 0.645$$

آوریم. داریم:

$$P(A \cap B) = 0.45 \times 0.7 = 0.315 \Rightarrow P(A|B) = \frac{P(A \cap B)}{P(B)} = \frac{0.315}{0.645} = \frac{21}{129} = \frac{7}{43}$$

گزینه (۲) صحیح است.

۳-۰-۰* در فضای نمونه‌ای $S = \{a \cdot b \cdot c \cdot d\}$ ، $P(b) = \frac{1}{12}$ ، $P(a \cdot b \cdot c) = m + \frac{1}{4}$ و $P(\{b \cdot d\}) = m + \frac{1}{4}$ می‌باشند، مقدار m کدام است؟

- (۱) $\frac{1}{3}$ (۲) $\frac{1}{4}$ (۳) $\frac{1}{6}$ (۴) $\frac{1}{12}$

(سوالاتی روزانه)

۳-۰-۱* اگر $S = \{1, 2, 3, 4\}$ و $P(1) = 2P(2) = 3P(3) = 4P(4)$ ، $P(1)$ کدام است؟

- (۱) $\frac{2}{25}$ (۲) $\frac{8}{25}$ (۳) $\frac{12}{25}$ (۴) $\frac{14}{25}$

۳-۲* اگر $S = \{a \cdot b \cdot c \cdot d\}$ و $P(a)$ ، $P(b)$ و $P(c)$ سه جمله متوالی یک دنباله حسابی یا قدرنسبت $\frac{2}{15}$ و $P(d) = \frac{1}{5}$ باشند، مقدار $P(a)$ کدام است؟

(مثال: تمرین ۴ صفحه ۵۱ کتاب درسی)

- (۱) $\frac{1}{15}$ (۲) $\frac{2}{15}$ (۳) $\frac{1}{5}$ (۴) $\frac{4}{15}$

۳-۳* اگر $S = \{a \cdot b \cdot c\}$ و $P(a)$ ، $P(b)$ و $P(c)$ سه جمله متوالی یک دنباله هندسی با قدرنسبت $\frac{1}{4}$ باشند، مقدار $P(c)$ کدام است؟

- (۱) $\frac{4}{7}$ (۲) $\frac{3}{7}$ (۳) $\frac{2}{7}$ (۴) $\frac{1}{7}$



۳-۴* در پرتاب دارت به صفحه دایره‌ای شکل مقابل، اگر مرز مشترک بین دو ناحیه را جزء ناحیه کوچک‌تر

در نظر بگیریم و احتمال اصابت دارت به ناحیه k ام برابر $\frac{k}{4}$ باشد و اگر یک دارت پرتاب شود و

بدانیم به یکی از این ۵ ناحیه برخورد کرده است، با کدام احتمال دارت به ناحیه شماره زوج اصابت

کرده است؟

(مثال: تمرین ۵ صفحه ۵۱ کتاب درسی)

- (۱) $\frac{2}{3}$ (۲) $\frac{1}{3}$ (۳) $\frac{2}{5}$ (۴) $\frac{1}{5}$

۳-۵ بر روی یک تاس اعداد ۱، ۱، ۱، ۱، ۲ و ۳ نوشته شده است. در پرتاب یک بار این تاس، چقدر احتمال دارد که عدد فرد ظاهر شود؟

(مثال: فعالیت صفحه ۴۸ کتاب درسی)

- (۱) $\frac{1}{3}$ (۲) $\frac{2}{3}$ (۳) $\frac{1}{6}$ (۴) $\frac{5}{6}$

قسمت سوم: احتمال شرطی

احتمال شرطی

۳-۶* در پرتاب دو تاس سفید و سیاه با هم، می‌دانیم جمع دو عدد رو شده ۸ است. با کدام احتمال تاس سفید ۳ آمده است؟

(مثال: مثال صفحه ۵۴ کتاب درسی)

- (۱) $\frac{1}{3}$ (۲) $\frac{2}{3}$ (۳) $\frac{1}{4}$ (۴) $\frac{1}{5}$

۳-۷ در پرتاب دو تاس، اگر هر دو عدد رو شده اول باشند، با کدام احتمال مجموع آن‌ها نیز عددی اول است؟

- (۱) $\frac{4}{9}$ (۲) $\frac{5}{9}$ (۳) $\frac{2}{3}$ (۴) $\frac{7}{9}$

(سوالاتی روزانه - ۸۷)

۳-۸* یک تاس همگن را انداخته‌ایم. برآمد حاصل، مضرب ۳ نیست. احتمال آن‌که شماره ظاهر شده ۲ باشد، کدام است؟

- (۱) $\frac{1}{6}$ (۲) $\frac{1}{5}$ (۳) $\frac{1}{4}$ (۴) $\frac{1}{3}$

۳-۹ تاس همگنی را با چشم بسته انداخته‌ایم و فقط می‌دانیم که برآمد عدد زوج است. احتمال این‌که شماره ۴ یا ۶ ظاهر شده باشد، کدام است؟

(سوال: تمرین ۸ از کشور - ۹۱)

- (۱) $\frac{1}{3}$ (۲) $\frac{1}{2}$ (۳) $\frac{2}{3}$ (۴) $\frac{2}{4}$

۳-۱۰* دو تاس همگن را انداخته‌ایم. اگر حاصل جمع شماره‌های رو شده کم‌تر از ۶ باشد، احتمال آن‌که حداقل شماره یکی از تاس‌های رو شده ۳ باشد، کدام است؟

(سوالاتی روزانه - ۹۹)

- (۱) $\frac{1}{3}$ (۲) $\frac{2}{5}$ (۳) $\frac{1}{3}$ (۴) $\frac{2}{5}$

۳-۱۱ در پرتاب دو تاس، اگر حداقل یکی از تاس‌ها ۵ ظاهر شود، احتمال این‌که دو تاس دو عدد متوالی را نشان دهند چقدر است؟

- (۱) $\frac{1}{3}$ (۲) $\frac{1}{4}$ (۳) $\frac{1}{18}$ (۴) $\frac{4}{11}$

۳۱۲. دو تاس را با هم می‌ریزیم. اگر حداقل یکی از تاس‌ها مضرب ۳ نباشد، با کدام احتمال جمع دو عدد روشده مضرب ۳ است؟ (مسئله ترکیبی از کتاب - کشور - ۱۹۴)

(۱) $\frac{2}{9}$ (۲) $\frac{5}{18}$ (۳) $\frac{1}{3}$ (۴) $\frac{1}{4}$

۳۱۳. تاس همگنی را سه بار پرتاب می‌کنیم. اگر بدانیم مجموع اعداد روشده یک عدد فرد است، احتمال این‌که لافل یکی از تاس‌های روشده ۲ باشد، کدام است؟ (مسئله ترکیبی از کتاب - کشور - ۱۹۹)

(۱) $\frac{5}{12}$ (۲) $\frac{1}{3}$ (۳) $\frac{7}{12}$ (۴) $\frac{3}{4}$

۳۱۴. تاس همگنی را سه بار پرتاب می‌کنیم. اگر بدانیم مجموع اعداد روشده یک عدد فرد است، احتمال این‌که لافل یکی از تاس‌های روشده ۳ باشد، کدام است؟ (مسئله ترکیبی از کتاب - کشور - ۱۹۹)

(۱) $\frac{1}{4}$ (۲) $\frac{3}{4}$ (۳) $\frac{1}{3}$ (۴) $\frac{15}{26}$

۳۱۵. یک خانواده چهار فرزندی با کدام احتمال سه فرزند پسر دارد. در صورتی‌که حداقل یکی از فرزندان آن‌ها پسر است؟ (مسئله ترکیبی از کتاب - کشور - ۱۹۹)

(۱) $\frac{4}{15}$ (۲) $\frac{1}{3}$ (۳) $\frac{1}{5}$ (۴) $\frac{1}{3}$

۳۱۶. در یک خانواده سه فرزندی، می‌دانیم یکی از فرزندان پسر است. با کدام احتمال دو فرزند دیگر دختر هستند؟ (مسئله ترکیبی از کتاب - کشور - ۱۹۹)

(۱) $\frac{3}{8}$ (۲) $\frac{3}{7}$ (۳) $\frac{4}{7}$ (۴) $\frac{5}{8}$

۳۱۷. یک خانواده سه فرزندی با کدام احتمال، حداقل دو فرزند دختر دارد، در صورتی‌که می‌دانیم حداقل یکی از فرزندان دختر است؟ (مسئله ترکیبی از کتاب - کشور - ۱۹۷)

(۱) $\frac{4}{8}$ (۲) $\frac{5}{8}$ (۳) $\frac{4}{7}$ (۴) $\frac{4}{7}$

۳۱۸. در یک خانواده سه فرزندی، می‌دانیم فرزند اول آن‌ها دختر است. با کدام احتمال لافل یکی از فرزندان پسر است؟ (مسئله ترکیبی از کتاب - کشور - ۱۹۷)

(۱) $\frac{1}{4}$ (۲) $\frac{1}{2}$ (۳) $\frac{5}{8}$ (۴) $\frac{3}{4}$

۳۱۹. در یک خانواده دو فرزندی، می‌دانیم یکی از فرزندان پسر است. با کدام احتمال، این خانواده دارای فرزند دختر است؟ (مسئله ترکیبی از کتاب - کشور - ۱۹۵)

(۱) $\frac{1}{3}$ (۲) $\frac{1}{2}$ (۳) $\frac{2}{3}$ (۴) $\frac{3}{4}$

۳۲۰. یک تاس و سپس سکه‌ای را سه بار پرتاب می‌کنیم. اگر عدد روشده در پرتاب تاس زوج و فقط ۲ پرتاب از ۳ پرتاب سکه «پشت» بیاید، احتمال آن‌که عدد روشده تاس ۲ و پرتاب اول سکه «پشت» بیاید کدام است؟

(۱) $\frac{7}{9}$ (۲) $\frac{5}{9}$ (۳) $\frac{4}{9}$ (۴) $\frac{2}{9}$

۳۲۱. دانشجویان دانشکده‌ای مطابق جدول زیر توزیع شده‌اند. احتمال آن‌که دانشجوی زنی در مقطع کارشناسی ارشد مشغول به تحصیل باشد، کدام است؟

		جنسیت		
		مرد	زن	
مقطع تحصیلی	کارشناسی ارشد	۲۵	۱۵	(۱) $\frac{1}{4}$
	دکترا	۱۵	۵	(۲) $\frac{3}{8}$

۳۲۲. اداره‌ای ۱۲ کارمند دارد که سن هیچ دو نفری یکسان نیست. یکی از کارمندان را به تصادف انتخاب می‌کنیم. سپس کارمند دیگری را به تصادف انتخاب می‌کنیم. اگر کارمند دوم سن‌تر از کارمند اول نباشد، با کدام احتمال کارمند اول سن‌ترین کارمند است؟ (مسئله ترکیبی از کتاب - کشور - ۱۹۹)

(۱) $\frac{1}{11}$ (۲) $\frac{1}{6}$ (۳) $\frac{1}{12}$ (۴) $\frac{1}{8}$

۳۲۳. ارقام ۱۰۳۰۴۰۴۰۵ را به تصادف کنار هم قرار می‌دهیم. اگر عدد حاصل زوج باشد، احتمال آن‌که دو رقم یکسان کنار هم باشند، کدام است؟

(۱) $\frac{1}{4}$ (۲) $\frac{1}{3}$ (۳) $\frac{2}{5}$ (۴) $\frac{3}{5}$

۳۲۴. از بین اعداد سه‌رقمی، یک عدد به تصادف انتخاب می‌کنیم. اگر عدد انتخاب شده مضرب ۳ باشد، با کدام احتمال مضرب ۴ می‌باشد؟

(۱) $\frac{1}{6}$ (۲) $\frac{1}{4}$ (۳) $\frac{1}{3}$ (۴) $\frac{1}{12}$

۳۲۵. درون کیسه‌ای ۴ مهره سفید با شماره‌های ۱ تا ۴ و ۳ مهره سیاه با شماره‌های ۱ تا ۳ قرار دارند. از این کیسه دو مهره به ترتیب و بدون جایگذاری خارج می‌کنیم. اگر حداقل یکی از مهره‌ها سفید و با شماره ۲ باشد، با کدام احتمال مجموع شماره‌های دو مهره برابر ۴ است؟

$$(1) \frac{1}{8} \quad (2) \frac{1}{12} \quad (3) \frac{1}{6} \quad (4) \frac{1}{4}$$

۳۲۶. درون کیسه‌ای ۵ گوی سفید و ۴ گوی سیاه قرار دارد. از این کیسه دو گوی بی‌دری و با جایگذاری خارج می‌کنیم. اگر دو گوی خارج‌شده هم‌رنگ باشند، با کدام احتمال سفید می‌باشند؟

$$(1) \frac{16}{41} \quad (2) \frac{25}{41} \quad (3) \frac{3}{8} \quad (4) \frac{5}{8}$$

۳۲۷. درون جعبه‌ای ۳ مهره سفید، ۵ مهره سیاه و ۲ مهره آبی وجود دارد. ۳ مهره به تصادف از جعبه بیرون می‌آوریم. اگر حداکثر یکی از مهره‌های خارج‌شده آبی باشد، با کدام احتمال دو مهره سیاه خارج شده است؟

$$(1) \frac{5}{28} \quad (2) \frac{25}{56} \quad (3) \frac{7}{28} \quad (4) \frac{13}{56}$$

۳۲۸. پنج مهره سفید با شماره‌های ۱ تا ۵ و همچنین ۵ مهره سیاه با شماره‌های ۱ تا ۵ و یکسان را در ظرفی قرار می‌دهیم. به تصادف دو مهره از بین آن‌ها بیرون می‌آوریم. اگر مجموع شماره‌های دو مهره ۶ باشد، با کدام احتمال هر دو مهره هم‌رنگ هستند؟

$$(1) \frac{2}{5} \quad (2) \frac{4}{9} \quad (3) \frac{5}{9} \quad (4) \frac{3}{5}$$

۳۲۹. سه کارت یکسان داریم. دو طرف کارت اول آبی، دو طرف کارت دوم قرمز و یک طرف کارت سوم آبی و طرف دیگر آن قرمز است. کارتی را به تصادف برمی‌داریم و مشاهده می‌کنیم که یک طرف آن آبی است. با کدام احتمال هر دو طرف آن آبی است؟

$$(1) \frac{1}{12} \quad (2) \frac{1}{3} \quad (3) \frac{2}{3} \quad (4) \frac{1}{3}$$

۳۳۰. شخصی به تصادف به ۳ سؤال از ۱۰ سؤال پاسخ داده است. اگر این شخص به سؤال اول پاسخ داده باشد، با کدام احتمال این شخص دقیقاً به دو سؤال با شماره فرد پاسخ داده است؟

$$(1) \frac{11}{36} \quad (2) \frac{5}{18} \quad (3) \frac{5}{9} \quad (4) \frac{4}{9}$$

۳۳۱. اعداد ۱ تا ۹ را بر روی سه کارت یکسان نوشته و سپس دو کارت به تصادف از بین آنان انتخاب می‌کنیم. اگر بدانیم مجموع اعداد روی دو کارت کم‌تر از ۶ است، با کدام احتمال عدد روی یکی از کارت‌ها برابر ۴ است؟

$$(1) \frac{1}{4} \quad (2) \frac{1}{3} \quad (3) \frac{1}{5} \quad (4) \frac{1}{6}$$

۳۳۲. امیر و بهروز هر کدام به ترتیب با احتمال $\frac{1}{6}$ و $\frac{1}{3}$ در یک مسابقه علمی شرکت می‌کنند. احتمال شرکت امیر به شرط شرکت بهروز برابر $\frac{1}{5}$ است. احتمال شرکت امیر به شرط شرکت نکردن بهروز، کدام است؟

$$(1) \frac{9}{14} \quad (2) \frac{5}{7} \quad (3) \frac{11}{14} \quad (4) \frac{6}{7}$$

۳۳۳. از بین ۳ کارت سفید و ۴ کارت سبز یکسان، به تصادف یک کارت بدون جایگذاری بیرون می‌آوریم. سپس کارت دوم را خارج می‌کنیم. با کدام احتمال هر دو کارت هم‌رنگ هستند؟

$$(1) \frac{2}{7} \quad (2) \frac{5}{14} \quad (3) \frac{3}{7} \quad (4) \frac{4}{7}$$

۳۳۴. در جعبه‌ای ۸ لامپ موجود است که دو‌تای آن‌ها معیوب است. به تصادف سه لامپ را آزمایش کرده و لامپ سالم را کنار می‌گذاریم تا اولین لامپ معیوب پیدا شود. با کدام احتمال در آزمایش سوم، اولین لامپ معیوب پیدا می‌شود؟

$$(1) \frac{5}{28} \quad (2) \frac{4}{21} \quad (3) \frac{3}{14} \quad (4) \frac{5}{21}$$

۳۳۵. در کیسه‌ای ۲ مهره سفید، ۴ مهره سیاه و ۲ مهره زرد قرار دارد. از این کیسه دو مهره به ترتیب و بدون جایگذاری خارج می‌کنیم. با کدام احتمال حداقل یکی از مهره‌های خارج‌شده زرد می‌باشد؟

$$(1) \frac{15}{28} \quad (2) \frac{13}{28} \quad (3) \frac{17}{28} \quad (4) \frac{21}{56}$$

۳۳۶. درون ظرفی ۴ سیب و ۵ پرتقال وجود دارد. از این ظرف ۳ عدد از آن‌ها را به ترتیب و بدون جایگذاری خارج می‌کنیم. با کدام احتمال در ابتدا سیب و سپس دو پرتقال از ظرف خارج می‌شود؟

$$(1) \frac{25}{126} \quad (2) \frac{8}{63} \quad (3) \frac{2}{9} \quad (4) \frac{10}{63}$$

۳۳۷. بسکتبالیستی هر بار که اقدام به پرتاب می‌کند، اگر روحیه خوبی داشته باشد، پرتابش به احتمال ۹۰ درصد وارد سبد می‌شود و در غیر این صورت به احتمال ۷۰ درصد پرتاب‌هایش وارد سبد می‌شود. اگر این بسکتبالیست به هنگام پرتاب اول روحیه خوبی داشته باشد و سه پرتاب متوالی انجام دهد، با کدام احتمال فقط پرتاب دوم وارد سبد نمی‌شود؟

- (منشأ: کار در کلاس هفتم ۵۷ کتاب درسی)
- (۱) $\frac{1}{222}$ (۲) $\frac{1}{189}$ (۳) $\frac{1}{63}$ (۴) $\frac{1}{81}$

۳۳۸. شخصی در سه آزمون پی‌در پی شرکت می‌کند. احتمال قبولی وی در آزمون اول برابر $\frac{1}{6}$ و احتمال قبولی وی در آزمون‌های بعدی به شرط قبولی یا عدم قبولی در آزمون قبل به ترتیب $\frac{1}{8}$ و $\frac{1}{5}$ است. شرط پذیرش، قبولی در حداقل دو آزمون است. احتمال پذیرش این شخص کدام است؟

- (۱) $\frac{1}{25}$ (۲) $\frac{1}{94}$ (۳) $\frac{1}{22}$ (۴) $\frac{1}{28}$

۳۳۹. دو تاس سالم را با هم پرتاب می‌کنیم تا برای اولین بار هر دو عدد رو شده زوج باشند. با کدام احتمال حداکثر در سه پرتاب نتیجه حاصل می‌شود؟

- (منشأ: آزمون چهارم - ۱۳۹۱)
- (۱) $\frac{37}{64}$ (۲) $\frac{37}{62}$ (۳) $\frac{19}{32}$ (۴) $\frac{39}{64}$

۳۴۰. اگر ارزش گزاره شرطی $p \Rightarrow q$ درست باشد، احتمال آن‌که مقدم درست باشد، کدام است؟

- (۱) $\frac{1}{2}$ (۲) $\frac{1}{4}$ (۳) $\frac{2}{3}$ (۴) $\frac{1}{3}$

۳۴۱. ارزش گزاره $p \Rightarrow (q \vee r)$ درست است. احتمال این‌که ارزش گزاره r نادرست باشد، کدام است؟

- (منشأ: آزمون چهارم - ۱۳۹۰)
- (۱) $\frac{3}{4}$ (۲) $\frac{1}{2}$ (۳) $\frac{4}{5}$ (۴) $\frac{2}{3}$

۳۴۲. ارزش گزاره $(p \vee q) \Rightarrow r$ نادرست است. احتمال این‌که q نادرست باشد، کدام است؟

- (منشأ: آزمون چهارم (کتاب) - ۱۳۹۰)
- (۱) $\frac{1}{4}$ (۲) $\frac{1}{3}$ (۳) $\frac{3}{8}$ (۴) $\frac{1}{2}$

۳۴۳. اگر A و B دو پیشامد از فضای نمونه‌ای S باشند، به طوری که $P(A) = \frac{1}{3}$ ، $P(B) = \frac{1}{4}$ ، $P(A|B) = \frac{1}{6}$ و $P(B|A) = \frac{1}{3}$ ، کدام است؟

- (۱) $\frac{4}{5}$ (۲) $\frac{3}{5}$ (۳) $\frac{2}{3}$ (۴) $\frac{1}{3}$

۳۴۴. اگر A و B دو پیشامد از فضای نمونه‌ای S باشند به طوری که $P(A) = \frac{1}{2}$ ، $P(B) = \frac{1}{3}$ و $P(B|A) = \frac{1}{7}$ ، آن‌گاه $P(B|A')$ کدام است؟

- (منشأ: آزمون چهارم - ۱۳۹۰)
- (۱) $\frac{1}{36}$ (۲) $\frac{1}{9}$ (۳) $\frac{1}{63}$ (۴) $\frac{1}{84}$

۳۴۵. اگر A و B دو پیشامد از فضای نمونه‌ای S باشند به طوری که $A \subseteq B$ ، $P(A) = \frac{1}{3}$ و $P(B) = \frac{2}{4}$ ، آن‌گاه $P(B|A')$ کدام است؟

- (منشأ: آزمون چهارم (کتاب) - ۱۳۹۰)
- (۱) $\frac{3}{8}$ (۲) $\frac{1}{2}$ (۳) $\frac{7}{12}$ (۴) $\frac{5}{8}$

۳۴۶. اگر A و B دو پیشامد از یک فضای نمونه‌ای هستند، اگر $P(A) = \frac{1}{4}$ ، $P(B|A) = \frac{1}{25}$ و $P(B) = \frac{1}{3}$ ، $P(B|A')$ کدام است؟

- (منشأ: آزمون چهارم - ۱۳۹۰)
- (۱) $\frac{2}{3}$ (۲) $\frac{1}{3}$ (۳) $\frac{1}{4}$ (۴) $\frac{1}{5}$

۳۴۷. یک فضای نمونه‌ای متشکل از ۴ برآمد a, b, c, d است. اگر $P(a) = \frac{1}{4}$ ، $P(b) = \frac{1}{6}$ ، $P(c) = 2P(d)$ باشد، حاصل $P(\{a \cdot c \cdot d\} | \{b \cdot c \cdot d\})$ کدام است؟

- (۱) $\frac{7}{18}$ (۲) $\frac{5}{18}$ (۳) $\frac{5}{9}$ (۴) $\frac{7}{9}$

۳۴۸. یک فضای نمونه‌ای متشکل از ۵ برآمد a, b, c, d, e است. اگر $P(a) = \frac{1}{4}$ و $P(\{a \cdot b \cdot c\}) = \frac{2}{3}$ باشد، احتمال $P(\{b \cdot c \cdot e\} | \{a \cdot b \cdot c\})$ کدام است؟

- (منشأ: آزمون چهارم - ۱۳۹۰)
- (۱) $\frac{3}{8}$ (۲) $\frac{5}{12}$ (۳) $\frac{5}{8}$ (۴) $\frac{3}{4}$

قانون احتمال کل

۳۴۹. پیشامدهای B_1, B_2, B_3 یک افراز از فضای نمونه‌ای S می‌باشند. به طوری که به ازای هر $i, i = 1, 2, 3$ ، $P(A|B_i) = \frac{1}{4}$ و $P(B_i) = \frac{1}{6}$ ، احتمال وقوع پیشامد A از این فضای نمونه‌ای کدام است؟

- (۱) $\frac{1}{2}$ (۲) $\frac{1}{6}$ (۳) $\frac{2}{3}$ (۴) $\frac{1}{4}$

۳۵۰. سه ظرف همانند داریم. در اولی و دومی هر کدام ۵ مهره سفید و ۳ مهره سیاه و در ظرف سوم ۴ مهره سفید و ۶ مهره سیاه است. اگر به

تصادف یک ظرف انتخاب و یک مهره بیرون آوریم، با کدام احتمال این مهره سیاه است؟

(مسئله ریاضی خارج از کشور) $\frac{17}{40}$ (۴) $\frac{13}{40}$ (۳) $\frac{11}{40}$ (۲) $\frac{9}{40}$ (۱)

۳۵۱. ظرف A دارای ۴ مهره سفید و ۵ مهره سیاه است و هر یک از دو ظرف یکسان B و C دارای ۶ مهره سفید و ۳ مهره سیاه است. به تصادف یکی

از سه ظرف را انتخاب کرده و ۴ مهره از آن خارج می‌کنیم. با کدام احتمال دو مهره از مهره‌های خارج‌شده، سفید است؟

(مسئله ریاضی خارج از کشور) $\frac{25}{63}$ (۱) $\frac{26}{63}$ (۲) $\frac{10}{21}$ (۳) $\frac{11}{21}$ (۴)

۳۵۲. سه ظرف داریم. در ظرف اول ۹ مهره سفید، در دومی ۹ مهره سیاه و در سومی ۴ مهره سفید و ۵ مهره سیاه قرار دارند. به تصادف از یک

ظرف ۲ مهره بیرون می‌آوریم. با کدام احتمال، لاقط یکی از این دو مهره سیاه است؟

(مسئله ریاضی) $\frac{1}{3}$ (۱) $\frac{11}{18}$ (۲) $\frac{25}{36}$ (۳) $\frac{13}{18}$ (۴)

۳۵۳. در جعبه اول ۴ مهره سفید و ۳ مهره سیاه و در جعبه دوم ۳ مهره سفید و ۶ مهره سیاه موجود است. به تصادف یکی از جعبه‌ها را انتخاب

نموده و دو مهره با هم و به تصادف از آن بیرون می‌آوریم. با کدام احتمال هر دو مهره سفید است؟

(مسئله ریاضی خارج از کشور) $\frac{31}{168}$ (۱) $\frac{11}{56}$ (۲) $\frac{17}{84}$ (۳) $\frac{13}{56}$ (۴)

۳۵۴. کیسه‌ای شامل دو ظرف است که در ظرف اول ۵ مهره سفید و ۳ مهره سیاه و در ظرف دوم ۶ مهره سفید و ۵ مهره سیاه است. اگر بخواهیم در

برداشتن یک مهره به تصادف از یک ظرف، احتمال سیاه و سفید برابر باشد، چند مهره سیاه باید به ظرف دوم اضافه کنیم؟

(۴) ۶ (۳) ۳ (۲) ۵ (۱) ۷

۳۵۵. دو ظرف داریم. در اولی ۵ مهره سفید و ۴ مهره سیاه و در دومی ۷ مهره سفید و ۱۰ مهره سیاه است. از ظرف اول یک مهره برداشته و بدون

رویت در ظرف دوم قرار می‌دهیم. آن‌گاه از ظرف دوم یک مهره بیرون می‌آوریم. با کدام احتمال این مهره سفید است؟

(مسئله ریاضی) $\frac{8}{27}$ (۱) $\frac{11}{27}$ (۲) $\frac{34}{81}$ (۳) $\frac{41}{81}$ (۴)

۳۵۶. در جعبه اول ۶ مهره سفید و ۳ مهره سیاه و در جعبه دوم ۴ مهره سفید و ۵ مهره سیاه قرار دارند. از جعبه اول یک مهره به دلخواه خارج و در جعبه

دوم می‌اندازیم سپس دو مهره از جعبه دوم بیرون می‌آوریم. با کدام احتمال، لاقط یکی از این دو مهره، سفید است؟

(مسئله ریاضی خارج از کشور) $\frac{20}{27}$ (۱) $\frac{24}{45}$ (۲) $\frac{28}{45}$ (۳) $\frac{23}{27}$ (۴)

۳۵۷. در جعبه‌ای ۳ مهره سفید و ۴ مهره سیاه موجود است. ۲ مهره بدون رویت از جعبه خارج می‌کنیم. سپس از بین باقی‌مانده مهره‌ها، به

تصادف یک مهره بیرون می‌آوریم. با کدام احتمال این مهره سفید است؟

(مسئله ریاضی خارج از کشور) $\frac{5}{14}$ (۱) $\frac{3}{7}$ (۲) $\frac{4}{7}$ (۳) $\frac{9}{7}$ (۴)

۳۵۸. در ظرفی ۴ مهره سفید و ۳ مهره سیاه است. به تصادف ۲ مهره از ظرف بدون رویت خارج‌شده است. از ۵ مهره باقی‌مانده، یک مهره خارج می‌کنیم.

با کدام احتمال این مهره سفید است؟

(مسئله ریاضی خارج از کشور) $\frac{12}{25}$ (۱) $\frac{3}{7}$ (۲) $\frac{16}{25}$ (۳) $\frac{4}{7}$ (۴)

۳۵۹. در دو ظرف به ترتیب ۲۴ و ۱۸ مهره یکسان موجود است. در ظرف اول ۶ مهره سفید و در ظرف دوم ۳ مهره سفید است. از اولی ۷ مهره و از

دومی ۵ مهره به تصادف برداشته و در ظرف دیگری می‌ریزیم. سپس از ظرف آخر یک مهره بیرون می‌آوریم. با کدام احتمال این مهره سفید

است؟

(مسئله ریاضی) $\frac{13}{22}$ (۱) $\frac{7}{36}$ (۲) $\frac{15}{22}$ (۳) $\frac{31}{144}$ (۴)

۳۶۰. در دو جعبه به ترتیب ۲۴ و ۱۵ عدد لامپ یکسان موجود است. در جعبه اول ۴ عدد و در جعبه دوم ۳ عدد لامپ معیوب‌اند. از اولی ۸ لامپ و

از دومی ۶ لامپ به تصادف برداشته و در یک جعبه جدید قرار می‌دهیم. با کدام احتمال یک لامپ انتخابی از جعبه جدید معیوب است؟

(مسئله ریاضی) $\frac{17}{105}$ (۱) $\frac{19}{105}$ (۲) $\frac{6}{35}$ (۳) $\frac{8}{35}$ (۴)

۳۶۱. در دو جعبه به ترتیب ۲۰ و ۱۲ لامپ موجود است. در جعبه اول ۴ لامپ و در جعبه دوم ۳ لامپ معیوب است. از جعبه اول ۵ لامپ و از جعبه دوم ۷

لامپ، به تصادف برداشته و در جعبه جدید قرار می‌دهیم. با کدام احتمال، یک لامپ انتخابی از جعبه جدید، معیوب است؟

(مسئله ریاضی) $\frac{5}{24}$ (۱) $\frac{11}{48}$ (۲) $\frac{13}{48}$ (۳) $\frac{7}{24}$ (۴)

۳۶۲. شش مهره با شماره‌های ۱۰۲۰۳۰۴۰۵۰۶ در ظرفی قرار دارند. دو مهره یا هم بیرون می‌آوریم و بدون جایگذاری، ۲ مهره دیگر خارج می‌کنیم. با کدام احتمال مهره با شماره ۲ خارج شده است؟

(مسئله ریاضی هفدهم - ۸۵)

- (۱) $\frac{1}{3}$ (۲) $\frac{2}{5}$ (۳) $\frac{3}{5}$ (۴) $\frac{2}{3}$

۳۶۳. یک تاس را پرتاب می‌کنیم. اگر عدد حاصل مضرب ۳ باشد، دو سکه را با هم و در غیر این صورت سه سکه را با هم پرتاب می‌کنیم. احتمال آن که دقیقاً ۲ بار «رو» ظاهر شود، چقدر است؟

- (۱) $\frac{1}{5}$ (۲) $\frac{2}{3}$ (۳) $\frac{1}{2}$ (۴) $\frac{1}{3}$

۳۶۴. سکه‌ای را پرتاب می‌کنیم. اگر «رو» بیاید تاس را می‌ریزیم، اگر «پشت» بیاید، سه سکه دیگر را با هم می‌ریزیم. در این آزمایش، احتمال این که دقیقاً یک سکه «رو» ظاهر شود، کدام است؟

(مسئله ریاضی - ۸۹)

- (۱) $\frac{3}{4}$ (۲) $\frac{9}{16}$ (۳) $\frac{5}{8}$ (۴) $\frac{11}{16}$

۳۶۵. در پرتاب یک تاس اگر ۶ ظاهر شود، مجاز به پرتاب دوم هستیم. در غیر این صورت دو سکه پرتاب می‌کنیم. با کدام احتمال حداقل یک سکه «رو» ظاهر می‌شود؟

(مسئله ریاضی)

- (۱) $\frac{2}{3}$ (۲) $\frac{3}{4}$ (۳) $\frac{5}{8}$ (۴) $\frac{5}{12}$

۳۶۶. تاس سالمی را پرتاب می‌کنیم. اگر زوج ظاهر شود، دو تاس دیگر و اگر فرد ظاهر شود، یک تاس دیگر پرتاب می‌کنیم. احتمال این که مجموع تاس‌های پرتاب شده برابر ۷ باشد، چقدر است؟

- (۱) $\frac{1}{3}$ (۲) $\frac{1}{9}$ (۳) $\frac{1}{18}$ (۴) $\frac{1}{36}$

۳۶۷. در ظرف اول ۳ مهره آبی و ۶ مهره قرمز و در ظرف دوم ۴ مهره آبی و ۵ مهره قرمز قرار دارند. دو تاس پرتاب می‌کنیم. اگر مجموع اعداد رو شده بیش‌تر از ۹ باشد، به تصادف از ظرف اول یک مهره خارج کرده در ظرف دوم می‌اندازیم. در غیر این صورت از ظرف دوم یک مهره برداشته و به ظرف اول اضافه می‌کنیم. اکنون یک مهره از ظرف با مهره بیش‌تر انتخاب می‌کنیم. احتمال این که مهره قرمز باشد، کدام است؟

(مسئله ریاضی - ۱۴۰)

- (۱) $\frac{157}{270}$ (۲) $\frac{165}{270}$ (۳) $\frac{173}{270}$ (۴) $\frac{180}{270}$

۳۶۸. در ظرف اول ۳ مهره آبی و ۶ مهره قرمز و در ظرف دوم ۴ مهره آبی و ۵ مهره قرمز قرار دارند. دو تاس پرتاب می‌کنیم. اگر مجموع اعداد رو شده ۷ یا ۱۰ باشد، به تصادف یک مهره از ظرف اول خارج کرده و در ظرف دوم می‌اندازیم. در غیر این صورت از ظرف دوم یک مهره برداشته و به ظرف اول اضافه می‌کنیم. اکنون یک مهره از ظرف با مهره بیش‌تر انتخاب می‌کنیم. احتمال این که مهره آبی باشد، کدام است؟

(مسئله ریاضی هفدهم - ۱۴۰)

- (۱) $\frac{7}{18}$ (۲) $\frac{11}{30}$ (۳) $\frac{19}{30}$ (۴) $\frac{11}{18}$

۳۶۹. در شهری ۷۰ درصد از راننده‌ها مرد و ۳۰ درصد زن هستند. احتمال این که یک زاننده مرد تخلفی مرتکب شده باشد، ۰/۸ و این احتمال برای زاننده زن ۰/۴۵ است. احتمال این که یک راننده در این شهر تخلفی مرتکب شده باشد، کدام است؟

(مشابه تمرین ۸ صفحه ۷۵ کتاب درس)

- (۱) ۰/۶۹۵ (۲) ۰/۶۶۵ (۳) ۰/۶۴ (۴) ۰/۶۲

۳۷۰. در آزمون ورودی دانشگاه، درصد شرکت‌کنندگان سه رشته تجربی، ریاضی و انسانی به ترتیب ۲۵، ۲۵، ۵۰ می‌باشد. هم‌چنین درصد شرکت‌کنندگان دختر در سه رشته به ترتیب ۶۰، ۴۰ و ۴۰ می‌باشد. اگر یک نفر به تصادف از بین آن‌ها انتخاب شود، با کدام احتمال دختر می‌باشد؟

- (۱) ۰/۴۵ (۲) ۰/۵ (۳) ۰/۵۲ (۴) ۰/۵۶

۳۷۱. احتمال انتقال نوعی بیماری ارثی از والدین به فرزند پسر، ۱۰ درصد و به فرزند دختر ۶ درصد است. با کدام احتمال فرزنددی که به دنیا می‌آید، این نوع بیماری را ندارد؟

(مسئله ریاضی)

- (۱) ۰/۹۱ (۲) ۰/۹۲ (۳) ۰/۹۳ (۴) ۰/۹۴

۳۷۲. ۹۵ درصد متهم‌هایی که به یک دادگاه آورده می‌شوند گناهکار می‌باشند. اگر در ۹۸ درصد مواقع هیئت متصفه تشخیص درست بدهد و یک نفر از متهم‌ها را به تصادف از بین آن‌ها انتخاب کنیم، با کدام احتمال گناهکار است؟

- (۱) ۰/۹۱۲ (۲) ۰/۹۳۲ (۳) ۰/۹۳۸ (۴) ۰/۹۴۶

۳۷۳* در یک روستا ۵۴ درصد جمعیت را مردان و ۴۶ درصد را زنان تشکیل می‌دهند. اگر ۶۰ درصد مردان و ۷۵ درصد زنان دفترچه سلامت

داشته باشند، با کدام احتمال یک فرد انتخابی به تصادف از بین آن‌ها، دفترچه سلامت دارد؟

(مباحثه نمودن خارج از کشور - ۱۶۰)

(۱) ۰/۶۵۸ (۲) ۰/۶۶۹ (۳) ۰/۶۸۵ (۴) ۰/۶۹۶

۳۷۴* احتمال انتقال بیماری مسری به افرادی که واکنس زده‌اند ۰/۰۲۵- و احتمال انتقال به افراد دیگر ۰/۲- است. $\frac{2}{5}$ گازگران یک کارگاه واکنس

زده‌اند. اگر فرد حامل بیماری به تصادف با یکی از کارگران ملاقات کند، با کدام احتمال، این بیماری منتقل می‌شود؟

(مباحثه نمودن - ۱۸۹)

(۱) ۰/۱۳ (۲) ۰/۱۴ (۳) ۰/۱۵ (۴) ۰/۱۶

۳۷۵ ۵۵ درصد دانشجویان سال اول، دختر و بقیه پسر هستند. ۶۰ درصد دختران و ۶۴ درصد پسران تمام واحدهای درسی خود را گذرانده‌اند.

چند درصد کل دانشجویان، تمام واحدهای درسی را گذرانده‌اند؟

(مباحثه نمودن خارج از کشور - ۱۸۸)

(۱) ۶۱/۴ (۲) ۶۱/۸ (۳) ۶۲/۴ (۴) ۶۲/۸

۳۷۶* در یک شرکت بسته‌بندی کالا، درصد محصولات تولیدی، با سه دستگاه A، B و C به ترتیب ۳۰، ۴۵ و ۲۵ می‌باشد. سی‌دانیم ۱ درصد از

محصولات A، ۲۰ درصد از محصولات B و ۴ درصد از محصولات C معیوب هستند. اگر یک کالا به تصادف از بین این محصولات انتخاب

کنیم، احتمال سالم بودن آن کدام است؟

(مباحثه نمودن خارج از کشور - ۱۸۹)

(۱) ۰/۹۷۵ (۲) ۰/۹۷۸ (۳) ۰/۹۸۳ (۴) ۰/۹۸۷

۳۷۷* نقشه‌های جغرافیایی یا دو دستگاه متمایز و جدا از هم چاپ می‌شوند. درصد چاپ معیوب در ماشین اول ۴ و در ماشین دوم ۵ می‌باشد و تعداد

نقشه‌های چاپ‌شده ماشین دوم سه برابر تعداد نقشه‌های چاپ‌شده ماشین اول است. اگر به تصادف یک نقشه انتخاب شود، با کدام احتمال این

نقشه معیوب است؟

(۱) ۰/۰۴۳۳ (۲) ۰/۰۴۲۵ (۳) ۰/۰۴۴۵ (۴) ۰/۰۴۷۵

۳۷۸ در یک خانواده، احتمال داشتن گروه خونی A برای فرزند پسر ۰/۳- و برای فرزند دختر ۰/۴- است. اگر این خانواده دو فرزند داشته باشد،

احتمال آن‌که گروه خونی هر دو فرزند از نوع A باشد، کدام است؟

(۱) ۰/۴۷ (۲) $\frac{۲۷}{۴۰۰}$ (۳) $\frac{۴۹}{۴۰۰}$ (۴) ۰/۴۹

قانون بیز

۳۷۹* اگر B_1, B_2, B_3 افزازی از فضای نمونه‌ای S باشند، با توجه به اطلاعات زیر، مقدار $P(B_2 | A)$ کدام است؟

$P(B_1) = 0.15, P(A | B_1) = 0.15, P(B_2) = 0.2, P(A | B_2) = 0.2, P(B_3) = 0.3, P(A | B_3) = 0.3, P(A) = 0.2$

(۱) $\frac{4}{23}$ (۲) $\frac{1}{16}$ (۳) $\frac{2}{11}$ (۴) $\frac{3}{4}$

۳۸۰ سه جعبه سیب همانند داریم. اولی شامل ۲ سیب سالم و ۱۳ سیب لکه‌دار، دومی شامل ۳ سیب سالم و ۷ سیب لکه‌دار و سومی تنها شامل

سیب‌های سالم است. با چشم بسته یکی از سه جعبه را انتخاب و از آن سیبی خارج می‌کنیم. اگر بدانیم سیب خارج‌شده سالم است، با کدام

احتمال از جعبه سوم خارج شده است؟

(۱) $\frac{19}{43}$ (۲) $\frac{30}{43}$ (۳) $\frac{25}{86}$ (۴) $\frac{47}{86}$

۳۸۱* در یک کتابخانه، ۴۰ درصد کتاب‌ها به زبان فارسی و بقیه به زبان لاتین هستند. در میان کتاب‌های فارسی ۳۰ درصد و در میان کتاب‌های لاتین

۴۰ درصد جلد نقوایی دارند. اگر کتابی را به تصادف انتخاب و مشاهده کنیم که جلد نقوایی دارد، احتمال آن‌که به زبان لاتین باشد، کدام است؟

(۱) ۰/۱۲ (۲) ۰/۲۴ (۳) $\frac{2}{3}$ (۴) $\frac{1}{3}$

۳۸۲* درون کیسه‌ای سه سکه وجود دارد. سکه اول همگن، دو طرف سکه دوم «پشت» و در سکه سوم، احتمال آمدن «رو» دو برابر احتمال آمدن «پشت»

است. یکی از سکه‌ها را به تصادف خارج می‌کنیم، سپس آن را پرتاب می‌کنیم و مشاهده می‌کنیم «پشت» است. با چه احتمالی سکه خارج‌شده

همگن است؟

(۱) $\frac{1}{6}$ (۲) $\frac{5}{11}$ (۳) $\frac{8}{11}$ (۴) $\frac{2}{11}$

۳۸۳ در یک جامعه روستایی، ۶۰ درصد جمعیت آن را مردان و ۴۰ درصد آن را زنان تشکیل می‌دهند. می‌دانیم ۸۰ درصد مردان و ۳۰ درصد زنان به کار

کشاورزی مشغول می‌باشند. اگر یک نفر از این جامعه به تصادف انتخاب کنیم و مشغول کار کشاورزی باشد، با کدام احتمال زن می‌باشد؟

(۱) $\frac{2}{5}$ (۲) $\frac{1}{5}$ (۳) $\frac{1}{6}$ (۴) $\frac{1}{3}$

آمار و احتمال / گاج

۳۸۴. در ظرف اول ۷ مهره سفید و ۵ مهره سیاه و در ظرف دوم ۴ مهره سفید و ۸ مهره سیاه موجود است. یک تاس را پرتاب می‌کنیم. اگر ۵ یا ۶ بیاید مجاز هستیم که از ظرف اول سه مهره و در غیر این صورت از ظرف دوم سه مهره بیرون آوریم. اگر از مهره‌های خارج شده دقیقاً ۲ مهره سفید باشد، با کدام احتمال از ظرف اول خارج شده‌اند؟

(۱) $\frac{22}{71}$ (۲) $\frac{35}{67}$ (۳) $\frac{36}{71}$ (۴) $\frac{32}{67}$

۳۸۵. ۶۰ درصد تلفن‌های شرکتی توسط تلفنچی A و مابقی توسط تلفنچی B وصل می‌شود. شخص A از هر ۵۰ تلفن یکی و شخص B از هر ۲۰ تلفن یکی را اشتباه وصل می‌کنند. شکایتی در خصوص اشتباه وصل شدن تلفن رسیده است. احتمال این‌که شخص A آن را وصل کرده باشد، چقدر است؟

(۱) $\frac{2}{3}$ (۲) $\frac{11}{12}$ (۳) $\frac{1}{375}$ (۴) $\frac{25}{625}$

۳۸۶. در یک شرکت تولیدی، ۵۵ درصد کالا محصول دستگاه A با احتمال ۳ درصد معیوب و ۴۵ درصد آن محصول دستگاه B با احتمال ۵ درصد معیوب است. دو دستگاه مستقل از هم هستند. اگر بگ کالا را به‌طور تصادفی انتخاب کنیم و بدانیم که معیوب است، با کدام احتمال این کالا محصول دستگاه A است؟

(استادان ریاضی خارج از کشور - ۱۹۴)

(۱) $\frac{11}{26}$ (۲) $\frac{6}{13}$ (۳) $\frac{7}{13}$ (۴) $\frac{15}{26}$

۳۸۷. فرض کنید از بین ۳ کارت با شماره‌های ۲ تا ۴ کاردتی را به تصادف انتخاب می‌کنیم و سپس سکه‌ای را به تعداد عدد کارت پرتاب می‌کنیم. اگر یک بار «رو» بیاید، احتمال این‌که شماره کارت خارج شده ۳ باشد، چقدر است؟

(مکتبه تمرین ۱۰ صفحه ۶۷ کتاب تست)

(۱) $\frac{3}{8}$ (۲) $\frac{1}{3}$ (۳) $\frac{1}{8}$ (۴) $\frac{2}{3}$

۳۸۸. در یک آزمون از دو کلاس A و B، ۴۰ درصد دانش‌آموزان کلاس A و ۶۰ درصد دانش‌آموزان کلاس B قبول شده‌اند. اگر تعداد داوطلبان در کلاس A دو برابر کلاس B باشد و فردی به تصادف از بین قبول شدگان انتخاب شود، با کدام احتمال این فرد از کلاس A است؟

(استادان ریاضی خارج از کشور - ۱۸۸)

(۱) $\frac{1}{43}$ (۲) $\frac{57}{107}$ (۳) $\frac{61}{107}$ (۴) $\frac{1}{63}$

۳۸۹. ۶۰ درصد واجدین شرایط در شهر A، ۷۰ درصد واجدین شرایط در شهر B و ۸۰ درصد واجدین شرایط در شهر C در انتخابات ریاست جمهوری شرکت کرده‌اند. اگر تعداد واجدین شرایط شهر A، دو برابر تعداد واجدین شرایط شهر B و سه برابر تعداد واجدین شرایط شهر C باشند و فردی به تصادف از بین رأی‌دهندگان این سه شهر انتخاب شود، با کدام احتمال از شهر B است؟

(مکتبه تمرین ۱۰ صفحه ۶۵ کتاب تست)

(۱) $\frac{31}{73}$ (۲) $\frac{27}{73}$ (۳) $\frac{25}{73}$ (۴) $\frac{31}{73}$

۳۹۰. جعبه‌ای شامل ۴ مهره سفید و ۵ مهره آبی است. دو مهره را به تصادف خارج کرده و آن‌ها را بدون توجه به رنگشان کنار می‌گذاریم و سپس مهره سومی را خارج می‌کنیم. اگر سومین مهره خارج شده سفید باشد، با کدام احتمال دو مهره اول خارج شده آبی هستند؟

(۱) $\frac{4}{14}$ (۲) $\frac{5}{14}$ (۳) $\frac{5}{28}$ (۴) $\frac{9}{28}$

۳۹۱. کتابی توسط سه ویراستار A، B و C، ویرایش شده است که سهم ویراستاری آن‌ها به ترتیب ۴۰، ۳۵ و ۲۵ درصد است. احتمال آن‌که این سه نفر ویراستاری بدون غلط داشته باشند به ترتیب ۰/۹۸، ۰/۹۶ و ۰/۹ می‌باشد. اگر صفحه‌ای ویراستاری شده باشد ولی غلط نداشته باشد، آن‌گاه احتمال آن‌که مسئول ویراستاری آن صفحه، ویراستار A باشد چقدر است؟

(مکتبه تمرین ۱۵ صفحه ۶۷ کتاب تست)

(۱) $\frac{352}{953}$ (۲) $\frac{361}{953}$ (۳) $\frac{368}{953}$ (۴) $\frac{392}{953}$

۳۹۲. دانش‌آموزی در یک آزمون تستی چهارگزینه‌ای، گزینه ۴۰ درصد سوالات را به تصادف انتخاب کرده است. اگر بدانیم این دانش‌آموز، تستی را درست پاسخ داده است، با کدام احتمال این تست را به تصادف پاسخ داده است؟

(۱) $\frac{1}{4}$ (۲) $\frac{1}{6}$ (۳) $\frac{1}{7}$ (۴) $\frac{1}{3}$

قسمت چهارم: پیشامدهای مستقل و وابسته

پیشامدهای مستقل

۳۹۳. اگر دو پیشامد A و B مستقل باشند، $P(A) = \frac{1}{4}$ و $P(B) = \frac{1}{3}$ ، حاصل $P(A \cup B')$ کدام است؟

(۱) $\frac{1}{4}$ (۲) $\frac{3}{4}$ (۳) $\frac{1}{3}$ (۴) $\frac{1}{2}$

اگر A پیشامدی باشد که در آن تاس سفید عدد ۳ آمده باشد، آن گاه:

$$A \cap B = \{(3, 5)\} \Rightarrow n(A \cap B) = 1$$

$$\Rightarrow P(A|B) = \frac{n(A \cap B)}{n(B)} = \frac{1}{5}$$

۲ ۳ ۱ ۲ ۱ ۲ ۱ ۲ ۱ ۲ ۱ ۲

در پرتاب دو تاس، در $3 \times 3 = 9$ حالت هر دو عدد رو شده، اول می‌باشند:

$$B = \{(2, 2), (2, 3), (2, 5), (3, 2), (3, 3), (3, 5), (5, 2), (5, 3), (5, 5)\}$$

$$A \Rightarrow A \cap B = \{(2, 2), (2, 3), (2, 5), (5, 2), (5, 3)\}$$

$$\Rightarrow n(A \cap B) = 5 \Rightarrow P(A|B) = \frac{n(A \cap B)}{n(B)} = \frac{5}{9}$$

۲ ۳ ۱ ۲ ۱ ۲ ۱ ۲ ۱ ۲

اگر B پیشامدی باشد که برآمد حاصل، مضرب ۳ نباشد، آن گاه: $B = \{1, 2, 4, 5\}$

$$A \Rightarrow A \cap B = \{2\} \Rightarrow P(A|B) = \frac{1}{4}$$

۲ ۳ ۱ ۲ ۱ ۲ ۱ ۲ ۱ ۲

عدد حاصل زوج است: $B \Rightarrow B = \{2, 4, 6\}$

$$A \Rightarrow A \cap B = \{4, 6\} \Rightarrow P(A|B) = \frac{2}{3}$$

۲ ۳ ۱ ۲ ۱ ۲ ۱ ۲ ۱ ۲

اگر B پیشامدی باشد که در آن حاصل جمع شماره‌های دو تاس کمتر از ۶ باشد، آن گاه:

$$B = \{(1, 1), (1, 2), (1, 3), (1, 4), (2, 1), (2, 2), (2, 3), (3, 1), (3, 2), (3, 3), (4, 1)\}$$

اگر A پیشامدی باشد که در آن حداقل شماره یکی از تاس‌های رو شده ۲ باشد، آن گاه:

$$A \cap B = \{(1, 2), (2, 1), (2, 2), (2, 3), (3, 2)\}$$

$$\Rightarrow P(A|B) = \frac{n(A \cap B)}{n(B)} = \frac{5}{10} = \frac{1}{2}$$

۲ ۳ ۱ ۲ ۱ ۲ ۱ ۲ ۱ ۲

احتمال خواسته شده، احتمال شرطی است. با فرض‌های زیر، داریم:

B : حداقل یکی از تاس‌ها ۵ ظاهر شود. A : دو تاس دو عدد متوالی را نشان دهد.

$$B = \{(1, 5), (2, 5), (3, 5), (4, 5), (5, 5), (6, 5), (5, 1), (5, 2), (5, 3), (5, 4), (5, 6)\} \Rightarrow n(B) = 11$$

$$A \cap B = \{(4, 5), (5, 4), (5, 6), (6, 5)\} \Rightarrow n(A \cap B) = 4$$

$$\Rightarrow P(A|B) = \frac{n(A \cap B)}{n(B)} = \frac{4}{11}$$

۲ ۳ ۱ ۲ ۱ ۲ ۱ ۲ ۱ ۲

اگر B (پیشامد رخ داده) تمام حالت‌هایی در پرتاب دو تاس باشد که حداقل یکی از تاس‌ها مضرب ۳ نباشد، آن گاه B' پیشامدی است که هر دو تاس مضرب ۳ است، بنابراین:

$$B' = \{(3, 3), (3, 6), (6, 3), (6, 6)\}$$

فضای نمونه‌ای پرتاب دو تاس (S)، ۳۶ عضو دارد، بنابراین:

$$B = S - B' \Rightarrow n(B) = 36 - 4 = 32$$

اگر A پیشامدی باشد که جمع دو عدد رو شده مضرب ۳ باشد، آن گاه:

$$A \cap B = \{(1, 2), (2, 1), (1, 5), (2, 4), (4, 2), (5, 1), (4, 5), (5, 4)\}$$

$$\Rightarrow n(A \cap B) = 8 \Rightarrow P(A|B) = \frac{n(A \cap B)}{n(B)} = \frac{8}{32} = \frac{1}{4}$$

۲ ۳ ۱ ۲ ۱ ۲ ۱ ۲ ۱ ۲

اگر x جمله اول و d قدرنسبت یک دنباله حسابی باشند، آن گاه جملات

$$x, x+d, x+2d, \dots$$

دنباله به صورت روبه‌رو است.

اگر فرض کنیم $P(a) = x$ ، آن گاه:

$$P(b) = x + d = x + \frac{2}{15} \quad P(c) = x + 2d = x + \frac{4}{15}$$

همواره $P(S) = 1$ می‌باشد، بنابراین:

$$P(a) + P(b) + P(c) + P(d) = 1 \Rightarrow P(d) = \frac{1}{5}$$

$$\Rightarrow x + (x + \frac{2}{15}) + (x + \frac{4}{15}) + \frac{1}{5} = 1 \Rightarrow 3x + \frac{2}{15} + \frac{4}{15} + \frac{1}{5} = 1$$

$$\Rightarrow 3x + \frac{2+4+3}{15} = 1 \Rightarrow 3x = 1 - \frac{9}{15} = \frac{6}{15} \Rightarrow x = \frac{2}{15} = P(a)$$

۲ ۳ ۱ ۲ ۱ ۲ ۱ ۲ ۱ ۲

اگر x جمله اول و q قدرنسبت یک دنباله هندسی باشد، آن گاه جملات

دنباله به صورت مقابل می‌باشد:

$$x, xq, xq^2, \dots$$

با فرض $P(a) = x$ و $q = \frac{1}{2}$ ، داریم:

$$P(b) = xq = \frac{1}{2}x \quad P(c) = xq^2 = \frac{1}{4}x$$

از طرفی $P(S) = 1$ می‌باشد، پس داریم:

$$P(a) + P(b) + P(c) = 1 \Rightarrow x + \frac{1}{2}x + \frac{1}{4}x = 1 \Rightarrow \frac{4x + 2x + x}{4} = 1 \Rightarrow \frac{7x}{4} = 1$$

$$\Rightarrow 7x = 4 \Rightarrow x = \frac{4}{7} \Rightarrow P(c) = \frac{1}{4}x = \frac{1}{4} \times \frac{4}{7} = \frac{1}{7}$$

۲ ۳ ۱ ۲ ۱ ۲ ۱ ۲ ۱ ۲

فضای نمونه‌ای را به صورت $S = \{1, 2, 3, 4, 5\}$ در نظر می‌گیریم. طبق

فرض داریم:

$$P(k \text{ اصابت به ناحیه}) = \frac{k}{a}$$

$$\Rightarrow P(1) = \frac{1}{a}, P(2) = \frac{2}{a}, P(3) = \frac{3}{a}, P(4) = \frac{4}{a}, P(5) = \frac{5}{a}$$

$$P(S) = 1 \Rightarrow P(1) + \dots + P(5) = 1$$

$$\Rightarrow \frac{1}{a} + \frac{2}{a} + \frac{3}{a} + \frac{4}{a} + \frac{5}{a} = 1 \Rightarrow \frac{15}{a} = 1 \Rightarrow a = 15$$

اگر A پیشامد اصابت به ناحیه با شماره زوج باشد، آن گاه:

$$A = \{2, 4\} \Rightarrow P(A) = P(2) + P(4) = \frac{2}{15} + \frac{4}{15} = \frac{6}{15} = \frac{2}{5}$$

۲ ۳ ۱ ۲ ۱ ۲ ۱ ۲ ۱ ۲

فضای نمونه‌ای S به صورت $S = \{1, 2, 3\}$ است و در این فضای نمونه‌ای داریم:

$$P(1) = \frac{4}{6}, P(2) = P(3) = \frac{1}{6}$$

اگر A پیشامد آن باشد که عدد رو شده فرد باشد، آن گاه:

$$A = \{1, 3\} \Rightarrow P(A) = P(1) + P(3) = \frac{4}{6} + \frac{1}{6} = \frac{5}{6}$$

۲ ۳ ۱ ۲ ۱ ۲ ۱ ۲ ۱ ۲

فرض کنیم ابتدا تاس سفید و سپس تاس سیاه پرتاب شده است. اگر B پیشامدی باشد که در آن جمع دو عدد رو شده برابر ۸ باشد، آن گاه:

$$B = \{(2, 6), (3, 5), (4, 4), (5, 3), (6, 2)\} \Rightarrow n(B) = 5$$

۳۱۶

فضای نمونه‌ای جنسیت فرزندان یک خانواده با سه فرزند، ۸ عضو دارد. اگر B پیشامدی باشد که در آن یکی از فرزندان پسر باشد، آن‌گاه:

$$B = S - \{(د، د، د)\} \Rightarrow n(B) = 8 - 1 = 7$$

$A \Rightarrow A \cap B = \{(پ، د، د)، (د، پ، د)، (د، د، پ)\}$ دو فرزند دختر

$$\Rightarrow n(A \cap B) = 3 \Rightarrow P(A|B) = \frac{3}{7}$$

۳۱۷

فضای نمونه‌ای جنسیت فرزندان یک خانواده ۲ فرزند، ۸ عضو دارد که فقط در یک حالت $(پ، پ، پ)$ هیچ فرزندی دختر نمی‌باشد بنابراین اگر B پیشامدی باشد که در آن حداقل یک فرزند دختر باشد، آن‌گاه B عضو دارد و اگر A پیشامدی باشد که در آن حداقل دو فرزند دختر باشند، آن‌گاه:

$$n(A \cap B) = \binom{2}{2} + \binom{2}{1} = 4 \Rightarrow P(A|B) = \frac{4}{7}$$

۳۱۸

$B = \{(د، د، د)، (پ، د، د)، (د، د، پ)\}$ فرزند اول دختر است A - لااقل یکی از فرزندان پسر

$$\Rightarrow A \cap B = \{(د، د، پ)، (د، پ، د)، (پ، د، د)\}$$

$$\Rightarrow P(A|B) = \frac{n(A \cap B)}{n(B)} = \frac{3}{4}$$

۳۱۹

$B = \{(پ، پ، پ)، (د، د، پ)، (پ، د، پ)\}$ حداقل یکی از فرزندان پسر است $A \Rightarrow A \cap B = \{(د، د، پ)، (پ، د، پ)\}$ خانواده دارای فرزند دختر است

$$\Rightarrow P(A|B) = \frac{2}{3}$$

۳۲۰

پیشامدهای A و B را به صورت زیر تعریف می‌کنیم و سپس احتمال شرطی $P(A|B)$ را به دست می‌آوریم:

B : عدد تاس زوج و فقط ۲ برتاب از ۳ برتاب سکه «پشت» بیاید.

از اصل ضرب برای بدست آوردن $n(B)$ استفاده می‌کنیم:

تعداد عددهای زوج تاس

$$n(B) = 3 \times \binom{2}{1} = 3 \times 2 = 6$$

۳ برتاب سکه ۲ بار «پشت» بیاید.

A : عدد رو شده تاس ۲ و برتاب اول سکه «پشت» بیاید.

عدد تاس ۲ باشد

$$n(A \cap B) = 1 \times 2 = 2$$

$\{(ر، پ، پ، پ)، (پ، پ، ر، پ)\}$

$$\Rightarrow P(A|B) = \frac{n(A \cap B)}{n(B)} = \frac{2}{6}$$

۳۲۱

فضای نمونه‌ای برتاب ۳ بار یک تاس، $6 \times 6 \times 6 = 216$ حالت دارد که در نصف حالت‌ها مجموع سه عدد، عددی فرد است. بنابراین اگر B پیشامدی باشد که مجموع سه عدد رو شده، فرد باشد، آن‌گاه: $n(B) = \frac{216}{2} = 108$ فرض کنیم A پیشامدی است که در آن لااقل یکی از اعداد رو شده ۲ باشد، در این صورت:

$$A \cap B: \begin{cases} 2, 2, 0 \Rightarrow \text{تعداد} = 3 \times 3! = 18 \\ \quad \quad \quad \downarrow \\ \quad \quad \quad \text{تعداد اعداد فرد} \\ 2, 0, 6 \Rightarrow \text{تعداد} = 3 \times 3! = 18 \\ 2, 2, 0 \Rightarrow \text{تعداد} = \frac{3 \times 3!}{2!} = 9 \\ \quad \quad \quad \downarrow \\ \quad \quad \quad \text{۲ بار تکرار ۲} \end{cases}$$

$$\Rightarrow n(A \cap B) = 45 \Rightarrow P(A|B) = \frac{n(A \cap B)}{n(B)} = \frac{45}{108} = \frac{5}{12}$$

۳۲۲

فضای نمونه‌ای برتاب ۳ بار یک تاس، ۲۱۶ عضو دارد که در آن $n(B) = 216 - 2 = 214$ حالت، مجموع فرد است. پس اگر B پیشامدی باشد که در آن مجموع سه عدد رو شده فرد باشد، آن‌گاه: $n(B) = 108$ اگر A پیشامدی باشد که در آن حداقل یکی از اعداد رو شده ۳ باشد، آن‌گاه برای $A \cap B$ ، حالت‌های زیر به‌وجود می‌آید:

- (۱) مجموعه سه عدد $5 \leftarrow 1, 0, 3 \leftarrow 3$ حالت
- (۲) مجموعه سه عدد $7 \leftarrow 3, 0, 3 \leftarrow 3$ حالت
- (۳) مجموعه سه عدد $9 \leftarrow 2, 0, 3 \leftarrow 3$ حالت
- (۴) مجموعه سه عدد $11 \leftarrow 4, 0, 3 \leftarrow 3$ حالت
- (۵) مجموعه سه عدد $13 \leftarrow 5, 0, 3 \leftarrow 3$ حالت
- (۶) مجموعه سه عدد $15 \leftarrow 6, 0, 3 \leftarrow 3$ حالت
- (۷) مجموعه سه عدد $17 \leftarrow$ امکان پذیر نیست (مجموع دو عدد دیگر ۱۴ نمی‌شود)

$$\Rightarrow P(A|B) = \frac{23}{54} = \frac{23}{108}$$

۳۲۵

فضای نمونه‌ای فرزندان خانواده با ۴ فرزند، $2^4 = 16$ عضو دارد. اگر B پیشامدی باشد که در آن، این خانواده حداقل یک فرزند پسر داشته باشد، آن‌گاه B شامل تمام اعضای فضای نمونه‌ای S به غیر از $(د، د، د، د)$ است، بنابراین: $n(B) = n(S) - 1 = 16 - 1 = 15$

اگر A پیشامدی باشد که این خانواده دارای ۳ فرزند پسر باشد، آن‌گاه: $A \cap B = \{(پ، پ، پ، د)، (پ، پ، د، پ)، (پ، د، پ، پ)\}$

$$\Rightarrow n(A \cap B) = 4 \Rightarrow P(A|B) = \frac{n(A \cap B)}{n(B)} = \frac{4}{15}$$

۱۰۷. سه دوندۀ a ، b و c در یک مسابقه شرکت می‌کنند. احتمال برد a ، نصف احتمال برد b و احتمال برد b ، $\frac{1}{4}$ احتمال برد c است. (تهاب - شماره ۱۹۱)
 (ا) احتمال برد هر یک از دوندها را بیابید.
 (ب) احتمال آن‌که b یا c برنده شوند را تعیین کنید.

۱۰۸. اگر فضای نمونه‌ای یک تجربه تصادفی باشد و داشته باشیم $P(1) = 2P(2) = 3P(3) = 4P(4)$ ، مطلوب است محاسبه $P(1)$. (تهاب - شماره ۱۹۰)

۱۰۹. تاسی به گونه‌ای ساخته شده است که احتمال وقوع هر عدد اول ۳ برابر احتمال وقوع هر عدد غیراول است. اگر در یک پرتاب این تاس، A پیشامد وقوع عددی کوچک‌تر از ۴ باشد، $P(A)$ را بیابید. (تهاب - شماره ۱۸۸)

۱۱۰. در فضای نمونه‌ای $S = \{a \cdot b \cdot c \cdot d\}$ داریم $P(\{a \cdot d\}) = \frac{5}{V}$ ، $P(\{a \cdot b \cdot c\}) = \frac{17}{35}$ و b و c هم‌شانس هستند. احتمال هر یک را بیابید. (تهاب - شماره ۱۸۷)

۱۱۱. تاسی به گونه‌ای ساخته شده است که احتمال وقوع هر عدد کوچک‌تر از ۴، سه برابر احتمال وقوع هر عدد بزرگ‌تر یا مساوی ۴ است. اگر در یک پرتاب این تاس، A پیشامد وقوع عددی زوج باشد، $P(A)$ را بیابید. (تهاب - شماره ۱۹۴)

۱۱۲. علی، حسین و رضا در یک مسابقه شرکت می‌کنند. اگر احتمال برد علی دو برابر احتمال برد حسین و احتمال برد حسین $\frac{1}{4}$ احتمال برد رضا باشد، احتمال این‌که حسین یا رضا برنده شوند، چقدر است؟ (تهاب - شماره ۱۹۰)

۱۱۳. اگر فضای نمونه‌ای یک آزمایش تصادفی $S = \{1 \cdot 2 \cdot 3\}$ باشد و $P(3) = 2P(2) = a$ و $P(1) = a^2$ ، مقدار a و $P(2)$ را به دست آورید. (تهاب - شماره ۱۹۴)

۱۱۴. در پرتاب یک تاس، احتمال مشاهده هر عدد، متناسب با مربع همان عدد است. اگر این تاس را به هوا پرتاب کنیم، احتمال این‌که عدد مضرب ۳ مشاهده شود را تعیین کنید. (مشابه تمرین ۲ صفحه ۱۵ کتاب دست)

۱۱۵. در تیراندازی به یک صفحه دایره‌ای شکل، مطابق شکل روبه‌رو که به چهار ناحیه مجزا تقسیم شده است، فرض کنید احتمال اصابت تیر به ناحیه اول، x باشد. اگر احتمال اصابت به ناحیه k ام، $x(3k-2)$ باشد: (مشابه تمرین ۵ صفحه ۱۵ کتاب دست)
 (مرز بین دو ناحیه را جزء ناحیه کوچک‌تر محسوب کنید).
 (ا) احتمال اصابت تیر به هر ناحیه را به دست آورید.
 (ب) آیا احتمال اصابت تیر به یکی از ناحیه‌های اول یا چهارم با احتمال اصابت تیر به یکی از ناحیه‌های دوم یا سوم برابر است؟



۱۱۶. در یک تجربه تصادفی، $S = \{x \cdot y \cdot z\}$ فضای نمونه‌ای است. اگر $P(x)$ ، $P(y)$ و $P(z)$ به ترتیب یک دنباله هندسی با قدرنسبت $\frac{1}{4}$ تشکیل دهند، احتمال وقوع هر کدام از این برآمدها را به دست آورید.

۱۱۷. در یک تجربه تصادفی $S = \{a \cdot b \cdot c \cdot d\}$ فضای نمونه‌ای است. اگر $P(a)$ ، $P(b)$ ، $P(c)$ و $P(d)$ یک دنباله حسابی با قدرنسبت $\frac{1}{10}$ تشکیل دهند، احتمال وقوع پیشامد $\{a \cdot c\}$ را به دست آورید. (مشابه تمرین ۴ صفحه ۱۵ کتاب دست)

قسمت سوم: احتمال شرطی

۱۱۸. دو تاس سفید و سیاه را پرتاب می‌کنیم. (مشابه مثال صفحه ۵۴ کتاب دست)
 (ا) اگر بدانیم مجموع دو تاس ۸ شده است، احتمال این‌که تاس سفید ۵ آمده باشد را به دست آورید.
 (ب) اگر بدانیم تاس سفید ۵ آمده است، احتمال این‌که مجموع دو تاس ۸ شده باشد را به دست آورید.

۱۱۹. خانوادای دارای ۴ فرزند است. اگر بدانیم این خانواده دقیقاً سه فرزند دختر دارد، احتمال آن‌که فرزند اول این خانواده پسر باشد را به دست آورید. (مشابه تمرین ۱ صفحه ۷۴ کتاب دست)

۱۲۰. سکه‌ای را سه بار پرتاب می‌کنیم. می‌دانیم که دست‌کم یک بار «پشت» آمده است. احتمال این‌که دقیقاً دو بار «رو» آمده باشد چقدر است؟ (مشابه مثال صفحه ۵۴ کتاب دست)

۱۲۱. درون جعبه‌ای ۴ مهره سفید، ۵ مهره سیاه و ۳ مهره زرد وجود دارد. از این جعبه سه مهره به تصادف خارج می‌کنیم. در هر یک از قسمت‌های زیر، احتمال خواسته شده را به دست آورید.

(ا) اگر حداقل دو مهره خارج شده سفید باشند، احتمال آن‌که دقیقاً ۲ مهره خارج شده سفید باشد.

(ب) اگر سه مهره خارج شده هم‌رنگ باشند، احتمال آن‌که هر سه سفید باشند.

(ب) اگر دقیقاً یکی از مهره‌های خارج شده سیاه باشد، احتمال آن‌که رنگ مهره‌های خارج شده متفاوت باشد.

۱۲۲. اگر $P(A') = \frac{1}{4}$ ، $P(B) = \frac{2}{3}$ و $P(A \cup B) = \frac{4}{5}$ باشد، مقدار $P(A|B)$ را به دست آورید.

۱۲۳. تیم فوتبال یک مدرسه، ۱۰ بازیکن دارد که قد هیچ دو نفری برابر نیست. اگر یکی از بازیکنان را به تصادف انتخاب کنیم:

(مشاهده مثال صفحه ۵۵ کتاب درسی)

(ا) احتمال این که آن بازیکن بلندقدترین بازیکن تیم باشد، چقدر است؟

(ب) بازیکن دیگری را به تصادف انتخاب می‌کنیم و مشاهده می‌کنیم که از بازیکن اول کوتاه‌قدتر است. در این صورت احتمال این که بازیکن اول بلندقدترین بازیکن تیم باشد، چقدر است؟

۱۲۴. چهار نفر به نام‌های a ، b ، c ، d در یک مسابقه شرکت کرده‌اند. اگر شانس پیروزی a ، دو برابر b و سه برابر c باشد، d هم شانس باشند و بدانیم b پیروز نشده است، احتمال پیروزی a را به دست آورید.

(کتاب درسی صفحه ۵۶ کتاب درسی)

۱۲۵. فرض کنید B پیشامدی با احتمال مثبت باشد، نشان دهید:

$$P((A_1 \cup A_2) | B) = P(A_1 | B) + P(A_2 | B)$$

(ا) اگر A_1 و A_2 دو پیشامد ناسازگار باشند، آن‌گاه:

$$P(A' | B) = 1 - P(A | B)$$

(ب) برای هر پیشامد A داریم:

۱۲۶. در کیسه‌ای ۳ گوی سفید، ۲ گوی سیاه و ۲ گوی زرد است. از این کیسه سه گوی به ترتیب و بدون جایگذاری خارج می‌کنیم. مطلوب است احتمال این که:

(مشاهده مثال صفحه ۵۶ کتاب درسی)

(ب) گوی اول سفید، گوی دوم سیاه و گوی سوم زرد باشد.

(ا) گوی اول و دوم سفید و گوی سوم زرد باشد.

۱۲۷. والیبالیستی هر بار که اقدام به زدن آبنشار می‌کند، اگر روحیه خوبی داشته باشد، آبنشار به احتمال ۸۰ درصد تبدیل به امتیاز می‌شود و اگر روحیه‌اش ضعیف باشد، احتمال گرفتن امتیازش به ۵۰ درصد می‌رسد. به علاوه می‌دانیم او اگر آبنشاری را به امتیاز تبدیل کند، در آبنشار بعدی روحیه خوبی دارد و در غیر این صورت روحیه‌اش ضعیف است. فرض کنید این والیبالیست، قبل از اولین آبنشار روحیه خوبی داشته باشد. احتمال این که از سه آبنشار متوالی، دقیقاً دو آبنشار آخر تبدیل به امتیاز شود، چقدر است؟

۱۲۸. فرض کنید سه کارت داریم، دو روی کارت اول سبز و دو روی کارت دوم قرمز است و یک روی کارت سوم سبز و روی دیگری قرمز است. کارتی را به تصادف برمی‌داریم و مشاهده می‌کنیم که یک روی آن سبز است. احتمال این که هر دو روی آن سبز باشد چقدر است؟

۱۲۹. قانون ضرب احتمال برای سه پیشامد را ثابت کنید:

$$P(A_1 \cap A_2 \cap A_3) = P(A_1)P(A_2 | A_1)P(A_3 | A_1 \cap A_2)$$

(تمرین ۴ صفحه ۶۵ کتاب درسی)

(A_1 ، A_2 و A_3 سه پیشامد با احتمال‌های ناصفر می‌باشند.)

۱۳۰. اگر B_1 ، B_2 و B_3 یک افراز فضای نمونه‌ای S و A یک پیشامد از آن با اطلاعات زیر باشد، مقدار $P(A)$ را به دست آورید.

$$P(B_1) = \frac{1}{4}, P(A | B_1) = \frac{1}{5}, P(B_2) = \frac{2}{5}, P(A | B_2) = \frac{3}{5}, P(A | B_3) = \frac{1}{4}$$

۱۳۱. در دو جعبه یکسان، مهره‌هایی به این شرح قرار دارد که در جعبه اول، ۳ مهره سفید و ۷ مهره قرمز و در جعبه دوم، ۱۰ مهره سفید و ۵ مهره قرمز، موجود است. مهره‌ای را از جعبه اول خارج نموده و در جعبه دوم قرار می‌دهیم. حال مهره‌ای به تصادف از جعبه دوم انتخاب می‌کنیم، احتمال آن که این مهره قرمز باشد را بیابید.

(مشاهده تمرین ۷ صفحه ۶۵ کتاب درسی)

۱۳۲. سه ظرف همانند داریم. اولین ظرف شامل ۵ مهره سفید و ۱۱ مهره سیاه است. دومین ظرف شامل ۳ مهره سفید و ۹ مهره سیاه و سومین ظرف تنها شامل مهره‌های سفید می‌باشد. با چشم بسته یکی از سه ظرف را انتخاب و از آن مهره‌ای درمی‌آوریم. احتمال این که مهره سفید باشد، چقدر است؟

۱۳۳. دو ظرف همانند داریم. اولی شامل ۱۰ مهره سفید و ۸ مهره سیاه و دومی شامل ۷ مهره سفید و ۵ مهره سیاه می‌باشد. از ظرف اول ۲ مهره و از ظرف دوم ۳ مهره انتخاب کرده و در ظرف جدیدی قرار می‌دهیم. سپس از ظرف جدید مهره‌ای خارج می‌کنیم؛ به کدام احتمال، مهره خارج شده سفید است؟

(مشاهده تمرین ۹ صفحه ۶۶ کتاب درسی)

۱۳۴. ۶۰ درصد کارمندان اداره‌ای مرد و بقیه زن هستند. ۶۵ درصد مردان و ۵۰ درصد زنان این اداره تحصیلات دانشگاهی دارند. اگر یک نفر از بین کارمندان این اداره به تصادف انتخاب کنیم، احتمال آن که تحصیلات دانشگاهی داشته باشد را به دست آورید.

(مشاهده تمرین ۱۱ صفحه ۶۷ کتاب درسی)

۱۳۵. احتمال مبتلا شدن به یک بیماری خاص برای افرادی که ورزش می‌کنند، ۰/۱ و برای افرادی که ورزش نمی‌کنند برابر ۰/۲۵ است. اگر ۴۰ درصد افراد جامعه‌ای ورزش کنند و یک نفر به تصادف از این جامعه انتخاب کنیم، با چه احتمالی به این بیماری خاص مبتلا می‌شود؟

(مطالعه تمرین ۱۱ صفحه ۷۵ کتاب ریاضی)

۱۳۶. فرض کنید B_1, B_2, \dots, B_n پیشامدهایی با احتمال ناصفر باشند که فضای نمونه‌ای را افراز می‌کنند. در این صورت برای هر پیشامد دلخواه A ، ثابت کنید:

$$P(A) = P(B_1)P(A|B_1) + P(B_2)P(A|B_2) + \dots + P(B_n)P(A|B_n)$$

۱۳۷. فرض کنید A و B ، دو پیشامد از فضای نمونه‌ای S باشند. ثابت کنید: (احتمال پیشامدهای B و B' مثبت هستند.)

۱۳۸. درون جعبه A ، ۶ لامپ سالم و ۲ لامپ معیوب، درون جعبه B ، ۵ لامپ سالم و ۳ لامپ معیوب و درون جعبه C ، ۷ لامپ سالم و ۵ لامپ معیوب وجود دارد. یکی از جعبه‌ها را به تصادف انتخاب کرده و لامپی را به تصادف از آن خارج می‌کنیم. اگر بدانیم لامپ خارج شده سالم است، احتمال آن که لامپ از جعبه B خارج شده باشد را به دست آورید.

۱۳۹. در یک شرکت قطعه‌سازی وقتی خط تولید سالم است، تنها ۳ درصد از قطعه‌ها غیراستاندارد هستند. ولی وقتی یکی از قطعات اصلی خط تولید دچار عیب می‌شود، این مقدار به ۸ درصد افزایش پیدا می‌کند. براساس تجربه‌های قبلی، احتمال خراب شدن خط تولید پس از دو ماه در اثر معیوب شدن آن قطعه ۴ درصد است. ۲ ماه پیش این خط تولید به طور کامل سرویس شده بود. مسئول کنترل کیفیت کارخانه به تصادف یک قطعه را مورد بررسی قرار می‌دهد و مشاهده می‌کند که غیراستاندارد است. احتمال سالم بودن خط تولید را به دست آورید.

(مطالعه مثال صفحه ۷۸ کتاب ریاضی)

۱۴۰. دسته‌ای کارت شامل ۵ کارت دو رو سبز و ۴ کارت یک رو سفید و یک رو سبز است. گارتی را به تصادف از این دسته انتخاب می‌کنیم و یک روی آن را می‌بینیم.

(مطالعه مثال صفحه ۷۰ کتاب ریاضی)

(ا) احتمال این که آن رو سبز باشد چقدر است؟

(ب) اگر بدانیم آن رو که دیده‌ایم سبز می‌باشد، احتمال آن که روی دیگر آن نیز سبز باشد، چقدر است؟

۱۴۱. کشوری دارای ۲ شرکت خودروسازی A و B است که به ترتیب ۴۵ و ۵۵ درصد کل تولیدات را انجام می‌دهند. شرکت A ، ۲۰ درصد و شرکت B ، ۱۵ درصد محصولات را به کشورهای دیگر صادر می‌کنند. اگر یک خودرویی که در این کشور تولید می‌شود را به تصادف انتخاب کنیم، آن گاه.....

(ا) با چه احتمالی این خودرو صادر می‌شود؟

(ب) اگر بدانیم خودروی انتخاب شده صادراتی است، با چه احتمالی تولید شرکت خودروسازی B است؟

۱۴۲. شخصی برای رفتن به محل کار از مترو، اتوبوس یا تاکسی استفاده می‌کند که درصد استفاده از آن‌ها در هر روز به ترتیب ۶۰، ۳۰ و ۱۰ می‌باشد و هنگامی که از آن‌ها استفاده می‌کند، احتمال دیر رسیدن به محل کار به ترتیب ۰/۱، ۰/۳ و ۰/۲۵ است.

(ا) احتمال آن که این شخصی به موقع در محل کار حاضر شود چقدر است؟

(ب) اگر این شخص در یک روز خاص به موقع در محل کار حاضر شده باشد، با چه احتمالی از تاکسی استفاده کرده است؟

۱۴۳. فرض کنید از بین چهار کارت با شماره‌های ۱ تا ۴، گارتی را به تصادف انتخاب می‌کنیم و سپس سکه‌ای را به تعداد عدد کارت پرتاب می‌کنیم. اگر دقیقاً یک بار «رو» بیاید، احتمال این که شماره کارت خارج شده ۴ باشد، چقدر است؟

(مطالعه تمرین ۱۶ صفحه ۷۷ کتاب ریاضی)

۱۴۴. ۷۰ درصد واجدین شرایط در شهر A و ۸۰ درصد واجدین شرایط در شهر B در انتخابات شورای شهر شرکت کرده‌اند. اگر تعداد واجدین شرایط شهر B ، دو برابر تعداد واجدین شرایط شهر A باشد و فردی به تصادف از بین رأی‌دهندگان این دو شهر انتخاب شود، به چه احتمالی از شهر A می‌باشد؟

(مطالعه تمرین ۱۰ صفحه ۷۵ کتاب ریاضی)

۱۴۵. در یک کارخانه ماشین A ، ۳۵ درصد، ماشین B ، ۴۵ درصد و ماشین C ، ۲۰ درصد از کالاهای کارخانه را تولید می‌کنند. ۲ درصد از تولیدات ماشین A ، ۴ درصد از تولیدات ماشین B و ۱/۵ درصد از تولیدات ماشین C معیوب است. گالایی از این کارخانه به تصادف انتخاب کرده و ملاحظه می‌کنیم، معیوب است. احتمال این که کالا از ماشین C باشد، چقدر است؟

۱۴۶. در یک دبیرستان متوسطه دوم، ۵۰ درصد دانش‌آموزان کلاس دهم، ۳۰ درصد دانش‌آموزان کلاس یازدهم و بقیه دانش‌آموزان کلاس دوازدهم هستند. ۸۰ درصد کلاس دهم، ۹۰ درصد کلاس یازدهم و ۷۰ درصد کلاس دوازدهم دارای معدل بالای ۱۷ هستند. فردی به تصادف از دانش‌آموزان این دبیرستان انتخاب می‌کنیم. اگر معدل این فرد بالای ۱۷ باشد، با چه احتمالی این فرد از دانش‌آموزان کلاس یازدهم است؟

اگر A پیشامدی باشد که مجموع دو تاس برابر 8 باشد، آن گاه:

$$A \cap B = \{(5, 3)\} \Rightarrow n(A \cap B) = 1$$

$$\Rightarrow P(A|B) = \frac{n(A \cap B)}{n(B)} = \frac{1}{6}$$

۱۱۹

اگر B پیشامدی باشد که در آن دقیقاً ۳ فرزند از ۴ فرزند این خانواده دختر باشد، آن گاه:

$$B = \{(5, 5, 5), (5, 5, 3), (5, 3, 5), (3, 5, 5)\}$$

$$\Rightarrow n(B) = 4$$

اگر A پیشامدی باشد که در آن فرزند اول این خانواده پسر باشد، آن گاه:

$$A \cap B = \{(5, 5, 3), (5, 3, 5)\} \Rightarrow n(A \cap B) = 2$$

$$\Rightarrow P(A|B) = \frac{n(A \cap B)}{n(B)} = \frac{2}{4}$$

۱۲۰

اگر A پیشامد رو آمدن در ۳ پرتاب از ۳ پرتاب و B پیشامد آن باشد که دستکم یک بار «پشت» آمده باشد، باید مقدار $P(A|B)$ را به دست آوریم. برای محاسبه $n(B)$ از پیشامد متمم استفاده می‌کنیم:

$$B' \Rightarrow B' = \{(r, r, r)\}$$

$$\Rightarrow n(B) = n(S) - n(B') = 8 - 1 = 7$$

$$A \cap B = \{(r, r, p), (r, p, r), (p, r, r)\}$$

$$\Rightarrow n(A \cap B) = 3 \Rightarrow P(A|B) = \frac{3}{7}$$

۱۲۱

B : حداقل دو مهره خارج شده سفید باشد.

$$n(B) = \binom{4}{2} \binom{4}{1} + \binom{4}{3} = 6 \times 4 + 4 = 28$$

هر سه مهره سفید ۲ مهره سفید و ۱ مهره غیرسفید

A : دقیقاً ۲ مهره خارج شده سفید باشد.

$$n(A \cap B) = \binom{4}{2} \binom{4}{1} = 6 \times 4 = 24$$

$$\Rightarrow P(A|B) = \frac{n(A \cap B)}{n(B)} = \frac{24}{28} = \frac{12}{14}$$

B : سه مهره خارج شده همرنگ باشد.
هر سه مهره سیاه

$$\Rightarrow n(B) = \binom{4}{3} + \binom{4}{2} + \binom{4}{1} = 4 + 6 + 4 = 14$$

A : هر سه مهره سفید باشند. هر سه مهره زرد

$$\Rightarrow n(A \cap B) = \binom{4}{3} = 4 \Rightarrow P(A|B) = \frac{n(A \cap B)}{n(B)} = \frac{4}{14}$$

B : دقیقاً یکی از مهره‌های خارج شده سیاه باشد.

$$\Rightarrow n(B) = \binom{5}{1} \binom{4}{2} = 5 \times 6 = 30$$

یک مهره سیاه و دو مهره غیرسیاه

$$n(A \cap B) = \binom{4}{1} \binom{5}{2} = 4 \times 10 = 40$$

A : رنگ مهره‌ها متفاوت باشند.

$$\Rightarrow P(A|B) = \frac{n(A \cap B)}{n(B)} = \frac{4 \times 10 \times 2}{6 \times 30} = \frac{4}{9}$$

$$P(S) = 1 \Rightarrow P(1) + P(2) + P(3) + P(4) = 1 \Rightarrow x + 4x + 7x + 10x = 1$$

$$\Rightarrow 22x = 1 \Rightarrow x = \frac{1}{22}$$

$$\Rightarrow P(1) = \frac{1}{22}, P(2) = \frac{4}{22}, P(3) = \frac{7}{22}, P(4) = \frac{10}{22}$$

B : احتمال اصابت تیر به ناحیه اول یا چهارم.

$$P(1) + P(4) = \frac{1}{22} + \frac{10}{22} = \frac{11}{22}$$

احتمال اصابت تیر به ناحیه دوم یا سوم:

$$P(2) + P(3) = \frac{4}{22} + \frac{7}{22} = \frac{11}{22}$$

در نتیجه احتمال اصابت تیر به ناحیه اول یا چهارم با احتمال اصابت تیر به ناحیه دوم یا سوم برابر است.

۱۱۶

اگر $P(x) = w$ را جمله اول دنباله هندسی در نظر بگیریم، دو جمله

$$P(y) = \frac{1}{4}w \text{ و } P(z) = \frac{1}{16}w \text{ می‌باشد.}$$

از تساوی $P(S) = 1$ داریم:

$$P(x) + P(y) + P(z) = 1 \Rightarrow w + \frac{1}{4}w + \frac{1}{16}w = 1$$

$$\xrightarrow{\times 16} 16w + 4w + w = 16 \Rightarrow 21w = 16 \Rightarrow w = \frac{16}{21}$$

در نتیجه $P(x) = \frac{16}{21}$, $P(y) = \frac{4}{21}$ و $P(z) = \frac{1}{21}$ می‌باشد.

۱۱۷

جمله عمومی دنباله حسابی با جمله اول t_1 و قدرنسبت d برابر

$$t_n = t_1 + (n-1)d \text{ است. اگر } P(a) \text{ را برابر } x \text{ فرض کنیم، آن گاه داریم:}$$

$$P(a) = x \Rightarrow P(b) = x + d = x + \frac{1}{10}$$

$$P(c) = x + 2d = x + \frac{2}{10}, P(d) = x + 3d = x + \frac{3}{10}$$

از طرفی $P(a) + P(b) + P(c) + P(d) = 1$ می‌باشد، بنابراین:

$$x + (x + \frac{1}{10}) + (x + \frac{2}{10}) + (x + \frac{3}{10}) = 1 \Rightarrow 4x + \frac{6}{10} = 1$$

$$\Rightarrow 4x = 1 - \frac{6}{10} = \frac{4}{10} \Rightarrow x = \frac{1}{10}$$

$$\Rightarrow P((a \cdot c)) = P(a) + P(c) = x + (x + \frac{2}{10})$$

$$= 2x + \frac{2}{10} = \frac{2}{10} + \frac{2}{10} = \frac{4}{10}$$

۱۱۸

اگر B پیشامدی باشد که در آن مجموع دو تاس 8 باشد، آن گاه داریم:

(عدد اولی را عدد تاس سفید و عدد دومی را عدد تاس سیاه در نظر می‌گیریم.)

$$B = \{(2, 6), (3, 5), (4, 4), (5, 3), (6, 2)\} \Rightarrow n(B) = 5$$

اگر A پیشامد رو شدن عدد ۵ برای تاس سفید باشد، آن گاه:

$$A \cap B = \{(5, 3)\} \Rightarrow n(A \cap B) = 1$$

$$\Rightarrow P(A|B) = \frac{n(A \cap B)}{n(B)} = \frac{1}{5}$$

B : اگر B پیشامدی باشد که در آن عدد تاس سفید ۵ باشد، آن گاه:

$$B = \{(5, 1), (5, 2), (5, 3), (5, 4), (5, 5), (5, 6)\} \Rightarrow n(B) = 6$$